

第一部分 常识判断

根据题目要求，在四个选项中至少选出一个答案。

请开始答题：

- （不定项选择）“一切从实际出发，实事求是”的哲学依据是（ ）。
A. 世界的物质统一性
B. 意识对物质的反作用
C. 运动的绝对性
D. 对立统一规律
- （不定项选择）“居安思危”这句话所包含的哲学道理是（ ）。
A. 矛盾双方在一定条件下相互转化
B. 事物是运动变化的
C. 矛盾双方的对立统一是不可分割的
D. 量变达到一定程度会发生质变
- （不定项选择）“三个代表”重要思想是（ ）。
A. 立党之本
B. 执政之基
C. 力量之源
D. 强国之策
- （不定项选择）“十五”计划的根本出发点是坚持（ ）。
A. 改革开放和科技进步
B. 发展和结构调整
C. 经济和社会协调发展
D. 不断提高人民的物质和文化生活水平
- （不定项选择）党的十六大报告提出，深化行政管理体制改革，形成（ ）的行政管理体制。
A. 行为协调、运转规范、公正透明、廉洁高效
B. 行为规范、运转协调、公正透明、廉洁高效
C. 精简统一、结构优化、职能合理、廉洁高效
D. 行为规范、运转协调、公正合理、廉洁高效
- （不定项选择）建立社会主义市场经济体制，就是要使市场在国家宏观调控下（ ）。
A. 对社会资源的配置起基础性作用
B. 对生产资料的配置起基础性作用
C. 对生产力的配置起基础性作用
D. 对消费资料的配置起基础性作用
- （不定项选择）市场的基本功能是（ ）。
A. 激励功能
B. 调节功能
C. 评估功能
D. 配置社会资源的功能
- （不定项选择）实施可持续发展战略，要注重（ ）。
A. 控制经济发展的速度
B. 坚持计划生育的基本国策
C. 实施资源开发与节约并重的战略方针
D. 实施保护与治理环境并举的战略方针
- （不定项选择）围绕组织目标，制定实施方案。在政府管理运行中所处的阶段为（ ）。
A. 组织职能
B. 计划职能
C. 领导职能
D. 控制职能
- （不定项选择）我国行政管理的行政总体职能，可概括为（ ）。
A. 政治经济职能
B. 文化教育职能
C. 科技管理职能
D. 社会服务职能
- （不定项选择）行政赔偿诉讼中的举证责任承担方式是（ ）。
A. 由被告承担
B. 由法院调查取证
C. 依照民事诉讼法规定
D. 由原告承担
- （不定项选择）法与政治的关系是（ ）。
A. 法服务于政治
B. 法受政治制约
C. 政治体制改革制约法的内容及其发展变化
D. 二者没有任何区别
- （不定项选择）社会主义法制是社会主义民主的（ ）。

- A. 前提
B. 确认
C. 基础
D. 保障
14. (不定项选择) 影响与制约政策职能的要素主要有 ()。
A. 社会环境的变迁
B. 公共行政的科学化
C. 公共行政手段的创新
D. 行政文化的影响
15. (不定项选择) 公务员队伍建设专业化的基本特征是 ()。
A. 身份专门化、职业身份化、素质专业化
B. 身份职业化、职业专门化、素质专业化
C. 身份职业化、职业专门化、知识和能力专业化
D. 身份专门化、职业身份化、知识和能力专业化
16. (不定项选择) 下列属于行政复议的基本原则的是 ()。
A. 公开原则
B. 合理原则
C. 及时原则
D. 便民原则
17. (不定项选择) 针对行政机关作出的下列行为处罚, 当事人可以要求听证的是 ()。
A. 罚款
B. 通报批评
C. 行政拘留
D. 责令停产停业
18. (不定项选择) 按网络覆盖的地理范围来细致区分, 计算机网络主要可分为 ()。
A. 局域网
B. 地域网
C. 广域网
D. 全球网
19. (不定项选择) 国家工作人员发现国家秘密已经泄露或者可能泄露时, 应当 ()。
A. 立即向本单位领导报告
B. 立即向公安局报警, 保护现场
C. 立即采取补救措施, 并报告有关保密工作部门
D. 立即报告国家安全部门
20. (不定项选择) 以下关于中国传统文化中“五行”相生相克规律的叙述, 正确的是 ()。
A. 土生金, 金生水
B. 木生火, 水生气
C. 木克土, 水克火
D. 土克火, 火克木
21. (不定项选择) 随着计算机技术的发展和广泛运用, 人们的生产条件、工作条件以及生活方式和生活质量正在发生深刻的革命, 人们把这三者的变化称之为“三 A 革命”。“三 A 革命”具体内容是 ()。
A. 工厂自动化、办公室自动化、家庭自动化
B. 工厂自动化、社会网络化、通讯信息化
C. 生产智能化、购物网络化、教育远程化
D. 社会网络化、生产智能化、家庭电子化
22. (不定项选择) 晚清时期第二次西学东渐, 西方近代科学技术不断由上海传入中国, 上海成了我国近代科学技术的策源地, 有许多翻译出版机构翻译出版西方的科学技术书籍, 传播西方科学技术。当时翻译出版西方科技书籍的翻译出版机构是 ()。
A. 墨海书馆
B. 益智书会
C. 土山湾印书馆
D. 江南制造局翻译馆
23. (不定项选择) 以深海采掘、海水和海洋空间利用为标志的海洋技术将成为 21 世纪人类向内拓展的一个计划。海洋是一个大宝库, 它为人类提供了丰富的 ()。
A. 水利资源
B. 矿产资料
C. 化学资源
D. 生物资源

24. (不定项选择) 人类基因组研究是当前国际生物学界最前沿的研究领域。它对人类的医疗、健康具有重要意义。人类基因组研究计划的任务可以说有两个：一是“读出”人类基因组全部核苷酸的腺嘌呤(A)、胸腺嘧啶(T)、胞嘧啶(C)、鸟嘌呤(G)语言，即把人类基因组的排序搞清楚；二是“读懂”人类基因组全部的A、T、C、G语言，即“破译天书”。现在人类基因组计划工作已完成()。
- A. 人类基因组序列全部的测序任务，即完成全部“终图”
 B. “破译天书”任务
 C. 人类基因组序列测序的总体框架图以及局部“终图”
 D. 全部“终图”和“破译天书”任务

25. (不定项选择) 我国渔民历来就有利用浅海、港湾和滩涂进行鱼、虾、贝和藻类养殖的习惯。早在1994年全国海水养殖产量已达到250多万吨。我国海水养殖产量在世界上名列()。
- A. 第一
 B. 第二
 C. 第三
 D. 第四

阅读下列材料，回答下面的题目。

A市文化局与公安局联合检查，查获该市东城区个体户包某从外地运回的一批价值10万元的盗版光盘。市文化局和公安局便依法对这批光盘予以扣押，并以共同名义对包某作出5万元的罚款决定。次日A市东城区工商局吊销了包某的营业执照，东城区公安分局委托该区某派出所对包某予以10天行政拘留的处罚。包某不服上述行政处罚。

26. (不定项选择) 根据行政处罚法规定，上述处罚决定，哪些需要经过听证程序作出？()
- A. 联合检查
 B. 扣押
 C. 吊销营业执照
 D. 罚款5万元
27. (不定项选择) 包某若申请行政复议，复议机关应为()。
- A. 市人民政府
 B. 东城区政府
 C. 市文化局
 D. 市公安局
28. (不定项选择) 包某若对行政拘留不服能否直接起诉？()
- A. 可以
 B. 不可以
 C. 应该先复议再起诉
 D. 只可以复议
29. (不定项选择) 本案中的“扣押”属于()。
- A. 行政强制执行
 B. 行政处罚
 C. 行政强制措施
 D. 行政确认

阅读下列材料，回答下面的题目。

我国国民经济和社会发展第十个五年计划指出，世纪之交，我国胜利实现了现代化建设的第二步战略目标，经济和社会全面发展，人民生活总体上达到了小康水平。从新世纪开始，我国将进入全面建设小康社会，加快推进社会主义现代化的新的发展阶段。……经过二十多年的改革开放和发展，我国社会生产力、综合国力和人民生活水平都上了一个大台阶，市场供求关系、体制环境和对外关系发生了重大变化，为开始实施现代化第三步战略部署奠定了良好的基础。

30. (不定项选择) 我国“二十多年的改革开放和发展”的成就说明()。
- A. 改革是社会主义的发展动力
 B. 开放是社会主义的发展基础
 C. 必须坚持以经济建设为中心不动摇
 D. 必须坚持把结构调整作为主线
31. (不定项选择) “我国经济发展的体制环境发生了重大变化”是指()。
- A. 从自然经济向商品经济的重大变化
 B. 从计划经济向市场经济的重大变化
 C. 从指令性计划向指导性计划的重大变化
 D. 从粗放型向集约型的重大变化

32. (不定项选择) 我国“实施第三步战略部署”的目标是 ()。
- A. 到 21 世纪中叶, 人均国民生产总值达到中等发达国家水平
 - B. 到 21 世纪中叶, 人均国民生产总值达到发达国家水平
 - C. 基本实现现代化
 - D. 建成富强民主文明的社会主义国家
33. (不定项选择) 这段文字所叙述的事实昭示了下列马克思主义的真理 ()。
- A. 生产力是社会发展的原动力
 - B. 生产关系一定要适合生产力的状况
 - C. 事物发展的质量互变规律
 - D. 社会主义生产目的是满足人民群众物质和文化的需要
- 阅读下列材料, 回答下面的题目。

一向在某政府机关里能说会道、上下左右都能应酬的副科级公务员小王, 在机关年度考核中被确定为不称职, 可以说是某机关近日来的一条新闻。不过, 令一些人不理解的是, 小王实在也不是那种没有能力、不会做事的人。譬如说, 在每次的政治学习时, 小王总是积极发言, 他经常自称是最能理解党的方针政策的人, 而且他一向表示, 他坚决拥护党的方针政策, 事实上他也没有任何政治上不成熟的表现。在工作能力和业务水平方面, 他也有一定基础, 唯一不足的是, 与其他少数年轻人一样, 他往往好高骛远, 眼高手低, 因而大事做不来, 小事又不做, 所以尽管他具有一定的工作基础, 但是却往往做不出工作绩效。然而无论如何, 一些人认为他被定为不称职似乎有些过分。小王本人对此人事处理决定也不服, 提出了申诉。

34. (不定项选择) 根据《国家公务员暂行条例》的规定, 下列说法中, 正确的有 ()。
- A. 年度考核内容分为德、能、勤、绩四个方面, 重点考核工作实绩
 - B. 年度考核内容分为德、能、勤、绩四个方面, 重点考核政治表现和工作实绩
 - C. 年度考核结果分为优秀、称职、不称职三个等次
 - D. 年度考核结果分为优秀、称职、基本称职、不称职四个等次
35. (不定项选择) 根据《国家公务员考核暂行规定》, 不称职等次的基本标准是 ()。
- A. 政治、业务素质比较差, 难以适应工作要求
 - B. 或工作责任心不强, 不能完成工作任务
 - C. 或不遵守工作纪律
 - D. 或在工作中造成严重失误
36. (不定项选择) 下列说法中, 你认为正确的有 ()。
- A. 根据公务员考核规定和小王表现, 小王被确定为不称职, 并予以辞退
 - B. 根据公务员考核规定和小王表现, 小王被确定为不称职, 并予以降级
 - C. 根据公务员考核规定和小王表现, 小王被确定为不称职, 并予以降级
 - D. 根据公务员考核规定和小王表现, 小王被确定为基本称职
37. (不定项选择) 根据国家公务员申诉的规定, 下列说法中, 正确的有 ()。
- A. 小王对涉及本人的人事处理决定不服, 可以向原处理机关申请复核
 - B. 小王对涉及本人的人事处理决定不服, 也可以向同级人民政府人事部门提出申诉
 - C. 小王对涉及本人的人事处理决定不服, 也可以向上级人民政府人事部门提出申诉
 - D. 小王对涉及本人的人事处理决定不服, 也可以向有管辖权的行政监察机关提出申诉
- 阅读下列材料, 回答下面的题目。

江泽民同志在党的十六大报告中指出, 加强党的执政能力建设, 提高党的领导水平和执政水平, ……必须坚持按照客观规律和科学规律办事, 及时研究解决改革和建设中的新情况新问题, 善于抓住机遇加快发展, 不断提高驾驭市场经济的能力。

38. (不定项选择) 按照规律办事, 说明了规律的本质是 ()。

- A. 主观的
 - B. 客观的
 - C. 可知的
 - D. 必然性的
39. (不定项选择) 按照规律办事, 体现了 () 精神。
- A. 主观符合客观的
 - B. 辩证唯物论
 - C. 主观能动性
 - D. 偶然性决定一切的
40. (不定项选择) 善于抓住机遇加快发展, 说明了 () 原理。
- A. 外因是根据
 - B. 偶然性
 - C. 唯条件论
 - D. 有条件论
41. (不定项选择) 善于抓住机遇加快发展, 体现了机遇具有 () 。
- A. 斗争性
 - B. 客观性
 - C. 必然性
 - D. 排斥性

阅读下列材料, 回答下面的题目。

S市某区工商管理局为了更好地培训工商管理人才, 拟在近郊新建一个培训基地, 并需征用一部分土地和解决培训基础工作人员编制若干, 经局领导研究决定, 向上级机关呈送一份公文。希望能批准新建这个培训基地, 同时, 要求解决培训基地的人员编制、征用土地以及经费等问题。此份公文起草后由局办公室主任签发, 并派专人送到上级机关主要领导家中, 同时, 将文件抄送给区人民政府和该局下属单位。但事隔不久, 该份文件即被上级机关领导退回, 文件上有上级机关领导的批示, 大意是认为他们的想法很好, 新建培训基地是必要的, 但此事应按正常的渠道办理。

42. (不定项选择) 材料中的公文主送机关是 () 。
- A. 市人民政府
 - B. 市工商管理局
 - C. 区人民政府
 - D. 市工商局和区人民政府
43. (不定项选择) 该公文的文体应是 () 。
- A. 请示
 - B. 报告
 - C. 函
 - D. 意见
44. (不定项选择) 该公文的签发人应是 () 。
- A. 市工商局局长
 - B. 区工商局局长
 - C. 区工商局办公室主任
 - D. 区工商局副局长
45. (不定项选择) 该材料的不规范之处有 () 。
- A. 传递渠道不对
 - B. 人员编制应另行文
 - C. 抄送机关不对
 - D. 越级呈送公文

第二部分 言语理解与表达

本部分包括表达与理解两方面的内容。请根据题目要求，在四个选项中选出一个最恰当的答案。

请开始答题：

46. 这种技术装置的进一步____，将可以用来自动控制宇宙飞船下降阶段的制导。
填入划横线部分最恰当的一项是（ ）。
- A. 完备
B. 改善
C. 完善
D. 改正
47. 今日____到府上打扰，实在是不得已。
填入划横线部分最恰当的一项是（ ）。
- A. 毅然
B. 猝然
C. 贸然
D. 居然
48. 就把这作为将军的遗骸，派人送回祖国去____吧。
填入划横线部分最恰当的一项是（ ）。
- A. 掩埋
B. 安葬
C. 埋葬
D. 安放
49. 一个人坚强还是____，诚实还是____，文明还是____，文雅还是____，温柔还是____，猥琐还是____，严谨还是____，慷慨还是____，这一切是别的职能不大好管，不便多管的，是任何政策、法律难以规定的。
依次填入划横线部分最恰当的一项是（ ）。
- A. 懦弱 虚伪 粗俗 粗野 粗鲁 粗率 粗犷 自私
B. 懦弱 虚伪 粗野 粗俗 粗暴 粗犷 粗率 自私
C. 软弱 虚伪 野蛮 粗犷 粗暴 粗率 粗心 吝啬
D. 软弱 虚伪 粗鲁 粗暴 粗犷 粗野 粗心 吝啬
50. ①我去陈先生塾馆____上学是在 1940 年农历二月初十。
②大体言之，在世界文化史上，文明中心已经历了三次大的____。
③“价值”最初是在商品交换中____出来的一个经济学概念。
依次填入划横线部分最恰当的一项是（ ）。
- A. 启蒙 转移 概括
B. 开蒙 转移 抽象
C. 开蒙 迁移 抽象
D. 启蒙 迁移 概括
51. ①急剧的时代____引起人们的心理失衡，是当今几乎每个中国人都会体验到的生存现实。
②今年我国法官将摘下大沿帽，披上法官袍。法官制服的改换，体现了法学观念的____。
③通过合理调配和技术改造，____提高了，大伙的干劲更高了。
依次填入划横线部分最恰当的一项是（ ）。
- A. 变迁 退变 功效
B. 变迁 蜕变 工效
C. 变革 退变 工效
D. 变革 蜕变 功效
52. ①工作中要多听取群众意见，____主观、武断。
②和当事人有亲戚关系的人员应当____，不要插手处理这个问题。
③他从来不____困难和危险。
依次填入划横线部分最恰当的一项是（ ）。
- A. 避免 避嫌 躲避
B. 避免 避讳 躲避

C. 以免 退避 回避

D. 避开 避嫌 回避

53. ①我们有必要到总公司所属的单位进行一次普遍的_____，以确定体制改革的方案。

②近一个时期，在西方国家的报刊上，经济“非常落后”、“贫穷得连裤子都穿不上”的中国人，突然变成世界“第三经济大国”的大富翁，这样的评论岂不是_____吗？

③“四人帮”迫害老干部靠的就是拨弄事非、无中生有，整天_____，进行人身攻击。

④唐太宗虽文韬武略，治国有方，却仍能礼贤下士，采纳_____，所以才使唐王朝长盛不衰。依次填入划横线部分最恰当的一项是（ ）。

A. 调研 翻云覆雨 唇枪舌剑 美芹之献 B. 调查 出尔反尔 摇唇鼓舌 刍荛之见

C. 调查 出尔反尔 唇枪舌剑 刍荛之见 D. 调研 翻云覆雨 摇唇鼓舌 美芹之献

54. ①亚洲金融风暴在全世界引起的_____已经造成了俄罗斯经济和全球股市的下滑。

②中国的书_____，倘若要找一本僻书来考人，不要说是中学生大学生，就是专家教授也要被考倒的。

③它既要字斟句酌、语句明确，也要铿锵悦耳。这就是说_____，广播里的话，也是很好的散文。

依次填入划横线部分最恰当的一项是（ ）。

A. 震荡 浩如烟海 引人入胜

B. 震荡 汗牛充栋 掷地有声

C. 震撼 蔚为大观 不同凡响

D. 震动 包罗万象 振聋发聩

55. “我欲乘风归去，又恐琼楼玉宇，高处不胜寒。”这是苏轼《水调歌头》中的一段。这位

_____“思飘去物外”的诗人，_____早在宋代就晓得月中宫殿比大地寒冷，这真是了不起的

事。现代科学表明，当平原上酷暑摄氏四十度时，珠穆朗玛峰的气温却低至摄氏零下几十度。

在长空中_____的人造卫星，其背阳面的气温低到摄氏零下几十度，果然是“高处不胜寒”！

依次填入划横线部分最恰当的一项是（ ）。

A. 通晓 竟然 漫游

B. 擅长 果然 畅游

C. 擅长 居然 遨游

D. 通晓 竟然 遨游

56. “××区的××商场服务之差是有口皆碑的，但是综合性商场只此一家，并无分店，怎么办呢？”

此句的语病是（ ）。

A. 成语“有口皆碑”是褒义词，用在这里明显不当

B. “服务之差”含义不明，“服务”之后应补上“态度”一词

C. “但是”之后的话与前面一句并无转折关系

D. 不该用“××”，应明确写出区名和商场的名字

57. 下边词序正确的一句是（ ）。

A. 你要深挖思想根源，因为你的错误已不简单的是什么思想认识问题了

B. 你要深挖思想根源，因为你的错误已不是什么简单的思想认识问题了

C. 你要深挖思想根源，因为你的错误已不是什么简单认识的思想问题了

D. 你要深挖思想根源，因为你的错误已不是什么思想认识的简单问题了

58. 填入括号内正确的一项是（ ）。

命运，其实是公平的，它遵循一条鲜为人知的补偿法则，它青睐那些不断拼搏的强者，

（ ），但收获也多。

A. 强者在生活中失去最多

B. 强者尽管在生活中失去很多

C. 虽然生活让强者失去太多

D. 虽然生活中失去很多的强者

59. 下列各句中，在括号内的成语使用恰当的一句是（ ）。

A. 绵延起伏的天山群峰，像横亘南北的万里长城，雄伟、壮丽，（气吞山河）。

B. 在澳函大桥上，几乎每个月都有输得血本无归的赌徒纵身跳入大海，但世界各地的赌徒仍然“前仆后继”，指望在赌场（火中取栗）。

C. 入夏以来，长江流域、黑龙江流域洪峰连连，水患不断。（沧海横流）方显英雄本色，人民子弟兵用自己的生命谱写了一曲气壮山河的抗洪曲。

D. 在市场销售持续疲软的情况下，不少企业却能扭亏为盈，求得生机和发展，这与大刀阔斧、（洗心革面）的改革是密切相关的。

60. 校有关领导一致反对，以举手的方式表决是否采纳中文系班主任关于废除禁止男生以任何理由进入女生宿舍的不合理规定的建议。

中文系班主任是否赞成不让男生进入女生宿舍？（ ）。

- A. 不赞成
B. 未置可否
C. 赞成
D. 无法判断

61. 在“为了……制定本办法。”一句的省略号部分填入下列六个状语，顺序最恰当的是（ ）。

- ①促进采矿业的发展
②防止矿山事故
③结合北京实际情况
④保障矿山生产安全
⑤保护矿山职工人身安全
⑥根据《中华人民共和国矿山安全法》

- A. ①②⑤④③⑥
B. ⑤④②①⑥③
C. ④②⑤①⑥③
D. ②④⑤①③⑥

62. 下列各句中没有语病、句意明确的一句是（ ）。

- A. 县里的通知说，让赵乡长本月 15 日前去汇报。
B. 睡前三忌：一忌睡前不可恼怒，二忌睡前不可饱食，三忌卧处不可当风。
C. 文件对经济领域中的一些问题，从理论上和政策上作了详细的规定和深刻的说明。
D. 一个好的比喻，或为形似，或为形神兼似，总是离不开相似这一根本特点。

63. 下列句子中没有语病的一句是（ ）。

- A. 铜、铅、锌被禁锢在火山岩凝固成的石头里，所以一般要发现它们是比较困难的。
B. 他们谩骂法院执行人员，殴打执行公务的干警，这实属是藐视国家法律尊严与权威的违法行为。
C. 目前一些学校成立的学生行为自律仲裁庭是一种不同于传统灌输式教育的、别开生面的教育手段。
D. 强调生活的教育意义，并不意味着可用生活取代教育，因为生活毕竟带有零散性，并且还含有消极的东西。

64. 下列各句中没有语病的一句是（ ）。

- A. 专家认为，军队建设要根据国家的现实经济状况出发，控制军队员额及武器装备的数量，努力建设一支精干的、机动灵活的现代化军队。
B. 我们要改变传统的学历本位的人才价值取向观念，树立起能力本位的人才价值多元取向的现代理念。
C. 台湾当局公布的有关大陆记者赴台驻点采访的规定有很多不合理的限制，在办证、登记、申请、采访等诸多环节上都给大陆记者赴台采访造成很多不便。
D. 在安徽省文物考古研究所对南京—西安铁路建设沿线地下文物进行抢救性发掘时，在堰墩发现了西周中晚期的村落遗址。

65. 下列各句中没有语病、句意明确的一句是（ ）。
- A. 《意见》说，各级单位领导成员间的年龄要注意拉开距离，如正职年龄在 50 岁以上，副职一定要配备 50 岁以下和 40 岁左右的同志。
- B. 只有这样，才能把文章的中心思想表达得鲜明突出，人们读了就会留下深刻印象。
- C. 如果美国政府不履行它在中美贸易协定、多种纤维品协定和纺织品协议中所承担的义务，那么，任何人也不能肯定中美两国之间的贸易会不会出现逆转。
- D. 保持香港的繁荣，希望取得英国与我们的合作，但不是说，香港继续保持繁荣必须在英国人的管辖之下才能实现。
66. 日前，上海华联家电维修公司等来自北京、上海、河南、黑龙江等地的 8 家家电服务企业聚集京城，打着“我是中国家电服务商”的旗帜，欲做这一新兴行业的领头羊。目前全国每年销售彩电 2000 万台，以 1500 元一台和 1% 的服务费计算，彩电服务这块就有了 3 个亿的市场。这段报导传达了这样一个信息，即（ ）。
- A. 全国 8 家家电服务企业抢滩京城市场 B. 家电维修服务将成为崛起的新兴产业
- C. 彩电售后服务有广阔的市场 D. 应当重视家电的质量
67. 老虎窗，坡屋顶，崭新的立面，七彩的灯光，“平改坡”——上海为老式多层住宅“戴帽穿衣”的工程，经过两年多的实践已成为都市新的风景。以下最能复述这段话主要意思的是（ ）。
- A. “平改坡”的特点是老虎窗、坡屋顶、漂亮的外墙色彩和七彩的灯光
- B. “平改坡”后的上海老式多层住宅已成为上海新的风景
- C. 上海为老式多层住宅“戴帽穿衣”工程经过两年多努力已胜利完成
- D. 上海为老式多层住宅“戴帽穿衣”工程的特点是老虎窗、坡屋顶、崭新立面、七彩灯光
68. 这么说，比如汽车推销商，对于这些大学毕业等学历高的顾客，在某种程度上既要讲车的缺点又要强调它的优点；对于学历低的人要尽量强调长处。对于那些在某种程度上有独立见解的人，如果光讲长处，说得过于完美，反而会引起他们的疑心，而产生一种相反的看法。以下最能复述这段话主要意思的是（ ）。
- A. 根据不同情况有选择地对顾客说出优缺点，是汽车销售成功的一个重要因素
- B. 光讲长处并非都可以成功，清楚说出商品的缺点，反而会取得信任
- C. 对学历低的顾客，少讲缺点，容易获得信任；而对学历高的顾客，强调缺点，更能获得信任
- D. 根据商品和顾客的不同情况，清楚说出商品的优缺点，才能获得信任
69. 随着科学、技术、经济、社会的发展和人们认识的提高，软科学作为独立的科学而受到普遍重视。在世界范围内，从当前的发展速度看，必将在广泛的领域发挥越来越大的作用。这段话强调了（ ）。
- A. 人们对软科学重要性的认识在不断提高 B. 软科学当前飞速发展的原因及前景
- C. 软科学发展的原因及前景 D. 人们重视软科学的原因
70. 继续教育必须有相应的形式与之配套，否则继续教育就成了空话。虽有许多人自学成才，但更有无数不学无术的混混，如何从业务进修的管理方面对他们实施督促，决不是可有可无的事情。现有的成人学历教育，很多已经沦为混文凭。不听课、抄作业、抄答卷，弄虚作假的这一套，会把我们送到亡国的地步去的。这段话反映了这样一个信息，即（ ）。
- A. 成人学历教育有危机 B. 继续教育要有一定的配套形式
- C. 成人学历教育中有无数人在混文凭 D. 继续教育中弄虚作假的做法会让我们亡国

71. 战争的历史与人类社会的历史一样久远，不同的社会生产力水平规定了战争的动力和内容，也规定了战争的形式与规模，当 20 世纪初社会生产力和资本的规模已遍布全球，资本主义列强已结成覆盖全球的利益关系网时，他们之间的竞争与争夺就必然会影响到全球，而为争夺霸权所引发的战争，也极易最终发展为世界大战。
这段话主要支持了这样一个论点，即（ ）。
- A. 战争的规模与形式取决于不同的社会生产力水平
 - B. 战争的起源与社会生产力水平密切相关
 - C. 世界大战是 20 世纪社会生产力和资本的规模遍布全球的产物
 - D. 战争的历史同步于人类社会发展的历史
72. 经典，是一定的时代、一定的阶级认为最重要的、有指导作用的著作。这就是说，我们必须调整自己的立场，才有可能在民间艺术中读出文化的经典之处。
这段话介绍了这样一个内容，即（ ）。
- A. 经典具有怎样的特点
 - B. 怎样才能更准确更深刻地欣赏民间艺术
 - C. 民间艺术中具有怎样的文化内涵
 - D. 明确经典的含义对欣赏民间艺术具有怎样的意义
73. 新写实小说和新历史小说专注着现实和历史的平民心态和世俗生活，以平民化甚至平庸化的社会坐标、艺术坐标、消解历史和现实生活中的主流精神和理想价值，使艺术的人文精神和作家的人文操守在瓦解中实现着某种转型。
这段话主要支持了这样一个论点，即（ ）。
- A. 专注平民心态和世俗生活是新写实小说和新历史小说的特征
 - B. 专注平民心态和世俗生活使得历史和现实生活中的主流精神和理想价值消解
 - C. 专注平民心态和世俗生活使艺术的人文精神和作家的人文操守在瓦解中转型
 - D. 在新写实小说和新历史小说中，中国传统的人文精神在悄然消失
74. 现在的招聘启事，几乎都把高学历当作必备条件，这种导向，难免会使人在“学历”和“学力”的价值观取向上往“学历”倾斜，唯高学历是图，长此以往，高校整体学力不降低才怪呢！
以下最准确复述这段话的主要意思的是（ ）。
- A. 招聘讲学历，把人们错误导向了唯高学历是图
 - B. 招聘过分讲学历，使人们轻视学力，最终将降低学历教育的水平
 - C. 招聘突出高学历，难免不使人们重视学历，最终将降低高校整体学力
 - D. 招聘必讲学历，难免不使人唯学历是图，最终将导致高校学力下降
75. 一个城市展现的文化常潜藏在语言、文字中，因为它像呼吸一样的平常，所以极易被忽略，然而它又是不可或缺的。
对这段话的最准确复述是（ ）。
- A. 一个城市的文化常常通过它的城市文学表现出来
 - B. 城市文化潜藏在语言文字中，极易被忽略
 - C. 潜藏在语言文字中的城市文化极易被忽略，但不可或缺
 - D. 潜藏着城市文化的语言文字像呼吸一样容易被忽略，但不可或缺

第三部分 数量关系

在这部分试题中，每道题呈现一段表述数字关系的文字，要求你迅速、准确地计算出答案。

请开始答题：

76. $1/2, 4/3, 9/4, 16/5, 25/6, ()$
A. $31/7$ B. $33/7$
C. $36/7$ D. $29/7$
77. $1/2, 7/9, 13/16, 19/23, 5/6, ()$
A. $10/11$ B. $11/12$
C. $31/37$ D. $33/37$
78. $1, 2, 3, 6, 12, ()$
A. 20 B. 24
C. 18 D. 36
79. $5, 7, 11, 17, ()$
A. 25 B. 24
C. 19 D. 38
80. $(3\frac{1}{6} + 1\frac{1}{4}) \div 2\frac{1}{2} \times [1 \div (3\frac{1}{5} - 2\frac{1}{20})]$ 值是 $()$ 。
A. $1\frac{37}{69}$ B. $2\frac{13}{70}$
C. $3\frac{19}{71}$ D. $4\frac{11}{75}$
81. $1+2+3+4+\dots+n=2005003$ ，则自然数 $n=()$ 。
A. 2000 B. 2001
C. 2002 D. 2003
82. 在 20°C 时 100 克水中最多能溶解 36 克食盐，从中取出食盐水 50 克，取出的溶液的浓度是 $()$ 。
A. 36.0% B. 18.0%
C. 26.5% D. 72.0%
83. 从上午十一点三十八分到当天下午一点二十三分，时钟的时针旋转的角度与分针旋转的角度之差为 $()$ 弧度。
A. 10.08 B. 7.19
C. 577.5 D. 1.75
84. 边长为 0.1 米的正六边形的面积为 $()$ 平方厘米。
A. $\frac{3\sqrt{3}}{2}$ B. $150\sqrt{3}$
C. 150 D. 3
85. 某单位共 36 人，四种血型的人数分别是：A 型 12 人，B 型 10 人，AB 型 8 人，O 型 6 人。如果从这个单位中随机地找出两个人，那么这两个人具有相同血型的概率为 $()$ 。
A. $7/45$ B. $9/45$
C. $11/45$ D. $13/45$

86. 某小组有四位男性和两位女性，六人围成一圈跳集体舞，不同的排列方法有（ ）种。
- A. 720
B. 60
C. 480
D. 120
87. 棱长为 a 的正方体 $A_1B_1C_1D_1 - ABCD$ 中，点 D_1 到面 A_1C_1CA 的距离为（ ）。
- A. a
B. $\frac{\sqrt{2}}{2}a$
C. $\sqrt{3}a$
D. $2a$
88. 菱形 $ABCD$ 的边长为 a ， $\angle A = 60^\circ$ ，沿其对角线 BD 折成 60° 的二面角，则点 A 到点 C 间的距离为（ ）。
- A. $\sqrt{3}a$
B. a
C. $\frac{\sqrt{3}}{2}a$
D. $2a$
89. 若 $f(x) = (3x+1)/(x+2)$ ，则 $f^{-1}(2)$ 的值为（ ）。
- A. 3
B. $3/2$
C. -3
D. $-3/2$
90. 假如“昨天”之后的第 15 天为星期二，则“明天”之前的第 100 天为星期几？（ ）
- A. 星期日
B. 星期三
C. 星期一
D. 星期二

第四部分 判断推理

一、事件排序：每道题给出五个事件，每个事件是以最简短语句表述的，接着给出表示事件的四种假定发生顺序的四个数字序列，请你选择其中最合乎逻辑的一种事件顺序。

请开始答题：

91. ①自行车
②婴儿车
③童车
④轮椅
⑤摩托车
A. ②④①③⑤
B. ④③①⑤②
C. ②③①⑤④
D. ④②③①⑤
92. ①伏案写作
②接受约稿
③著作出版
④列出提纲
⑤收到稿酬
A. ⑤②①④③
B. ②④①③⑤
C. ②④①⑤③
D. ⑤②④①③
93. ①来到河边
②准备钓具
③满载而归
④全家食鱼
⑤独坐
A. ②⑤①③④
B. ②①⑤③④
C. ①②⑤④③
D. ②⑤③④①
94. ①前去赴会
②迟到入座
③接到电话
④即席发言
⑤路遇熟人
A. ①②④⑤③
B. ①②③④⑤
C. ③⑤①②④
D. ③①⑤②④
95. ①独自进场
②久等不来
③友来入座
④赴约看电影
⑤低声交谈
A. ④②①③⑤
B. ②①④③⑤
C. ④①②⑤③
D. ③⑤①④②
96. ①勘察地质

②建筑施工

③设计图纸

④业主入住

⑤项目招标

A. ③⑤①②④

B. ⑤③①②④

C. ③②①④⑤

D. ①⑤③②④

97. ①参加面试

②参加笔试

③岗位培训

④劳动合同

⑤投递简历

A. ⑤②①③④

B. ②①⑤④③

C. ⑤②①④③

D. ②①⑤③④

98. ①打针服药

②下水摸鱼

③大汗淋漓

④嬉闹游戏

⑤发烧感冒

A. ④③②⑤①

B. ②③④⑤①

C. ⑤①④②③

D. ④②③①⑤

99. ①追赶坏人

②听到抓坏人的呼喊

③在马路边等人

④打报警电话

⑤转身见有人奔跑

A. ③⑤②④①

B. ③②⑤④①

C. ②④⑤①③

D. ⑤②①④③

100. ①调整策略

②实施执行

③收集信息

④获得成功

⑤制定计划

A. ③⑤②①④

B. ②①⑤④③

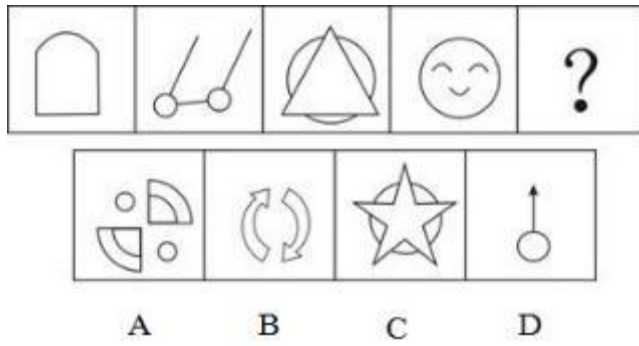
C. ⑤③②④①

D. ⑤②③①④

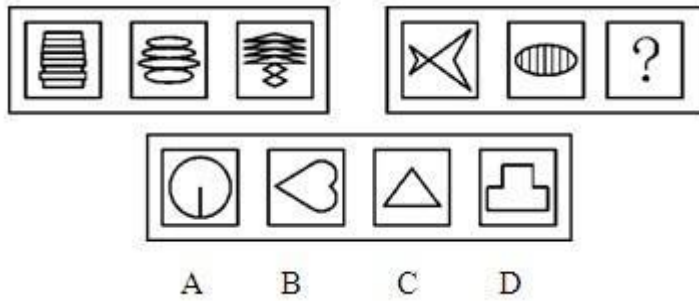
二、图形推理。请按每道题的答题要求作答。

请开始答题：

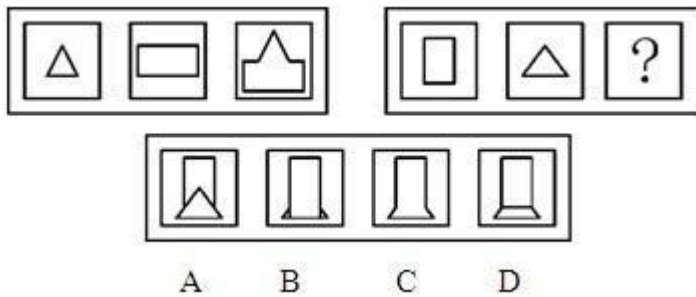
101. 从所给的四个选项中，选择最合适的一个填入问号处，使之呈现一定的规律性（ ）。



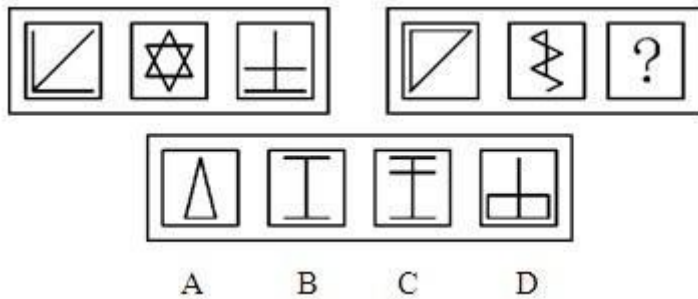
102. 从所给的四个选项中，选择最合适的一个填入问号处，使之呈现一定的规律性（ ）。



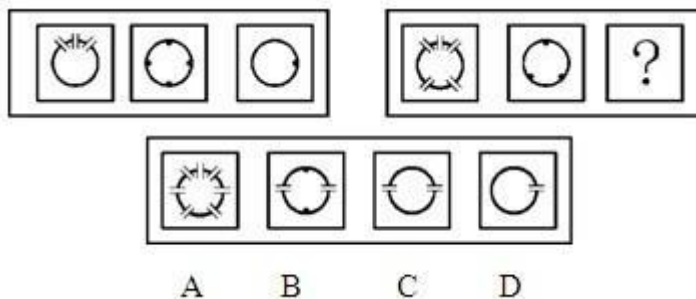
103. 从所给的四个选项中，选择最合适的一个填入问号处，使之呈现一定的规律性（ ）。



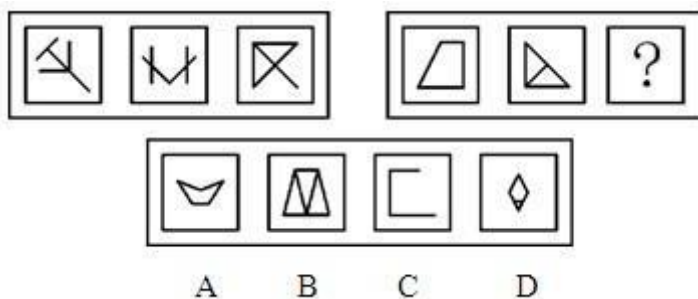
104. 从所给的四个选项中，选择最合适的一个填入问号处，使之呈现一定的规律性（ ）。



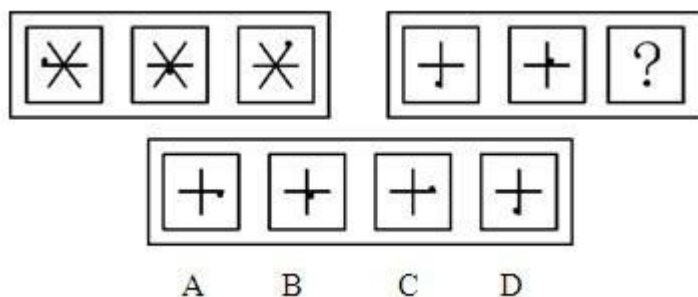
105. 从所给的四个选项中，选择最合适的一个填入问号处，使之呈现一定的规律性（ ）。



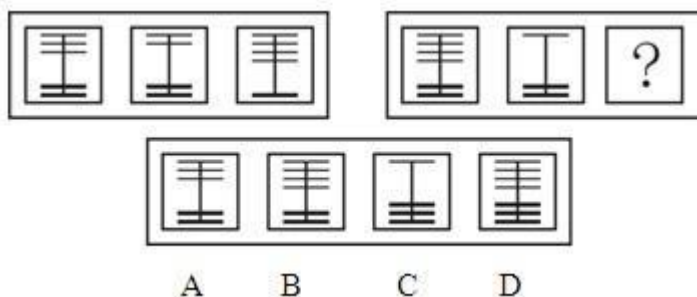
106. 从所给的四个选项中，选择最合适的一个填入问号处，使之呈现一定的规律性（ ）。



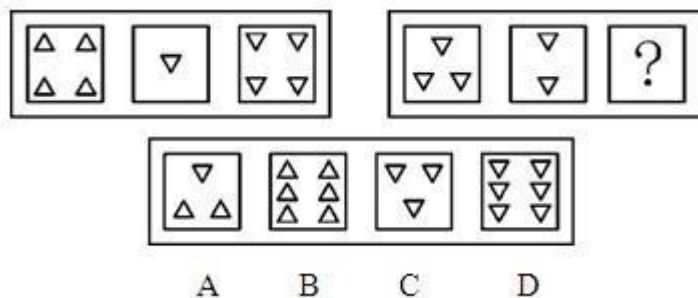
107. 从所给的四个选项中，选择最合适的一个填入问号处，使之呈现一定的规律性（ ）。



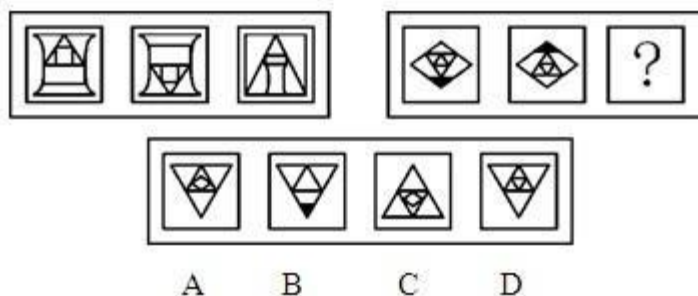
108. 从所给的四个选项中，选择最合适的一个填入问号处，使之呈现一定的规律性（ ）。



109. 从所给的四个选项中，选择最合适的一个填入问号处，使之呈现一定的规律性（ ）。



110. 从所给的四个选项中，选择最合适的一个填入问号处，使之呈现一定的规律性（ ）。



三、逻辑判断。每道题给出一段陈述，这段陈述被假设是正确的，不容置疑的。要求你根据这段陈述，选择一个答案。注意：正确的答案应与所给的陈述相符合，不需要任何附加说明即可以从陈述中直接推出。

请开始答题：

111. 有些广东人不爱吃辣椒。因此，有些南方人不爱吃辣椒。
以下哪项能保证上述论证的成立？（ ）
- A. 有些广东人爱吃辣椒
B. 爱吃辣椒的有些是南方人
C. 所有的广东人都是南方人
D. 有些广东人不爱吃辣椒也不爱吃甜食
112. 推销员：从调查表中可以看出，70%的买主喜欢 S 式房型，30%的买主喜欢 H 式房型。经理：这么说来，喜欢 S 式房型的是喜欢 H 式房型的 2.3 倍？推销员：不，还有 10%的买主说，他们二者都不喜欢。
以下哪项能最合理地解释推销员看似矛盾的话语？（ ）
- A. 喜欢 H 式房型的买主包括在 70% 喜欢 S 式房型买主中
B. 调查的买主总数超过 100 名
C. 某些买主两种房型都喜欢
D. 某些买主的观点发生了变化
113. 室内荧光灯的连续照射对患有心脏病的仓鼠的健康有益。一群暴露在荧光灯连续照射下的仓鼠平均寿命比另一群同种但生活在黑暗之中的仓鼠长 25%。
下列哪一项问题是进行上述实验的最初动因？（ ）
- A. 医院的光照疗法能被证明对病人的恢复有促进作用吗
B. 生活在灯光下的仓鼠与生活在黑暗中的仓鼠哪一种更长寿
C. 仓鼠患的是什么病
D. 是否有些仓鼠需要一段时间的阴暗
114. 设语句①~④中二真二假，则下列哪项的论断是成立的？（ ）
- ①乙班所有学生都学过逻辑。
②乙班王强学过逻辑。
③乙班有人学过逻辑。
④乙班有人没学过逻辑。
- A. ①与②都是假的
B. ②与③都是假的
C. ③与④都是假的
D. ④与①都是假的
115. 毫无疑问，未成年人吸烟应该加以禁止。但是，我们不能为了防止给未成年人吸烟以可乘之机，就明令禁止自动售烟机的使用。这种禁令就如同为了禁止无证驾车在道路上设立路障，这道路障自然禁止了无证驾车，但同时也阻挡了 99% 以上的有证驾驶者。
为了对上述论证作出评价，回答以下哪个问题最为重要？（ ）
- A. 未成年吸烟者在整个吸烟者中所占的比例是否超过 1%
B. 禁止使用自动售烟机带给成年购烟者的不便究竟有多大
C. 无证驾车者在整个驾车者中所占的比例是否真的不超过 1%
D. 未成年人吸烟的危害，是否真如公众认为的那样严重
116. 无论是工业用水还是民用水，现行的水费价格一直偏低。某区推出一项举措，对超出月额定数的用水量，无论是工业用水还是民用水，一律按上调高价收费。这一举措将对该区的节约用水产生重大的促进作用。
上述举措要达到预期的目的，以下哪项必须是真的？（ ）

D. 你的观点被证明是错误的，那么我批评你的观点就是正确的。既然我的观点正确，那么，你的观点错误也就确属无疑了

121. 按照上帝创世说，上帝在第一天创造了地球，第二天创造了月亮，第三才创造出太阳。

下列哪项断定不是上述创世说的文中之义？（ ）

- A. 天体星球的形成是有先有后的
- B. 关于“一天”的含义，上帝与我们的理解和运用是一样的
- C. 至少地球存在的头两天是没有太阳的
- D. 没有太阳，一片漆黑，上帝也能工作

122. 根据电视收视率调查，青年人看体育节目比中年人要多。

由此可以推出下列哪一结论？（ ）

- A. 青年人比中年人更了解体育运动
- B. 青年人比中年人更擅长体育运动
- C. 体育节目可能更适合青年人的兴趣
- D. 体育运动是青年人的运动

123. 某次全市司法工作会议进行分组讨论。其中有一小组共 8 人，会议开始时小组长问大家原来各自是否认识。结果是全组中仅有 1 人认识小组中的 3 人，有 3 人认识小组中的 2 人，有 4 人认识小组中的 1 人。

如以上统计属实，则最能得出以下哪项结论？（ ）

- A. 小组长认识小组中人数最多，其他的人相互认识的人就少
- B. 此类会议是第一次举行，大家都是新面孔
- C. 有些成员所说的认识可能仅仅是在电视或报告会上见过而已
- D. 虽然组内成员原来的熟人不多，但是原来认识的却是至交

124. 某连锁店老总对于前一阶段的过度扩展带来的管理问题束手无策，于是问一位著名管理专家：“我不知道如何管理好下属 300 多个连锁店？”那位管理专家直截了当回答：“削减它们。”老总问：“削减多少？”专家说：“直到你能看得住它们为止。”

上述管理专家的回答是以下面哪些陈述为前提的？（ ）

- A. 下属连锁店多少与连锁店的性质有关
- B. 下属连锁店多少与连锁店的发展有关
- C. 下属连锁店多少与连锁店领导层的人数有关
- D. 下属连锁店多少与老总的能力有关

125. 下列哪项断定，可由“李林是公务员，但不是大学毕业生”必然推得？（ ）

- A. 并非大学毕业生都是公务员
- B. 公务员不都是大学毕业生
- C. 有的大学毕业生不是公务员
- D. 有的公务员是大学毕业生

126. 某研究机构进行了一次为期 10 周的减肥试验，参加者平均减肥 9 公斤。中年组参加者平均减肥 13 公斤，青年组参加者平均减肥 7 公斤。研究人员将中青年组减肥差异归结为中年组参加者减肥前体重比青年组参加者重。

从上文可推出以下哪个结论？（ ）

- A. 青年组参加者减肥前体重都比中年组参加者轻
- B. 所有参加者体重均下降
- C. 青年组参加者比中年组参加者多
- D. 中年组参加者比青年组参加者多

127. 刑侦队长报告说：“所有的娱乐场所都搜查过了，没有发现犯罪嫌疑人的踪迹。”如果上述报告属实，则在下面四个断定中：

I. 没有娱乐场所被搜查过。

II. 有的娱乐场所被搜查过。

III. 有的娱乐场所没有被搜查过。

IV.犯罪嫌疑人躲藏的娱乐场所已被搜查过。

可确定为假的是（ ）。

- A. 仅I和II
B. 仅I和III
C. 仅II和III
D. I、III和IV

128. 甲：赵耘是优秀青年企业家，所以他有资格进入青年精英俱乐部。乙：不过赵耘酗酒，他不是青年的好榜样，因此赵耘不应被青年精英俱乐部接纳。

乙的论证使用了以下哪项作为补充前提？（ ）

- I.有些优秀青年企业家酗酒。
II.所有酗酒者都不是青年的好榜样。
III.被青年精英俱乐部接纳的都是青年的好榜样。

- A. 仅I
B. 仅II
C. 仅III
D. 仅II和III

129. 鸽子能从几百里甚至几千里外准确无误地飞回自己的家。鸽子是怎样认出归家之路的呢？长期以来，这一直是个谜，吸引着许多人来研究这个问题。有些研究人员根据他们所提出的假说，把鸽子装入严密遮挡的笼子，运到一个陌生的地方放飞，他们照样能轻而易举地找到回家的方向。如果把毛玻璃接触透镜装在鸽子眼上，使他们看不到几米以外的东西，然后将这些“近视眼”鸽子运到 100 多公里外放飞，它们也能回家，并且准确地降落在鸽舍附近一到二米的地方——只是在这个距离上才需要眼睛帮忙。

根据以上情况，以下哪项是这些研究人员所提出的假说？（ ）

- A. 鸽子眼神好，记忆力惊人
B. 鸽子身上有一个相当精密的导航系统
C. 鸽子能按地磁导航
D. 在太阳发生强烈磁爆期间以及月蚀时，鸽子会失去定向的能力

130. 为一个大型建筑项目进行的融资是由一家银行提供的，当资金在项目完成前用完时，银行批准了进一步的贷款。现在，随着资金再度用完而项目仍未完成，银行拒绝增加进一步的贷款，虽然没有这些贷款项目就泡汤了。

以下哪项如果为真，能最好地说明银行现在的反应和它们先前的反应不同的理由？（ ）

- A. 银行重新评估了完成后的项目的潜在收入，并且得出结论认为可产生的总收入会低于旧贷款加上新贷款的总利息
B. 银行发现了几个其他的项目，如果现在批准对它们的贷款让这些项目启动，这些项目能促使本金更快地回收
C. 银行与借贷方一致同意，建筑贷款以完成的项目作为担保
D. 成本超支主要是因为是在建筑工程最困难的阶段出现了未能预见的问题

131. 烟草工业财源滚滚，预计今后还会这样。去年美国烟农所售出的烟草总量大大增加，但国内吸烟的人数却在不断下降。

以下各项如果为真，都能成为上述现象的理由，除了（ ）。

- A. 今年开始吸烟的妇女多于已经戒烟的男子
B. 持续吸烟的人消费的烟草比往年更多
C. 今年开始嚼烟草吸鼻烟的人数多于已经戒烟的人数
D. 今年美国生产的香烟出口到其他国家的数量比去年多

132. 乡下的居民比城里的居民有更强的购买力，因为他们可以把城里及近郊居民用来买食品和房屋的一部分资金用来购买其他所需的東西。

以下哪项最符合上述对乡下居民购买力强的原因的解釋？（ ）

- A. 一般说来，乡下居民人数多于城里或近郊
- B. 乡下居民在食品和住房方面的开支比城里或近郊的居民低
- C. 城市和郊区居民平均收入水平总体上不比乡下居民高多少
- D. 无论城市居民还是乡下居民，他们用于购买住房的开支都多于其他有关商品

133. 1910年的一天，年轻的德国气象学家魏格纳躺在病床上，目光转向墙上的一幅世界地图，无意中发现，非洲西海岸线同南美东海岸线如此吻合，以致像一张撕碎了的纸，可以把它们重新拼合起来。魏格纳脑海里闪现出一个念头：两块大陆原是一整块，只是到后来才破裂，漂移开来，形成现在这个样子。经过进一步的研究，魏格纳提出了一个全新的假说——大陆漂移说。

以下各项都从不同角度进一步支持了“大陆漂移说”，除了（ ）。

- A. 大西洋两岸以及印度洋两岸相对地层层序（地层构造）相同
- B. 大西洋两岸的古生物种（植物化石和动物化石）几乎完全相同
- C. 留在岩层中的痕迹表明，很久以前，今天的北极地区曾经一度是很热的沙漠
- D. 地质痕迹表明，地球上五大洲几乎是同时形成的

134. 据官方报道，格陵兰的自杀率（每千人的自杀人数）1987年比1960年高17倍。因为格陵兰从1960年到1987年，由狩猎和捕鱼社会变成一个工业社会，自杀率的巨大变化一定是这一社会变化的结果。

下列哪项如果为真，则对以上结论提出最严重的质疑？（ ）

- A. 从狩猎和捕鱼社会变成工业社会，有时会引起重大犯罪率的变化
- B. 在狩猎和捕鱼社会里也有相当一部分社会成员选择自杀
- C. 根据官方的记录，1987年格陵兰自杀者数量确有一定程度的增长
- D. 1987年，大多数发生在格陵兰的自杀案件被官方记录报道，而1960年大多数自杀案例并未记录在案

135. 一对恋人有如下一段对话：“我最亲爱的，你能发誓说我是你的第一个恋人吗？”“当然是。这还用得着说吗？真怪，男人们为什么总要这么问我？”

下列哪项准确地指出了姑娘答话中存在的逻辑错误？（ ）

- A. 转移论题
- B. 两不可
- C. 倒置因果
- D. 自相矛盾

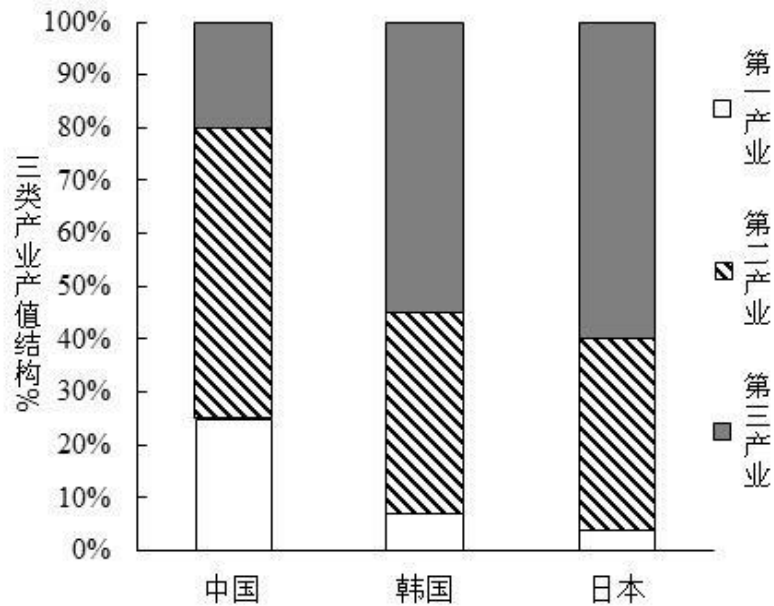


图2 中、日、韩产业产值结构比较

140. 关于第一产业，下列不正确的表述是（ ）。
- A. 我国第一产业就业比重远远高于其产值比重，说明我国第一产业劳动生产率较低
 - B. 我国生产力水平的提高会导致第一产业劳动力剩余
 - C. 日、韩两国的第一产业就业比重比我国的低得多
 - D. 日、韩两国第一产业的产值和就业结构比重都低，说明其第一产业发展落后
141. 关于第二产业，下列不正确的表述是（ ）。
- A. 我国第二产业就业比重低于韩国和日本
 - B. 我国第二产业的劳动生产率高于韩国和日本
 - C. 我国第二产业有可能提供更多的就业机会
 - D. 我国第二产业的劳动生产率明显高于第一、第三产业

三、根据以下资料，回答问题。

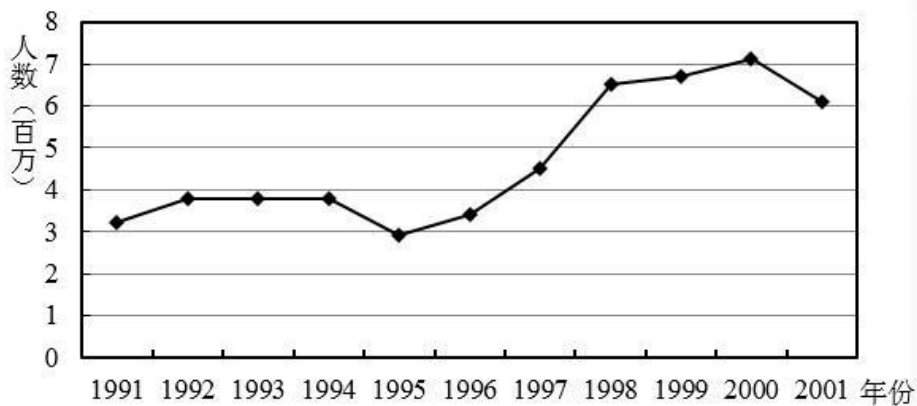


图3 1991—2001年从上海出游的人数

150. 若某人 2000 年 10 月份工资收入为 4200 元，应缴纳（ ）元个人所得税。

A. 250

B. 385

C. 450

D. 630