

## 第一部分 言语理解与表达

本部分包括表达与理解两方面的内容。请根据题目要求，在四个选项中选出一个最恰当的答案。

请开始答题：

1. 银行委托贷款当中并不承担任何连带责任，只负责办理相关手续。一般来说，委托贷款的上、下家事先约定好利率、期限、还款方式，只是通过银行作为金融机构办理相关的文件。  
对这段话的意思理解不正确的是（ ）。  
A. 银行可以帮助需要委托贷款的双方      B. 银行作为金融机构为双方办理相关文件  
C. 确定委托贷款的利率、期限等与银行相关      D. 贷款方还款与否与银行方面无关
2. 在未来，虚拟现实技术也许可以模拟人类的一切感知与情感，按照路透社的说法，一位新加坡的科学家正在研究一种“虚拟拥抱”的技术，还有什么比在网上得到一个虚拟的拥抱更可悲的吗？  
下列说法与文章不符合的是（ ）。  
A. 作者不信任虚拟现实技术      B. 作者十分珍视人类真实情感  
C. 作者认为用技术虚拟人类情感是可笑的      D. 作者不希望有什么网上“虚拟拥抱”的技术
3. 在语言主体的研究中，汉语语法研究的论文数量最多，包括中韩语法的对比分析，汉语句子成分的研究等。语音语法研究汉语声母、韵母、声调的系统，韩汉音韵发展对以及相互影响等。汉语词汇偏重于词汇系统研究、新词研究、熟语研究、中韩词汇对比研究等。  
下列选项最接近上文叙述内容的是（ ）。  
A. 汉语研究的不同领域      B. 汉语研究的主要成果  
C. 韩国汉语研究的主要成果      D. 韩国汉语研究的主要方向
4. 我们在应对长江洪水挑战、向现代化努力的过程中，过度地显示了自己的能力与权力，那些历史上并不完全属于人类的自然之所，被反复地印刻上人类的足迹，其结果是上世纪 50 年代，湖北各种湖泊水面总面积为 8528 平方公里，现仅剩 2727 平方公里，不足曾经的 1/3。  
下列说法中准确归纳了文意的是（ ）。  
A. 过度挑战自然并不可取      B. 人类活动破坏了自然环境  
C. 人类在自然面前应该收敛      D. 挑战自然将自食其果
5. 从 2007 年 4 月 1 日起，北京居民在社区卫生服务站看病，不仅能享受到双向转诊，而且上转定点支援的二、三级医院，不再受医保定点限制，都能享受医保。目前，北京市卫生局已经与市劳动和社会保障局达成共识，放宽医保患者的定点医院报销范围。  
下列说法与这段文字不符的是（ ）。  
A. 上述规定的目的是提倡居民到社区卫生服务站看病  
B. 4 月 1 日前北京居民在定点医院才能享受医保  
C. 4 月 1 日后北京居民将不接受医保定点限制  
D. 北京市将放宽医保患者定点医院的范围
6. 中国彩电行业正在山坡上，每一个奋力往上攀登的企业，都是身经百战，在激烈的竞争中杀出了血路才得以生存的，然而，再往高峰行进的时候，稀薄的氧气会使企业的生存更加艰难，对于彩电行业来说，只有身体强壮，才能一览众山小。如果一直缺钙，就只能坠落山脚，深陷整个行业亏损的泥潭。  
对“中国彩电行业正在山坡上”这一比喻理解正确的是（ ）。  
A. 中国彩电行业正奋力发展      B. 中国彩电行业前行不易

- C. 中国彩电行业竞争激烈                                  D. 中国彩电行业面临生存困难
7. 海水温度升高导致珊瑚白化，正威胁着澳大利亚的大堡礁；冰川不断退化，加重了中国长江水资源短缺的危险，从海龟到老虎，从奇华荒漠到亚马逊河，这些自然奇观都由于温度的升高而面临险境，虽然应对气候变暖的适应战略可以拯救部分自然奇观，但只有政府采取更严格的措施，减少温室气体的排放，才能使其免遭毁灭的厄运。  
对这段文字概括最恰当的是（ ）。  
A. 减少温室气体的排放，才能使其免遭毁灭的厄运  
B. 全球变暖威胁着世界各国的自然奇观  
C. 政府对温室气体的排放必须采取严格措施  
D. 亟待制定气候变暖适应战略保护世界自然奇观
8. 历史的遗产一旦被看作鲜活的对象并与自己的人生体验相结合，就成了活生生的东西，也就不会有尸臭了。一些学者专家教授的文章之所以那么僵硬呆板枯燥无趣，味同嚼蜡不堪卒读，并不完全是一个文字表述能力问题。归根结底，还是没有把自己的研究对象看作活物，他们在研究木乃伊的同时把自己也变成了木乃伊。  
这段文字主要说明的是（ ）。  
A. 历史的遗产与人生体验的关系                                  B. 研究者与研究对象的关系  
C. 研究者的文字表述问题    D. 一些历史研究文章呆板无趣的原因
9. 读书是个人的一种生活习惯，是由文化素养决定的。没有对知识的追求，没有对文化的爱好，很难想能让人静下心来去读书，阅读的习惯，要从小抓起，从小处做起，只有对文化知识的热爱和追求，才能让我们习惯于阅读，而国人的读书习惯和爱好绝非一个国家阅读日就能解决，所以，阅读，请尊重个人的选择，别以节日的名义。  
这段文字的中心议题是（ ）。  
A. 阅读    B. 国家阅读日  
C. 读书习惯    D. 阅读要尊重个人的选择
10. 长期以来，同注重群体间礼法道德的儒家学说相对，道家思想被看作是立足个体，崇尚个体生命自然发展的学说，所以，在经济社会已经发生重大变化，儒家所引导的相当一部分学说规范已失去体制支持的今天，道家思想，尤其是庄子的人生哲学，重新有了理论上的自足性，在个体生命和生活的层面上再一次引起人们的注意。  
下列说法与文章不符的是（ ）。  
A. 儒家学说以群体为本    B. 道家哲学以个体为本  
C. 当今社会体制更支持道家哲学                                  D. 当今社会较崇尚个体发展

科学家认为，手是使人能够具有高度智慧的三大重要器官之一，其余两个器官是可以感受到三维空间的眼睛和能够处理手眼传来的信息的大脑。在 400 万年的进化中，人类的手逐渐演变成了大自然所能创造出的最完美的工具。

无论是远古还是现代，手都象征着人与神的活动，象征着权力、创造与智慧，对手的崇拜可以在不同的文明中见到。

手相不只是江湖术士的花言巧语，科学也对此深感兴趣。研究表明，手指，特别是食指和无名指的长度，与人体的健康有关联。手指的生长和大脑的发育是在同一时期发生的，并且都与子宫内性激素的水平有关。如果孕妇怀孕期间睾丸素水平较高，生下的孩子就更容易成为左撇子，也更容易日后得心脏病或孤僻症。女性的无名指往往与食指一样长或者更短，男性的无名指则往往长于食指，而左撇子的无名指通常比食指长出许多。另外，无名指长于食指还是有音乐天分的表现。

在哺乳动物中，人类的手独一无二。大拇指同其他四个手指相对的结构是人手的最大优越性，许多类人猿可以将自己的拇指和食指对合，但不能将拇指与中指、无名指以及小指对合，因为它们的手指不够柔韧。只有人类的手指十分灵敏，可以感觉到振幅只有 0.00002 毫米的振动。研究发现，大脑在说话时会变得活跃的那一部分，在做手势时同样也会活跃起来。科学家还发现，大脑控制手的活动的区域，分布在运动中枢里几个不同的部位，面积达到大脑皮层的四分之一。一个简单的动作，例如举起一杯牛奶送到嘴边，会使大脑皮层出现特别强烈的兴奋，这一直是令神经学家不解的谜。

11. 下列对手指的阐述与文意不符的是（ ）。
  - A. 手指的长度与健康相关
  - B. 手指的长度与音乐才能相关
  - C. 女人的无名指比食指短一些
  - D. 无名指较长的可能是左撇子
12. 对“在哺乳动物中，人类的手独一无二”这句话的意思理解不正确的是（ ）。
  - A. 人类对手的崇拜可以在不同的文明中见到
  - B. 人类的手指十分柔韧十分灵敏
  - C. 人类手的简单动作会使大脑皮层出现强烈兴奋
  - D. 人类的大拇指同其他 4 个手指相对的结构
13. 下列说法，符合原文意思的是（ ）。
  - A. 在进化中手逐渐演变成了使人具有高度智慧的最重要器官
  - B. 通常左撇子的无名指比较长，故日后易得心脏疾病或孤僻症
  - C. 做手势有助于思考表达和记忆，手势是人类惟一的肢体语言
  - D. 大脑在说话时活跃的那部分和做手势时活跃的部分是一致的
14. 根据文意，以下推断正确的是（ ）。
  - A. 江湖术士看手相预测人的健康财富爱情等是有科学依据的
  - B. 无名指长于食指者具有音乐天分，故音乐家大多为左撇子
  - C. 心脏疾病或孤僻症患者是由于母亲怀孕期间睾丸素水平较高
  - D. 手的动作为何能引起大脑皮层特别强烈的兴奋至今是个谜
15. 最适宜作这篇文章标题的是（ ）。
  - A. 三大器官之一
  - B. 手：最完美的工具
  - C. 高度智慧的器官
  - D. 科学家眼中的手

## 第二部分 数量关系

在这部分试题中，每道题呈现一段表述数字关系的文字，要求你迅速、准确地计算出答案。

请开始答题：

16. 12, 15, 24, 51, 132, ( )  
A. 268  
B. 307  
C. 375  
D. 415
17. ( ), 75, 30, 150, 170, 300, 460, 600  
A. 25  
B. -30  
C. -35  
D. 40
18. 2, 7, 28, 63, 126, ( )  
A. 185  
B. 198  
C. 211  
D. 215
19. 2, 1, 9, 30, 117, 441, ( )  
A. 1604  
B. 1674  
C. 1574  
D. 1504
20. 2, 6, 30, 210, 2310, ( )  
A. 30160  
B. 30030  
C. 40300  
D. 32160
21. 2, 3, 7, 25, 121, ( )  
A. 256  
B. 512  
C. 600  
D. 721
22. 1, 4, 12, 32, 80, ( ), 448  
A. 162  
B. 182  
C. 192  
D. 212
23. 431, 325, ( ), 167, 844, 639  
A. 321  
B. 642  
C. 246  
D. 123
24. 3, 8, 9, 0, -25, -72, ( )  
A. -147  
B. -144  
C. -132  
D. -124
25. -2, 4, 0, 8, 8, 24, 40, ( )  
A. 104  
B. 98  
C. 92  
D. 88
26. 市民广场中有两块草坪，其中一块草坪是正方形，面积为400平方米，另一块草坪是圆形，其直径比正方形边长长10%，圆形草坪的面积是多少平方米？( )  
A. 410  
B. 400  
C. 390  
D. 380
27. 2007年4月20日，上证综指早盘高开11点，以3460.90点开盘后，随即逐波上扬，至终盘报收于3584.20点，较上一个交易日上涨了( )。  
A. 3.56%  
B. 11点

- C. 113.70点                                  D. 134.30点
28. 某月刊杂志，定价 2.5 元，劳资处一些人订全年，其余人订半年，共需 510 元，如果订全年的改订半年，订半年的改订全年，共需 300 元，劳资处共多少人？（ ）
- A. 20    B. 19  
C. 18    D. 17
29. 在一次有四个局参加的工作会议中，土地局与财政局参加的人数比为 5：4，国税局与地税局参加的人数比为 25：9，土地局与地税局参加人数的比为 10：3，如果国税局有 50 人参加，土地局有多少人参加？（ ）
- A. 25    B. 48  
C. 60    D. 63
30. 某市财政局下设若干处室，在局机关中不是宣传处的有 206 人，不是会计处的有 177 人，已知宣传处与会计处共有 41 人，问该市财政局共有多少人？（ ）
- A. 218    B. 247  
C. 198    D. 212
31. 因为实行了“三统一”，社区卫生服务站卖药都是“零利润”，居民刘某说，过去复方降压片卖 3.8 元，现在卖 0.8 元；藿香正气水以前卖 2.5 元，现在降价了 64%，另有两种药也分别降价了 2.4 元和 3 元，这四种药价平均降价了多少元？（ ）
- A. 3.5    B. 1.8  
C. 3    D. 2.5
32. 一次运动会上，18 名游泳运动员中，有 8 名参加了仰泳，有 10 名参加了蛙泳，有 12 名参加了自由泳，有 4 名既参加仰泳又参加蛙泳，有 6 名既参加蛙泳又参加自由泳，有 5 名既参加仰泳又参加自由泳，有 2 名这 3 个项目都参加，这 18 名游泳运动员中，只参加 1 个项目的人有（ ）。
- A. 5 名    B. 6 名  
C. 7 名    D. 4 名
33. 在村村通公路的社会主义新农村建设中，有两个山村之间的公路都是上坡和下坡，没有平坦路。农车上坡的速度保持 20 千米/小时，下坡的速度保持 30 千米/小时，已知农车在两个山村之间往返一次，需要行驶 4 小时，问两个山村之间的距离是多少千米？（ ）
- A. 45    B. 48  
C. 50    D. 24
34. 甲、乙两单位共同举办新年文艺联欢会，设一、二等奖若干。已知，甲、乙两单位获奖人数的比为 4：3；甲、乙两单位获一等奖的人数之和占两单位获奖人数总和的 40%。甲、乙两单位获一等奖的人数之比为 3：4，甲单位获一等奖的人数占该单位获奖总人数的（ ）。
- A. 50%    B. 45%  
C. 40%    D. 30%
35. 小张、小李、小王三人到商场购买办公用品，小张购买 1 个计算器，3 个订书机，7 包打印纸共需要 316 元，小李购买 1 个计算器，4 个订书机，10 包打印纸共需要 362 元。小王购买了 1 个计算器，1 个订书机，1 包打印纸共需要（ ）。
- A. 224 元                                        B. 242 元  
C. 124 元                                        D. 142 元

### 第三部分 判断推理

一、类比推理。每道题先给出一组相关的词，要求你在备选答案中找出一组与之在逻辑关系上最为贴近、相似或匹配的词。

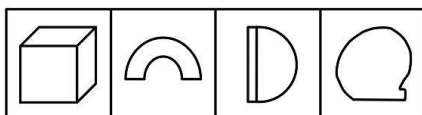
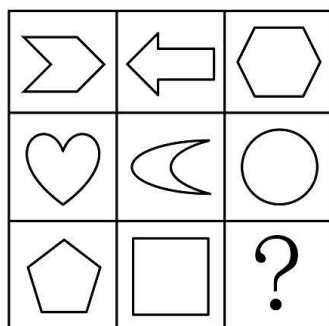
请开始答题：

36. 石榴：火红  
A. 企图：规划  
B. 海洋：广阔  
C. 桂花：山坡  
D. 平原：草丛
37. 坚定：信念  
A. 统一：思想  
B. 持续：发展  
C. 金融：工具  
D. 平原：草丛
38. 反腐：倡廉  
A. 斗志：昂扬  
B. 政通：人和  
C. 艰苦：奋斗  
D. 声东：击西
39. 水：河流  
A. 云：雨  
B. 雪：龙  
C. 热：空调  
D. 家：房屋
40. 罕见：稀有  
A. 灿烂：阳光  
B. 闪亮：光明  
C. 思想：想法  
D. 谦逊：虚心
41. 原子：粒子  
A. 奥运会：运动会  
B. 分子：化合物  
C. 生存：死亡  
D. 核心：原子核
42. 学生：青年  
A. 社会：自然  
B. 热血：激情  
C. 游戏：娱乐  
D. 战士：党员
43. 扫描仪：复制  
A. 蜜蜂：酿蜜  
B. 梳子：头发  
C. MP3：播放  
D. 高尔夫：高雅
44. 科学家：实验室  
A. 教授：委员会  
B. 花卉：交易  
C. 学生：教室  
D. 艺术家：绘画
45. 感恩节：端午节  
A. 母亲节：妇女节  
B. 狂欢节：春节  
C. 清明：元宵节  
D. 圣诞节：愚人节

二、图形推理。请按每道题的答题要求作答。

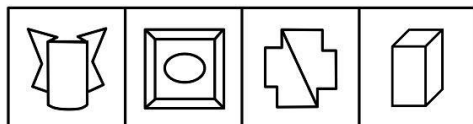

请开始答题：

46. 从所给的四个选项中，选择最合适的一个填入问号处，使之呈现一定的规律性（ ）。



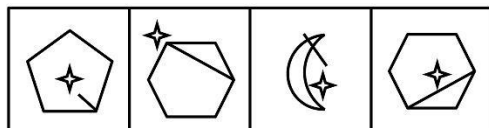
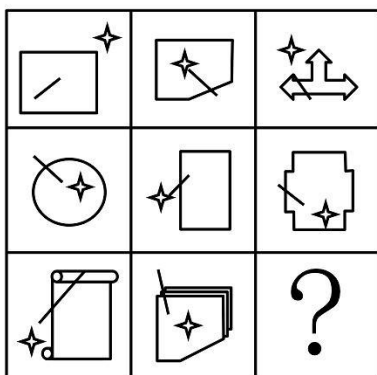
A B C D

47. 从所给的四个选项中，选择最合适的一个填入问号处，使之呈现一定的规律性（ ）。



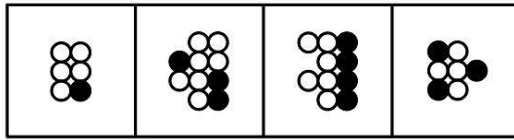
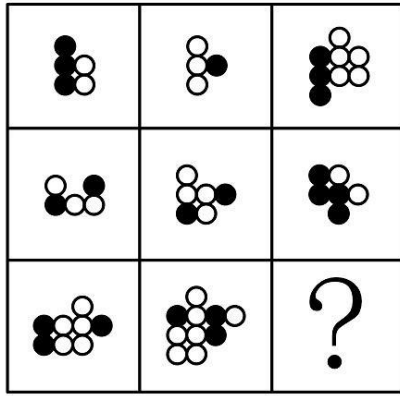
A B C D

48. 从所给的四个选项中，选择最合适的一个填入问号处，使之呈现一定的规律性（ ）。



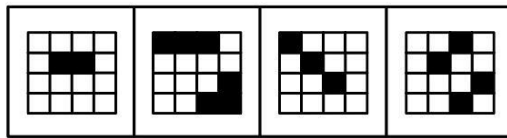

A B C D

49. 从所给的四个选项中，选择最合适的一个填入问号处，使之呈现一定的规律性（ ）。



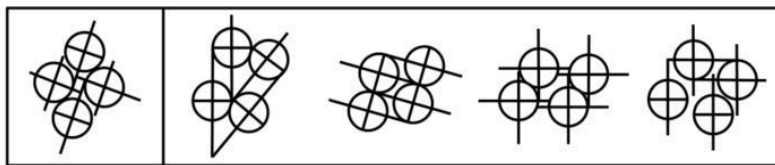
A B C D

50. 从所给的四个选项中，选择最合适的一个填入问号处，使之呈现一定的规律性（ ）。



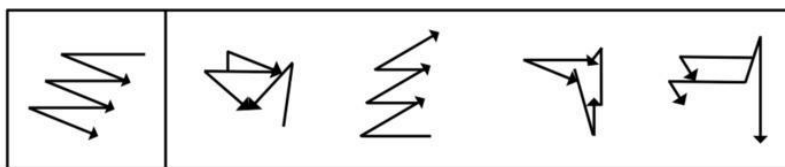
A B C D

51. 以下各项图形，可由左侧图形中各组成部分经过平面变化得到的是（ ）。



A B C D

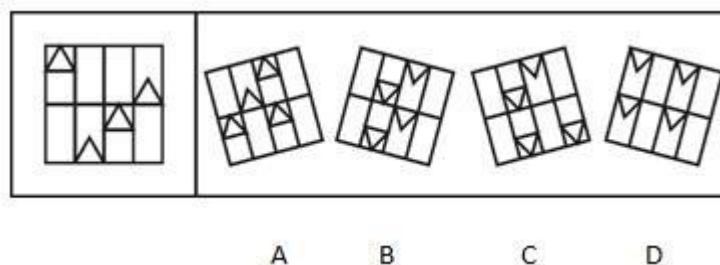
52. 以下各项图形，可由左侧图形中各组成部分经过平面变化得到的是（ ）。



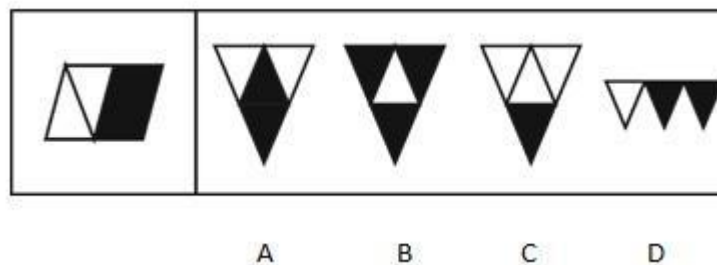
A B C D




53. 以下各项图形，可由左侧图形中各组成部分经过平面变化得到的是（ ）。



54. 以下各项图形，可由左侧图形中各组成部分经过平面变化得到的是（ ）。



55. 以下各项图形，可由左侧图形中各组成部分经过平面变化得到的是（ ）。



三、逻辑判断。每道题给出一段陈述，这段陈述被假设是正确的，不容置疑的。要求你根据这段陈述，选择一个答案。注意：正确的答案应与所给的陈述相符合，不需要任何附加说明即可以从陈述中直接推出。

请开始答题：

56. 建设和谐社区是和谐社会建设的重要组成部分。只有进一步完善社区的管理体制，才能明确社区的社会职责；如果不提高社区的服务水平，就不能满足居民快速增长的各种需求；社区管理的法规建设是社区基层民主自治的重要前提，而加强社区基层的民主自治也有利于完善社区的管理体制。

由此可见（ ）。

- A. 如果不能提高社区的服务水平，就不能提高社区的服务质量
- B. 如果不进一步完善社区的管理体制，就不能明确社区的社会职责
- C. 只有加强社区管理的法规建设，才能明确社区的社会体制
- D. 只有加强社区基层的民主自治，才能满足居民快速增长的各种需求

57. 在对某乡镇情况研究的过程中，人们获得了如下的信息：

- (1) 富裕的张村的村民都非常勤劳；
- (2) 相对贫困的李村也有村民非常勤劳。

由此可见（ ）。

- A. 非常勤劳但不是李村的人一定是张村的村民

- B. 非常勤劳但不是张村的人一定是李村的村民  
 C. 非常勤劳的人有些不是张村的村民  
 D. 该乡镇非常勤劳的人不是张村的就是李村的村民
58. 小李是四川人，他喜欢吃酸泡菜；小王是四川人，他喜欢吃酸泡菜；小陈是四川人，她也喜欢吃酸泡菜。我所认识的四川人都喜欢吃酸泡菜。  
 据此，可以推出（ ）。
- A. 所有四川人都喜欢吃酸泡菜                      B. 有些四川人喜欢吃酸泡菜  
 C. 并非所有四川人都喜欢吃酸泡菜                D. 并非有些四川人喜欢吃酸泡菜
59. 如果联盟决定在所有入境口岸对从 W 国的进口产品实行 100% 的检测，那么 W 国的食品将经常出现违规；如果 W 国的食品经常出现违规，那么联盟将提醒各成员国采取相应的措施；如果联盟提醒各成员国采取相应的措施，那么联盟的民众将反应强烈；如果联盟民众反应强烈，那么联盟将决定在所有入境口岸对从 W 国的进口产品实行 100% 检测，如果联盟决定在所有的入境口岸对从 W 国的进口产品实行 100% 的检测，那么联盟的民众不会反应强烈。  
 由此可见（ ）。
- A. 联盟不会提醒各成员国采取相应的措施  
 B. W 国的食品将经常出现违规  
 C. 联盟的民众将反应强烈  
 D. 联盟将决定在所有入境口岸对从 W 国的进口产品实行 100% 的检测
60. 著作权包含以下人身权和财产权：发表权、署名权、网络传播权、应当由著作权人等拥有的其他权利。作品一旦创作出来就有著作权，著作权法规定，计算机软件也是作品，其著作权和其他作品的著作权没有本质区别，如果经过原著作者的同意，那么只要你对创作进行了五分之四的修改，并提出了自己的算法，你就获得了该创作的著作权。  
 据此，可以推出（ ）。
- A. 如果你享有了软件的著作权，那么你提出了自己的算法  
 B. 如果你创作了这个软件，那么你能享有它的网络传播权  
 C. 如果你对软件进行了百分之八十以上的修改，那么你享有了著作权  
 D. 如果你没有获得该软件的著作权，那么你一定没有经过创作者的同意
61. 张、王、赵三人在一个部门工作，其中一人是局长、一人是书记，还有一人是工程师。已知：王、赵的个头比工程师高，书记的个头比王矮，张和书记不一样高。  
 由此可见（ ）。
- A. 张是局长，王是工程师，赵是书记              B. 张是工程师，王是局长，赵是书记  
 C. 张是局长，王是书记，赵是工程师              D. 张是书记，王是局长，赵是工程师
62. 在某届奥运会期间，人们对乒乓球比赛的结果进行了预测：  
 (1) 冠军将不在 A、B、C、D 四个队中产生；  
 (2) E、F 和 G 队中将有进入决赛的；  
 (3) 冠军将在 A、B、D 产生；  
 (4) E、F 和 G 队将有不进入决赛的。  
 赛后发现，只有一个预测是正确的，由此可见，冠军是（ ）。
- A. G 队    B. F 队  
 C. C 队    D. E 队
63. 在某高速公路的一段，一字相逢地搭列着五个小镇，已知：  
 (1) 落霞镇既不要临着古井镇，也不要临着荷花镇；

- (2) 浣溪镇既不要临着紫微镇，也不要临着荷花镇；
- (3) 紫微镇既不要临着古井镇；也不要临着荷花镇；
- (4) 落霞镇没有木塔；
- (5) 有木塔的是排在第一和第四的小镇。

由此可见，排在第二的小镇是（ ）。

- A. 落霞镇
- B. 荷花镇
- C. 浣溪镇
- D. 紫微镇

64. 全面建设节约型社会，就是以发展促节约，以节约保发展，如果资源节约技术和管理水平进一步提高，并且，节约型社会的相关政策法规进一步完善，那么环境保护就可以获得更加有力的保障，全社会只有增强资源节约意识，资源利用的效率才能充分提高。

由此可见（ ）。

- A. 如果资源利用的效率充分提高了，那么说明全社会资源节约意识提高了
- B. 只有资源节约技术进一步提高，全社会资源节约意识才能进一步增强
- C. 如果节约型社会的相关政策法规进一步完善，那么环境就可获得更加有力的保障
- D. 只有节约型社会的相关政策法规进一步完善，才能进一步提高资源节约的管理水平

65. 某县 A、B、C、D、E 五个乡镇都开展技能型改村建设活动。在某段时间内作出如下安排：

- (1) 只有 C、D 两乡镇都开展该活动，A 或 B 两乡镇才开展该活动；
- (2) 如果 C 乡镇开展该活动，那么 E 和 A 两乡镇必定都开展该活动；
- (3) 如果 E 乡镇开展该活动，则 A 乡不开展该活动；
- (4) E 乡镇没有开展该活动。

由此可见（ ）。

- A. A、B 两乡镇都开展该活动
- B. A、B 两乡镇都没有开展该活动
- C. A 乡镇开展该活动，B 乡镇没有开展该活动
- D. A 乡镇没有开展该活动，B 乡镇开展该活动

**四、定义判断。**每道题先给出定义，然后列出四种情况，要求你严格依据定义，从中选出一个最符合或最不符合该定义的答案。注意：假设这个定义是正确的，不容置疑的。

**请开始答题：**

66. 挤出效应：指在一个相对平面的市场上，由于供应、需求有新的增加，导致部分资金从原来的预支中挤出，而流入到新的商品中。

下列属于挤出效应的是（ ）。

- A. 小蒋原打算花 10 万元装修新房，结果多花了 4 万元，主要原因是新添置了些高档家具
- B. 由于预期房价将会大幅度上升，许多家庭控制其他消费，以积攒首付款和支付月供款
- C. 小周办婚宴预计花 3.6 万元，可实际上花了 2.8 万元，于是她在计划外买了一台手提电脑
- D. 老姜儿子将买 3 台复印机，为筹集资金，老姜十分节俭，连买早点的钱都不肯花

67. 代际公平：是可持续发展原则的一个重要内容，主要指当代人为后代的利益保存自然资源的需求。

下列与“代际公平”没有直接关系的是（ ）。

- A. 市环保局责令该市某造纸企业先投巨资安装污水处理系统，否则绝不允许生产
- B. 某风景名胜旅游区不久前下大决心拆除了景区内影响自然景观的多个宾馆
- C. 不久前某动物保护组织再次集会，抗议某国的捕鲸行为

- D. 某食品企业经过深入调研，请专家研究开发了多种绿色食品
68. 佻倭心情：指受到压抑的心情或不能充分流露或发挥的心情。  
下列不属于佻倭心情的是（ ）。
- A. 小雪在某公交站挤乘公交车时，不慎丢失了身份证，回家后越想越气，又不好对家人发火，只好一人独坐，默不振声
- B. 庞旭在卡拉 OK 演唱会上演唱时因起音太高，在唱到高音时未能唱上去，只好勉强唱完，下场后为此不禁潸然泪下
- C. 小刚在复习备考时常常因起早贪黑而忘记吃营养品，妈妈为此很着急，每天专门为孩子精心准备一顿牛奶并看着他喝下去才离开
- D. 小毛在单位一直受人好评，本年度评优时因名额有限而未能评上，小毛为此闷闷不乐，最近一段时间才有了较大起色
69. 科学主义：指自然科学的方法应该被应用于包括哲学、人文科学和社会科学在内的一切研究领域的理论观点，以及只有这样的方法才能富有成效地用来追求知识的信念。  
下列不属于科学主义的是（ ）。
- A. 自然科学方法成为一切知识的标准，自然科学是实在的正确表象
- B. 科学技术是第一生产力，科学技术的创意是一个民族的灵魂
- C. 把所有的实在都置于一个自然秩序之内，只有科学方法才能理解这一秩序的生物、社会、物理、心理等所有方法
- D. 科学是惟一的知识，伦理的，形而上学的思想都会被科学的进步所取代、排除
70. 原点思维：指给人或事设定一个原点，时常回到原点进行思考、进行状态对照，纠正偏差，不断向目标前进。  
下列属于原点思维的是（ ）。
- A. 谁能解下老虎脖子上的金铃——解铃还需系铃人
- B. 谁是中国历史上的罪人——宋代的秦桧
- C. 怎样看出人的优秀素质——重点考查小时候表现
- D. 怎样处理好人与人之间的关系——经常交流沟通
71. 定义：
- ①异化：指事物发展出现相反的属性，自己内在的东西转化为与自己对应，支配的东西。
- ②内化：指在思想观点上与他人的思想观点相一致，自己所认同的新的思想和自己原有的观点、信念结合在一起，构成一个统一的态度体系。
- ③外化：指能把内在的东西转化为外在的东西，即把自身的思想意识等作用于外部世界的过程。
- 典型例证：
- (1) 邻居家的小凯聪明、灵活，善于把学来的知识变成自己的知识，让其融入自己原有的知识体系。
- (2) 武器本来是用来杀人的，但武器发展到高级阶段出现了超杀能力，敌我双方可相互确保摧毁。武器本是为了战争的效率，但核武器确实在某种程度上抑制了战争。
- (3) 波兰影片《蓝》中有这样一个镜头：车祸后主人翁茱莉躺在病床上，画面中惟一清楚的是被子上的一根绒毛随着呼吸来回摆动，表现了此时茱莉内心的忐忑和无助感。
- 上述典型与定义存在对应关系的数目有（ ）。
- A. 0 个
- B. 1 个
- C. 2 个
- D. 3 个

72. 定义:

①直接观察:指凭借人们的感官直接对研究对象进行观察。

②间接观察:指借助仪器设备对研究对象进行观察。

③定性观察:指对研究对象进行性质和特征方面的观察。

典型例证:

(1)天文学家对遥远星球的位置、运行轨道所进行的观察。

(2)人们首先辨别了赤橙黄绿青蓝紫各种颜色,其后认识各颜色是由于各种物体所吸收的光的波长不同所引起的。

(3)有人长期对蜜蜂进行观察,亲眼看到蜜蜂有神奇的触角和善于舞蹈的多条腿,由此,引发对观察蚂蚁、蜗牛、蜘蛛和蜻蜓等动物的兴趣。

上述典型与定义存在对应关系的数目有( )。

A. 0个

B. 1个

C. 2个

D. 3个

73. 定义:

①超常儿童:指智力发展显著地超过同年龄常态儿童的水平,或具有某方面突出发展的特殊才能,能创造性地完成某种或多种活动的儿童。

②问题儿童:指经常不遵守社会的行为规范或犯有严重道德错误及神经过敏,有歇斯底里行为的儿童。

③缺陷儿童:指盲、聋、哑、智力落后、身体残缺,有言语障碍或情绪障碍的儿童。

典型例证:

(1)唐代诗人白居易,1岁开始识字,5岁开始做诗,9岁已精通声韵。

(2)9岁熙熙不仅调皮捣蛋,而且原来的礼貌也没了,嘴里的粗话也越来越多,经常是口无遮拦,一句话脱口而出,常常弄得大人尴尬得要命。

(3)生下乐乐后不久,母亲就发现他体内缺少免疫细胞,因而非常容易受到疾病侵袭,医生建议乐乐生活在相对洁净的保护环境中,并且需要接受骨髓移植。

上述典型与定义存在对应关系的数目有( )。

A. 0个

B. 1个

C. 2个

D. 3个

74. 定义:

①顺意公众:又称为支持公众,指对组织持赞赏、支持、合作和信任态度的公众,他们是组织的基本依靠对象。

②逆意公众:又称为敌对公众,指对组织持反对意见、不合作态度,甚至采取敌对立场的公众。他们是组织急需转化的对象。

③独立公众:又称中立公众或不确定公众,指那些持中立态度或态度不明朗,或未表态的公众。他们是组织值得争取的对象。

典型例证:

(1)严某是某银行出纳员,他在工作中未能完全按章办事,由于问题本身尚未暴露,他自己也就没有意识到问题的存在。

(2)浦某是某企业经理,他已经明确认识到企业问题的存在,并且意识到问题的存在与企业领导层间的内讧相关。

(3)朱某是公司人员,他发现公司某部门有人假公济私,自己已经采取行动并且要求公司上层对问题部门采取相应行动。



## 第五部分 资料分析

针对下列图、表或文字回答问题。你应根据资料提供的信息进行分析、比较、计算、处理。你可以在题本上运算。

请开始答题：

一、根据以下资料，回答问题。

江苏建设先进制造业基地拥有的优势

(一) 制造业产能大。2005 年，江苏省规模以上制造业企业总产值达 30816.65 亿元。

(二) 劳动力成本低廉。2005 年，江苏省制造业在岗职工平均工资为 16937 元，折合 2068 美元，不足美、日、德、韩的十分之一。

(三) 劳动力素质高。随着义务教育的普及和高校招生规模的扩大，进入劳动力市场的高素质劳动者呈逐年增加的趋势。2005 年，江苏有 11.4 万名理工科大学生和 12 万名职业技术学校毕业生进入劳动力市场，工程技术人员的保有量为 20.96 万人。

(四) 制造业的地域较集中。2005 年，江苏规模以上工业企业有 31749 个，其中 35% 左右在无锡和苏州，在沿江开发区域的占 49.71%。这种产业集聚，使中小企业通过专业化和分工深化实现生产规模的扩大和成本的降低成为可能。

(五) 基础设施完善。2005 年，江苏省铁路营业里程达 1599 公里，公路通车里程 82739 公里，内河航道里程 24800 公里，输油管道里程 760 公里，载货汽车 43.35 万辆，运输船舶 5.13 万艘等等。

(六) 国内国际市场大。2005 年，全国居民消费总额为 60000 亿元左右，江苏省居民消费总额已达 4700 亿元，而且这种市场的规模仍在较快增长，近年来均保持了两位数的增速。此外，中国 2004 年的出口额达 5934 亿美元，工业制成品的出口额占九成以上，2005 年江苏工业制成品的出口额已达到 1214 亿美元。

76. 2005 年，江苏规模以上工业中，在沿江开发区域的约占（ ）。

- A. 50%
- B. 35%
- C. 63%
- D. 20%

77. 2005 年，江苏省铁路营业里程和公路通车里程共计有多少公里？（ ）

- A. 168676
- B. 84338
- C. 82739
- D. 1599

78. 2004 年，江苏省的居民消费总额至多为多少亿元？（ ）

- A. 1402
- B. 4316
- C. 4586
- D. 4273

79. 下列不属于江苏建设先进制造业基地拥有的优势的是（ ）。

- A. 产业集聚程度较高
- B. 生产能力较大
- C. 产业结构合理
- D. 交通发达

80. 下列说法正确的是（ ）。

- A. 2005 年，江苏省制造业企业工业总产值达 30816.65 亿元
- B. 2005 年，江苏有 11.4 万名大学生进入劳动力市场
- C. 2004 年，中国工业制成品的出口额有近 5000 亿美元
- D. 2005 年，韩国制造业在岗职工的平均工资是江苏的 10 倍以上

二、根据以下资料，回答问题。

(一) 江苏城镇失业人数及失业率

年份	失业人员登记就业人数(万人)	年末尚有登记失业人数(万人)	年末城镇登记失业率(%)
1991	23.33	18.68	2.0
1992	21.43	18.81	2.0
1993	20.64	19.43	2.0
1994	22.19	19.58	2.0
1995	21.49	20.13	2.0
1996	20.78	22.34	2.2
1997	21.40	23.80	2.4
1998	21.61	24.26	2.6
1999	21.57	26.57	2.9
2000	27.01	30.36	3.4
2001	34.94	36.14	3.6
2002	39.96	42.17	4.2
2003	54.46	41.84	4.1
2004	60.22	42.90	3.9
2005	62.92	41.62	3.6

81. 据表中资料, 下列说法不正确的是 ( )。
- A. 2000 年以来, 江苏城镇失业人员的年登记就业人数不断增加
  - B. 2000 年以来, 江苏城镇年末尚有登记失业人数逐年增加
  - C. 2003 年以来, 江苏年末城镇登记失业率有回落趋势
  - D. 总体上说, 江苏城镇年末尚有登记失业人数有不断上升趋势
82. 江苏城镇在 2005 年登记失业的约有多少万人? ( )
- A. 61.64
  - B. 41.62
  - C. 3.60
  - D. 1.28
83. 2005 年末, 江苏城镇就业人员总数约有多少万人? ( )
- A. 62.92
  - B. 41.62
  - C. 1156
  - D. 1114
84. 1991~2005 年, 江苏城镇失业人员登记就业人数与年末尚有登记失业人数相比增速 ( )。
- A. 不好比较
  - B. 较低
  - C. 相当
  - D. 较高
85. 2005 年江苏城镇年末尚有登记失业人数比 2004 年下降了 ( )。
- A. 3.56%
  - B. 2.98%
  - C. 1.08%
  - D. 3.03%

三、根据以下资料, 回答问题。





