

第一部分 言语理解与表达

本部分包括表达与理解两方面的内容。请根据题目要求，在四个选项中选出一个最恰当的答案。

请开始答题：

1. 价廉物美的中国商品令世界各国的消费者感到欣喜，也引起某些“经济爱国主义者”对本国相关产业的担忧。近年来，贸易保护主义在一些国家呈抬头之势，“反倾销”大棒频频挥向中国商品。然而，人们似乎忽视了这样一个基本事实：中国绝非贸易增长的唯一受益者，跨国公司和世界各国的广大消费者同样是“最大的赢家”。
这段文字主要阐述（ ）。
A. 中国外销商品有多方受益者
B. “反倾销”大棒挥向中国出口商品
C. 国外的贸易保护主义
D. 中国的贸易增长引起争议
2. 打开报纸，一个售楼广告，开口就是“世纪豪庭，高贵身份象征，满足您千年尊贵梦想”；一个药品广告，开口就是“精湛工艺，卓越疗效，划时代高新技术”。
文中语气表明作者认为这些广告（ ）。
A. 值得推崇
B. 充满激情
C. 夸张过度
D. 不屑一顾
3. 人人都听过计算机“无纸化”的承诺，但事实上这些年来计算机耗费掉的纸量比以往任何时候都多。虽说计算机数百倍地提高工作效率，但你随时都可能遭遇 Bug、系统崩溃和电脑病毒。
这段文字主要告诉我们（ ）。
A. 有关计算机的信息并不可靠
B. 计算机其实并不能提高效率
C. 计算机带来的负面问题更多
D. 不要过于相信计算机的“神话”
4. 医院不能以营利为主要目的，即使是属于营利性的私立医院，也必须贯彻人道主义的救死扶伤的宗旨。救死扶伤是医院和医生的天职，无论出于什么缘由，都不能将病人抛弃不管。但医院不是福利机构，为了生存就不得不考虑经济利益，而考虑经济利益在很多时候又不可避免地会与救死扶伤的职责相冲突，这就造成了目前医院只能在经营与道义之间困惑行走。
对这段文字最恰当的概括是（ ）。
A. 医院必须救死扶伤
B. 医道与经营之两难
C. 医院如何生存
D. 怎样权衡利益与医道
5. 语言文字是文化的载体，是各种文化元素中最基础、最基本的部分。如果说英语是对外交流的一种工具，那么汉语则是我们安身立命的根基。前者为末后者为本，前者为术后者为道，前者为芝麻后者为西瓜。舍其本而逐其末，疏于道而精于术，捡了芝麻丢了西瓜，实为大愚若智，肯定得不偿失。
句中“疏于道而精于术”是指（ ）。
A. 精通汉语，不懂英语
B. 精通英语，不懂汉语
C. 精通英语，汉语粗浅
D. 精通汉语，英语粗浅
6. 根据外国石油公司在去年7月得到的法案草案，伊拉克方面与外国石油公司的任何争端都必须提交国际仲裁，这严重破坏了伊拉克管理本国自然资源的主权。草案还规定外国公司可以将所获利润汇出国外，而且不必纳税。
作者对“法案草案”的态度是（ ）。
A. 认同
B. 反对
C. 有保留认同
D. 不明朗

7. 植树、回收、少开车、调低空调温度已经成为了被广泛认可的环保行为。但我们不知道，种了一棵树是否有一百棵树在利益合谋下被砍掉?清理一次水面是否有更多的污水被企业在夜里偷排到河里?把空调调低一度是否能阻止无序上马的电厂和煤矿毁掉西部最后的河川和草原?作者强调的是()。
- A. 环保不是做表面文章
B. 环保是一个经济、社会的综合问题
C. 环保的真正力量是发展经济
D. 环保需要更多企业的参与
8. 江苏一部分富裕的农民到城里买房子不成问题，像城里人一样生活也不成问题，但他们仍选择在农村生活。这里有耕地还有宅基地，既能享受城市居民的绝大部分好处，又能享受城市居民绝对没有的好处，他们根本不指望靠土地的收入改善生活，而是要靠土地维持一个更高的生活标准。
- 下列说法中符合文意的是()。
- A. 这些农民十分依恋农村与土地
B. 这些农民并不喜欢城市生活
C. 农村生活要比城市生活好得多
D. 这些农民自愿选择在农村生活
9. 2000年，刘云松创建了国内首家“盲人有声网站”。当时，由于他的电脑知识有限，使得网站内容很_____，于是他开始走上了艰苦自学之路。如今，他的网站已经搞得有声有色，但是每年价格昂贵的服务器使用费又让他倍感_____，他的“盲人有声网站”也面临_____的危险。依次填入上文横线处恰当的是()。
- A. 贫乏 焦急 关闭
B. 肤浅 焦急 倒闭
C. 贫乏 焦躁 倒闭
D. 肤浅 焦躁 关闭
- 10.在平时训练中打出满分杆的_____比在正规斯诺克比赛中要大得多，丁俊晖一共打出 20 多次。在这次比赛中，身经百战的丁俊晖在经历完前几局的低潮后，果然在第六局状态出现_____，打出单杆 108，至此比赛形势也出现了_____。第 7 局终于打出 147 分的满分。依次填入上文横线处恰当的是()。
- A. 几率 回升 转变
B. 比例 回升 转机
C. 比例 起色 转变
D. 几率 起色 转机
- 打击犯罪行为和社会丑恶现象，我们需要“重拳出击”，但也不能①“日常防范”。前者固然可以集中优势火力，在社会上产生巨大震撼力，但日常防范更是持久之道。
- 举个例子，为了使网络扫黄制度化，主动化，许多知名网站都设立了“不良信息举报中心”，这是个好思路，体现“人民战争”的特点，但连这样的措施都难以遏制“黄渣”泛滥，重拳成果能维持多久?
- “严一阵松一阵”，让不法分子和色情网站有了“抗体”，学会“你进我退，你打我藏”，更严重的是：那几千家色情网站，几万条，几十万条不良信息，就在“春风吹又生”中，继续毒害了不知多少青少年，污染着整个社会风气。
- 日常防范，治本之策，其实比重拳出击更难。它直接体现的是政府监管思路、企业社会责任感。当“黄网”背后利润丰厚，而涉黄违法成本低廉，有多少互联网公司和服务供应商能够抵制这样的“诱惑”?当“情”与“色”始终难以在法理上界定，那种“穿一片布是低俗，挂两片布是艺术”的争议又怎能平息?当黄色网站泛滥始终得不到控制，“防沉迷”到底能起到多大作用?如若不能建立与时俱进的综合配套的管理办法，也许，永远不能从根子上拔掉网络色情的毒针……
- 作为新生事物，互联网的监管规律，全世界都在摸索之中。我国也在不断总结经验教训，有心人已经发现，今年“扫黄”风暴不仅长达半年，“运动战”开始演变成“常规战”，还将“派遣”网上虚拟警察，增设“报警岗亭”，以“技”制“技”……

我们有理由期待，在半年整治过后，“扫黄”成果中，不仅是关闭了多少色情网站，更重要的是，明年此时，“黄渣”不再泛起。

11. 填入①处最恰当的词是（ ）。
- A. 放任
B. 忽视
C. 减少
D. 削弱
12. 下列引文中不是用来表示比喻的是（ ）。
- A. “春风吹又生”
B. “你进我退，你打我藏”
C. “运动战”
D. “穿一片布是低俗，挂两片布是艺术”
13. 以“技”制“技”中的“技”在文章中表示（ ）。
- A. 科技
B. 技术
C. 方法
D. 管理
14. 根据文意，造成网络黄毒泛滥的主要原因是（ ）。
- A. “黄网”背后利润丰厚
B. 打击监管力度不足
C. 企业缺乏社会责任感
D. 黄毒在法理上难以界定
15. 准确概括文意的是（ ）。
- A. 如何在网络上进行扫黄
B. 摸索网络扫黄的方法
C. 必须对网络黄毒重重打击
D. 网络扫黄重在日常防范

第二部分 数量关系

在这部分试题中，每道题呈现一段表述数字关系的文字，要求你迅速、准确地计算出答案。

请开始答题：

16. 1615, 2422, 3629, 5436, ()
A. 8150
B. 8143
C. 7850
D. 7843
17. 8, 23, 27, 80, 84, 251, 255, ()
A. 764
B. 668
C. 686
D. 866
18. 2, 9, 22, 62, 168, 460, ()
A. 1065
B. 1156
C. 1265
D. 1256
19. 143, 152, 224, 314, 323, ()
A. 397
B. 503
C. 508
D. 406
20. 1.95, 5.83, 15.71, 34.59, ()
A. 64.57
B. 66.67
C. 65.57
D. 65.47
21. 14, 28, 84, 336, 1680, ()
A. 10080
B. 8080
C. 8180
D. 8280
22. 1234, 1243, 1324, 1342, 1423, 1432, ()
A. 2134
B. 2314
C. 2143
D. 2341
23. 3, 15, 75, 375, ()
A. 1865
B. 1875
C. 1885
D. 1895
24. 12, 34, 56, 78, ()
A. 910
B. 100
C. 91
D. 109
25. 2, 3, 9, 30, 273, ()
A. 8913
B. 8193
C. 7893
D. 12793
26. 设 $a = -\frac{96 \times 97}{98 \times 99}$, $b = -\frac{96 \times 99}{97 \times 98}$, $c = -\frac{96 \times 98}{97 \times 99}$, 则三个数 a、b、c 之间的关系为：()。
A. $A < B < C$
B. $B < C < A$
C. $C < B < A$
D. $C < A < B$
27. 办公楼前有两块草坪，其中一块草坪是正方形，面积为 400 平方米，另一块草坪是圆形，其直径比正方形边长长 10%。圆形草坪的面积是多少平方米？()
A. 410
B. 400

- C. 390
D. 380
28. 富贵村股民张大爷对股市非常关心，2007年4月20日，上证综指早盘高开11点，以3460.90点开盘后，随即逐波上攻，至终盘报收于3584.20点，较上一个交易日上涨了（ ）。
A. 3.56%
B. 11点
C. 113.70点
D. 134.30点
29. 爱好户外锻炼的张师傅，2004年2月份因有雨9天没有锻炼，张师傅该月没有户外锻炼的天数比锻炼的天数少（ ）。
A. 55%
B. 50%
C. 45%
D. 40%
30. 某月刊杂志，定价2.5元。幸福村有些户订了全年，其余户订了半年，共需5100元，如果订全年的改订半年，订半年的改订全年，则共需3000元。幸福村共有（ ）。
A. 200户
B. 190户
C. 180户
D. 170户
31. 王家村西瓜大丰收后，全村男女老少分四个组品尝西瓜且每组人数正好一样多，小伙子一人吃1个，姑娘两人吃1个，老人三人吃1个，小孩四人吃1个，一共吃了200个西瓜。问王家村品尝西瓜的共有（ ）。
A. 368人
B. 384人
C. 392人
D. 412人
32. 因为实行了“三统一”，社区卫生服务站卖药都是“零利润”。居民刘某说，过去复方降压片卖3.8元，现在卖0.8元；藿香正气水以前卖2.5元，现在降价了64%；另有两种药也分别降价了2.4元和3元。这四种药价平均降价了多少元？（ ）。
A. 3.5
B. 1.8
C. 3
D. 2.5
33. 小陈、小张、小赵和小周四人的平均基础工资为1010元，这次工资调整，他们的基础工资分别上调了254元、191元、146元和209元。现在四人的平均基础工资是（ ）。
A. 1180元
B. 1200元
C. 1080元
D. 1210元
34. 一次运动会上，18名游泳运动员中，有8名参加了仰泳，有10名参加了蛙泳，有12名参加了自由泳，有4名既参加仰泳又参加蛙泳，有6名既参加蛙泳又参加自由泳，有5名既参加仰泳又参加自由泳，有2名这3个项目都参加。这18名游泳运动员中，只参加1个项目的有（ ）。
A. 5名
B. 6名
C. 7名
D. 4名
35. 有两个山村之间的公路都是上坡和下坡，没有平坦路。客车上坡的速度保持20千米/小时，下坡的速度保持30千米/小时。现知客车在两个山村之间往返一次，需要行驶4小时。请问这两个山村之间的距离有多少千米？（ ）。
A. 45
B. 48
C. 50
D. 24

第三部分 判断推理

一、类比推理。每道题先给出一组相关的词，要求你在备选答案中找出一组与之在逻辑关系上最为贴近、相似或匹配的词。

请开始答题：

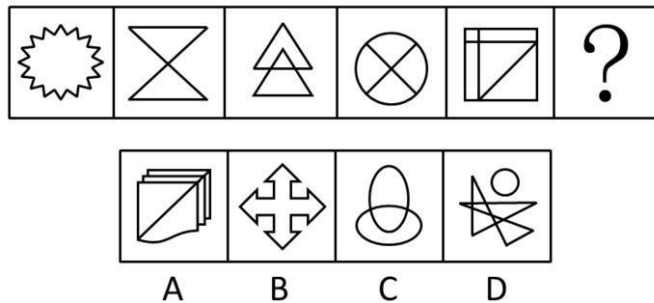
36. 春：花
A. 蓝：绿
C. 日：出
B. 秋：实
D. 耕：地
37. 贷：款
A. 改：革
C. 租：房
B. 解：决
D. 游：戏
38. 水：河流
A. 云：雨
C. 热：空调
B. 雪：龙
D. 家：房屋
39. 政治家：艺术家
A. 徽州：安徽人
C. 朋友：友好
B. 饼干：良品
D. 专家：农民
40. 政通：人和
A. 狼奔：豕突
C. 阳奉：阴违
B. 国富：民强
D. 门当：户对
41. 唐装：西服
A. 知音：派对
C. 重阳：情人节
B. 料理：快餐
D. 皮影戏：动漫
42. 山芋：红薯
A. 番茄：西红柿
C. 才华：才干
B. 菜籽：油菜
D. 烟斗：香烟
43. 网络：虚拟
A. 饮食：文化
C. 石器：甲骨文
B. 游戏：娱乐
D. 山脉：高耸
44. 蔬菜：田地
A. 农民：农业
C. 桔子：果园
B. 稻穗：水稻
D. 鼓手：乐队
45. 地球：行星
A. 春节：节日
C. 地理：地质
B. 春天：天气
D. 太阳：银河
46. 军人：教授
A. 音乐：歌曲
C. 江河：湖泊
B. 农村：城市
D. 商人：江苏人
47. 茶叶：提神
A. 保卫：枪械
C. 魔方：益智
B. 竹子：正直
D. 装饰：窗帘
48. 同意：答应

- A. 签约：赴约
 - B. 寂寞：烦恼
 - C. 收获：收成
 - D. 电灯：照明
49. 降龙：伏虎
- A. 生吞：活剥
 - B. 稳扎：稳打
 - C. 张冠：李戴
 - D. 登峰：造极
50. 立方体：几何学
- A. 比重：物理学
 - B. 血液：植物学
 - C. 地质学：化合物
 - D. 基因：历史

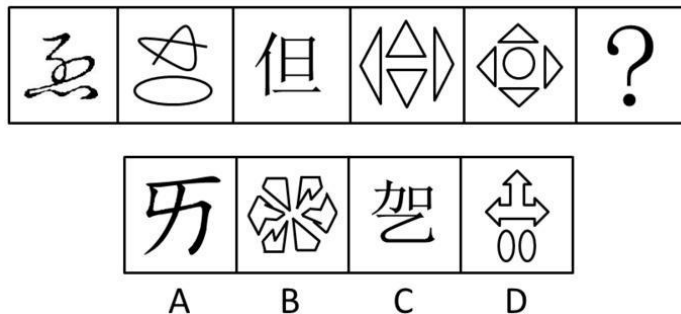
二、图形推理。请按每道题的答题要求作答。

请开始答题：

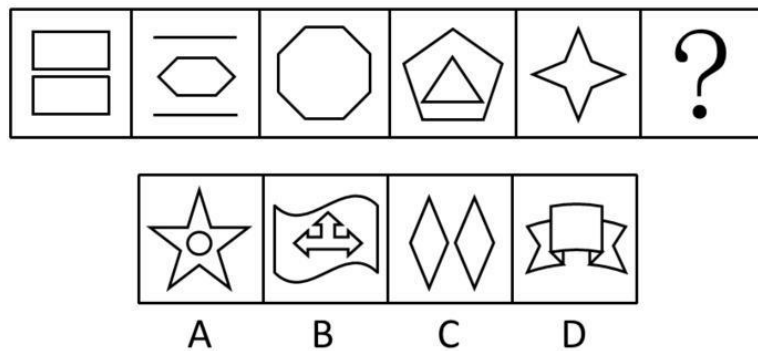
51. 从所给的四个选项中，选择最合适的一个填入问号处，使之呈现一定的规律性（ ）。



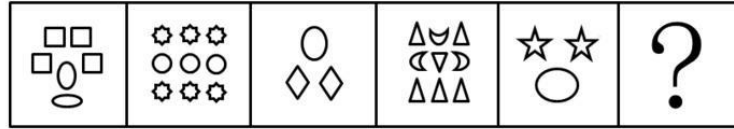
52. 从所给的四个选项中，选择最合适的一个填入问号处，使之呈现一定的规律性（ ）。



53. 从所给的四个选项中，选择最合适的一个填入问号处，使之呈现一定的规律性（ ）。

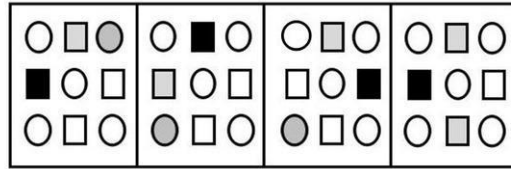
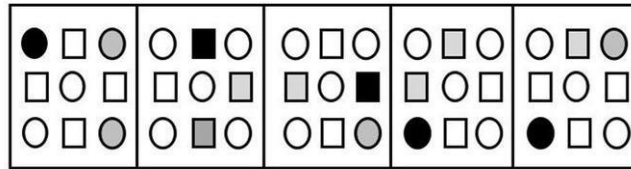


54. 从所给的四个选项中，选择最合适的一个填入问号处，使之呈现一定的规律性（ ）。



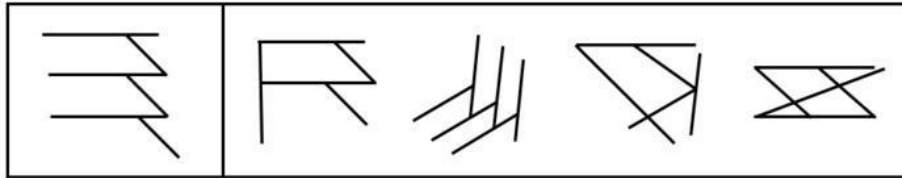
A B C D

55. 从 A、B、C、D 四个选项中最合适的一个，使得它保持第一行图形所呈现的规律性 ()。




A B C D

56. 以下各项图形，可由左侧图形中各组成部分经过平面变化得到的是 ()。



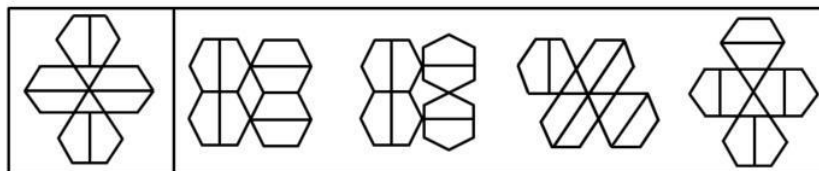
A B C D

57. 以下各项图形，可由左侧图形中各组成部分经过平面变化得到的是 ()。



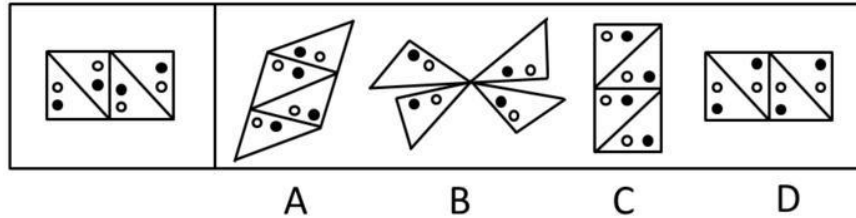
A B C D

58. 以下各项图形，可由左侧图形中各组成部分经过平面变化得到的是 ()。

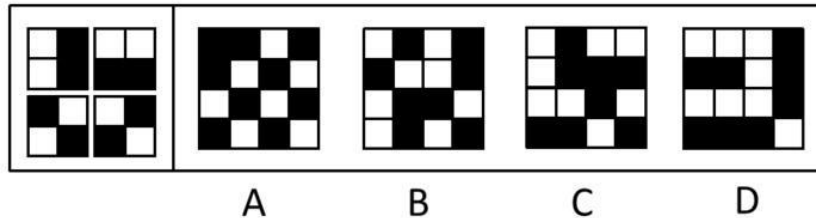


A B C D

59. 以下各项图形，可由左侧图形中各组成部分经过平面变化得到的是 ()。



60. 以下各项图形，可由左侧图形中各组成部分经过平面变化得到的是（ ）。



三、逻辑判断。每道题给出一段陈述，这段陈述被假设是正确的，不容置疑的。要求你根据这段陈述，选择一个答案。注意：正确的答案应与所给的陈述相符合，不需要任何附加说明即可以从陈述中直接推出。

请开始答题：

61. 在第七届村委会选举中，张家湾共有 1548 名村民参加了选举。从选举结果看，有少数选民投了部分候选人的票，有些候选人获得了大部分选民的选票，还有极少数选民投了所有候选人的票。所有候选人都认可选举结果，张家湾村民对新当选的村委会成员都比较满意。由此可见，在张家湾第七届村委会选举中（ ）。
- A. 所有的选民都参加了选举
B. 绝大部分选民的选票是有效的
C. 所有的候选人至少都获得了部分选票
D. 有个别候选人获得的选票没有超过半数
62. 如果在仪器周围存在一个强电子或者存在一个场，那么仪器就可以检测到所有的场并且会蜂鸣不断。强电子的存在至少导致一个场的存在。当仪器周围只存在弱电子时，仪器不会蜂鸣。现在仪器没有蜂鸣。由此可见（ ）。
- A. 仪器没有检测到所有场的存在
B. 仪器周围没有强电子
C. 仪器周围只存在弱电子
D. 强电子的存在未必导致一个场的存在
63. 开展技能型政府建设活动可以有效地提高政府部门的工作效率。只有培养乡镇干部的创业精神和服务意识，提高乡镇干部的技能水平和服务本领，并转变乡镇政府职能，才能有效地进行技能型政府建设。由此可见（ ）。
- A. 只有培养乡镇干部的创业精神和服务意识，才能转变乡镇政府职能
B. 只有提高乡镇干部的技能水平和服务本领，才能培养乡镇干部的服务意识
C. 如果不能提高乡镇干部的技能水平和服务本领，就不能有效进行技能型政府建设
D. 如果没有转变乡镇政府职能，就不能培养乡镇干部的创业精神和服务意识
64. 通过对某地农村情况的调查发现，如果农民从事科技含量高的新型农业项目，那么收益普遍较好；只要农民从事产业化程度不高的农业项目，收益就普遍不好。高效农业项目发展需要多样化。朝阳村农民收益很好。可见，朝阳村的农业项目（ ）。
- A. 产业化程度高
B. 科技含量高
C. 发展多样化
D. 属于高效农业项目

65. 在对某地旅游景点的调研统计中发现：凡是坚持绿色环保的旅游景点效益都非常好，而采取高收费门票政策的旅游景点效益都不是非常好，一些具有良好服务意识的旅游景点效益也非常不错。
- 由此可见（ ）。
- A. 坚持绿色环保的旅游景点都是具有良好服务意识的
B. 有些具有良好服务意识的旅游景点是坚持绿色环保的
C. 采取高收费门票政策的旅游景点都没有坚持绿色环保
D. 有些采取高收费门票政策的旅游景点没有良好的服务意识
66. 向国家纳税是所有公民的义务，但是，有的公民偷税漏税。不过，并非所有的公民都偷税漏税。
- 据此，可以推出（ ）。
- A. 公民的义务是向国家纳税
B. 有的公民不偷税漏税
C. 偷税漏税的公民不是好公民
D. 向国家纳税的公民是好公民
67. 全面建设节约型社会，就是以发展促节约，以节约保发展。全社会只有增强资源节约意识，资源利用的效率才能充分提高：如果资源节约技术和管理水平进一步提高，并且节约型社会的相关政策法规进一步完善，那么环境保护就可以获得更加有力的保障。
- 由此可见（ ）。
- A. 如果资源利用的效率充分提高了，那么说明全社会资源节约意识增强了
B. 只有资源节约技术进一步提高，全社会资源节约意识才能进一步增强
C. 如果节约型社会的相关政策法规进一步完善，那么环保就可以获得更加有力的保障
D. 只有节约型社会的相关政策法规进一步完善，才能进一步提高资源节约的管理水平
68. 如果小巫通过各项选拔测试，则他就会参加 08 年奥运会比赛；如果他通不过各项选拔测试，则他继续参加特殊训练；如果他不参加 08 年奥运会比赛，则不继续参加特殊训练。
- 由此可见，小巫将（ ）。
- A. 通不过各项选拔测试
B. 继续参加特殊训练
C. 不参加 08 年奥运会比赛
D. 参加 08 年奥运会比赛
69. 某县在一次招商引资活动中，投资商刁难引资方说：“我有三个项目：环境项目、旅游项目和化工项目。如果你说的话是正确的，我就把其中的一个项目投资到贵县；但是如果你说的话是错误的，我就一个项目也不投资。”
- 引资方当然想获得环保项目。那么引资方该如何说呢（ ）。
- A. 你不会把环境项目或旅游项目投资到我县
B. 你不会把环境项目或化工项目投资到我县
C. 你不会把旅游项目或化工项目投资到我县
D. 你不会把旅游项目和化工项目都投资到我县
70. 某研究所有 15 名研究员和研究生，再过几天，该所将增加 1 人。无论该所是否增加 1 人，下述情况都不会改变：在这些科研人员中，研究生多于研究员；男研究员多于男研究生；男研究生多于女研究生；至少有一位女研究员。
- 由此可见，即将增加的人是（ ）。
- A. 女研究生
B. 男研究员
C. 女研究员
D. 男研究生

四、定义判断。每道题先给出定义，然后列出四种情况，要求你严格依据定义，从中选出一个最符合或最不符合该定义的答案。注意：假设这个定义是正确的，不容置疑的。

请开始答题：

71. 美学思维方法：指运用审美的观点去寻求解决问题途径的一种思维方法。

下列属于美学思维方法的是（ ）。

- A. 这个世界不是缺少美，而是缺少发现美的眼睛
- B. 爱美之心，人皆有之
- C. 好的产品也需要好的包装
- D. 有美丽的外表，不如美丽的心灵

72. 佻倻心情：指受到压抑的心情或不能充分流露或发挥的心情。

下列不属于佻倻心情的是（ ）。

- A. 小雪在某公交站挤乘公交车时，不慎丢失了身份证，回家后越想越气，又不好对家人发火，只好一人独坐，默不作声
- B. 晓旭在卡拉 OK 演唱会上演唱时因起音太高，在唱到高音时未能唱上去，只好勉强唱完，下场后为此不禁潸然泪下
- C. 小刚在复习迎考时常常因起早贪黑而忘记吃营养品，妈妈为此很着急，每天专门为孩子精心准备一袋牛奶并看着他喝下才离开
- D. 小毛在单位一向受人好评，但年度评优时因名额有限而未能评上，小毛为此闷闷不乐，最近一段时间才有了较大起色

73. 基因歧视：指人们从基因的角度对遗传倾向进行预测，在揭示和公开遗传信息后，对携带某些“不利基因”或“缺陷基因”者的社会活动产生不利的影晌。

下列与基因歧视无关的是（ ）。

- A. 老王是严重的高血压病患者，他的儿子小王今年 24 岁，多次应聘不成的原因就是应聘单位知道他父亲的病史
- B. 小娇的母亲是乙肝患者，小娇已到了上幼儿园的年龄，但没有一个幼儿园敢接受她，都害怕她携带乙肝病毒传染给其他小朋友
- C. 小徐在一家大公司工作，经济收入颇丰，身高 1.78 米，一表人才，但因患有癫痫病，谈了好多个女朋友都告吹了，至今未找到对象
- D. 小谢在一次事故中失去了左脚，他的女朋友提出与他分手，说她无法跟一个四肢不健全的人过一辈子，如果再生一个没脚的孩子更是让人笑话。小谢又气又恨，答应分手

74. 双面心理：指人们在工作、学习等方面表现出来的一方面十分投入、加倍努力，另一方面又心生厌恶甚至排斥的矛盾心理现象。

下列不属于双面心理的是（ ）。

- A. 某集团公司财务部经理唐某，平日加班加点是常事，忙工作忙应酬打点，唐某曾坦言，负担大得几近难以承受，很想辞职，却又一刻离不开
- B. 某银行职员小潘对他的朋友说：“说实话，我很累，也很想逃避，可事实上，我们是金融单位，不能有丝毫懈怠，必须全力以赴，一旦出了差错，后果将不堪设想。”
- C. 小荣今年将参加高考，最近他已进入了复习的紧张阶段，每天只能睡 4 小时，不想记公式又不得不记，不想背书又必须背得很熟，不想做题又不得不认真做题
- D. 只要经理要小刚做的事，小刚每次都愉快地接受任务。有的不费力的事小刚就自己做完，那些费力的事小刚一般悄悄请同事代他做，有些事经理不追就先搁在一旁

75. 极端制造：指在极端条件下，制造极端尺度或极高功能的器件和功能系统，集中表现在微细制造、超精密制造、巨系统制造等方面。
下列不属于极端制造的是（ ）。
- A. 无缝钢管、电子秤、折叠自行车等的制造
B. 飞机制造与热连轧机组制造等复杂系统制造
C. 以激光、电子束、离子束刻蚀等强能束制造为代表的激光加工
D. 生物矿石破碎、微生物冶金技术等生物制造
76. 走读老人：指由几个儿女轮流赡养，定时定期辗转于各个儿女家生活的老人。
下列最有可能属于走读老人的是（ ）。
- A. 赵老太操劳一生抚养了5个儿女，如今儿女们都在外地工作，儿女们对她很孝敬，她每年绝大多数时间都在子女家度过
B. 肖大爷今年78岁，有3个子女，但3个子女一个也不愿赡养他。经法院判定，每个子女每月出赡养费230元，把老人送到敬老院安度晚年，他的3个子女对此判决无异议
C. 严老汉今年69岁，共有2个儿子，都已成家，严老汉的儿子很孝顺，都争着要赡养他，老汉为了平衡关系，每年每家都呆一段时间，自己也独自生活一段时间
D. 陈太太前年中风，生活不能自理，她的4个女儿都有自己的工作和自己的家，为了能照料好老母亲，每家每年照应3个月
77. 自励性幽默：指采用自嘲的方式，化被动为主动，化解尴尬局面的一种幽默艺术。
下列属于自励性幽默的是（ ）。
- A. 马克·吐温指责美国的一些国会议员是“狗娘养的”。一些国会议员强烈要求其道歉。马克·吐温登报道歉说：“我的话是说错了，对此我深表歉意，并郑重声明‘美国国会中一些议员不是狗娘养的’。”
B. 美国前总统林肯面对对手攻击他为人“说一套，做一套，有两张脸”的指控，他平静地回答：“刚才那位先生说我有两张脸。如果我真有两张脸的话，我能带着这张丑脸来见大家吗？”
C. 美国前总统里根在遇刺后，进入手术室前，身为共和党人的里根却轻松地对大夫和护士说：“麻烦你们告诉我，你们都是共和党人。”对此，医生们微笑着回答：“总统先生，我们向您宣誓，今天我们全是共和党人。”
D. 一次加拿大全国大选，一个对手拿时任总理的歪嘴做文章，嘲笑说他做人与他那张嘴一样的歪。这句话虽然产生了幽默效果，却也使说话人失去了大选
78. 精确农业：指利用现代高新技术，获取农田小区作物产量和影响作物生长的环境因素实际存在的差异性信息，分析原因，并采取有效调控措施的“处方农业”。
下列不属于精确农业的是（ ）。
- A. 根据土壤的需要使肥力的状况得到改善
B. 根据病虫害的情况来调节农药喷洒量
C. 自动调节拖拉机的耕种深度
D. 继续耕种那些已经板结的土地
79. 绿色收入：指通过合法手段得到的工资以外的收入。
下列属于绿色收入的是（ ）。
- A. 某刊约请赵宏撰一篇专稿，稿酬是普通稿酬的十倍，赵因时间紧未写成，就把同事从网上下载来的稿子署上自己的名字给了该刊，稿件刊发后赵得到一笔可观稿酬
B. 李教授在推广自己的科研成果过程中，常应邀作专题讲座，他也因此能拿到一定数额的专家讲课费，不过他每次都主动纳税
C. 某职员出差回来报差旅费时，发现有几张票据遗失了，于是他另外找了几张超额票据要单位报销，因为有领导签字，会计就把钱发给了他

D. 某小学教师星期天私自在家中为学习有困难的学生办补习班，每生每次收费 50 元，不少学生通过补课有了很大长进，家长很乐意付费

80. 列锦：指将几个名词或名词性短语排列起来构成句子的一种修辞手法，句中虽然没有谓语，却能表达复杂的思想感情，多角度地描绘事物。

下列不属于列锦修辞手法的是（ ）。

A. 落叶他乡树，寒灯独夜人

B. 朱门酒肉臭，路有冻死骨

C. 乱山残雪夜，孤烛异乡人

D. 鸡声茅店月，人迹板桥霜

第五部分 资料分析

针对下列图、表或文字回答问题。你应根据资料提供的信息进行分析、比较、计算、处理。你可以在题本上运算。

请开始答题：

一、根据以下资料，回答问题。

调查显示：2006年以来江苏省消费市场持续趋旺，四季度批发业、零售业与餐饮业企业景气指数均运行于高位景气区间，分别比上年同期上升8.97点、9.98点和8.15点。

最新统计数据显示，2006年前11个月，江苏消费品市场保持旺盛势头，全社会消费品零售总额突破6000亿元，达6008亿元，增长16.1%，增速居全国第三位。2006年前11个月，苏南、苏北、苏中分别增长16.3%、16%和15.9%。各大类商品中，家具、建筑及装潢材料、汽车等消费热点表现抢眼，11月份同比分别增长210.6%、102.2%和42.6%。

2006年四季度，江苏省房地产行业企业景气指数及企业家信心指数均比上年同期有所上升。新开工情况、商品房销售价格、盈利情况及劳动力需求等指标景气指数增长明显，分别为105.47、124.3、126.98、113.69，其中商品房销售价格景气指数比二、三季度和上年同期分别上升4.26点、10.98点。空置商品房景气指数重回150景气区间，为150.5。

数据显示：2006年前三季度，江苏省商品房销售面积为3638.42万平方米，居全国首位，占全国总量的10.1%，同比增长9.9%。前三季度全省期房销售面积为2651.20万平方米，所占比重为72.9%，比全国平均水平高了5.2个百分点，同比增速高达17.5%；现房销售面积为987.21万平方米，同比下降6.3%，所占比重为27.1%。

81. 2006年前三季度，江苏省商品房销售面积中现房销售面积的比重比全国平均水平（ ）。
- A. 高5.2个百分点
B. 低5.2个百分点
C. 低6.3个百分点
D. 高6.3个百分点
82. 2006年第三季度江苏省商品房销售价格景气指数为（ ）。
- A. 100.77
B. 119.22
C. 120.04
D. 124.30
83. 2006年11月份江苏省建筑及装潢材料的零售总额约是2005年11月份的（ ）。
- A. 3倍
B. 1倍
C. 1.4倍
D. 2倍
84. 2006年前三季度，全国商品房销售面积为多少亿平方米？（ ）
- A. 3.6
B. 0.36
C. 36024.0
D. 36538.1
85. 下列说法不正确的是（ ）。
- A. 2006年前11个月，苏南的全社会消费品零售总额增速快于江苏平均水平
B. 2006年第四季度，批发业、零售业、餐饮业的企业景气指数均比上年同期有所上升
C. 2006年前11个月，江苏全社会消费品零售总额增速居全国第三位
D. 2006年第三季度，江苏省空置商品房景气指数处于150景气区间
- 二、根据以下材料，回答问题。

(一) 2005年某省各种运输统计表

运输方式	货物周转量		货运量		旅客周转量		客运量	
	绝对数 (亿吨公里)	比上年增长 (%)	绝对数 (亿吨)	比上年增长 (%)	绝对数 (亿人公里)	比上年增长 (%)	绝对数 (万人)	比上年增长 (%)
总计	3645.6	18.8	125114.0	10.8	1366.8	11.9	161320.9	11.1
铁路	497.2	3.5	5169.2	1.6	267.9	9.2	7288.7	9.5
公路	542.1	18.1	84319.0	10.5	1062.6	12.1	153725.0	11.2
水运	2516.1	22.3	32862.0	12.3	0.1	-5.4	27.0	27.0
民航	0.6	10.9	4.8	11.5	36.2	27.4	280.2	26.2
管道	89.6	24.8	2759.0	23.4	-	-	-	-

86. 该省公路货运量比铁路多多少亿吨? ()
 A. 2410.0 B. 40795.0
 C. 51457.0 D. 79149.8
87. 2005年该省客运量为多少亿人? ()
 A. 16.1 B. 1612.3
 C. 7288.7 D. 161320.9
88. 该省的货物周转总量 2005 年比 2004 年大约增加多少亿吨公里? ()
 A. 377 B. 477
 C. 577 D. 677
89. 下列三项中正确的有几项? ()
 (1) 与 2004 年相比, 2005 年该省旅客周转量只有水运方式减少
 (2) 2005 年该省主要客运方式是公路运输
 (3) 2006 年该省客运量方面民航增加量最大
 A. 0 B. 1
 C. 2 D. 3
90. 下列三项中不正确的有几项? ()
 (1) 2005 年该省货物周转量中, 各种运输方式比 2004 年都有所增加
 (2) 2005 年该省货运量中, 运输增长率最高的是公路
 (3) 2005 年该省货运量中, 运输量最多的是铁路
 A. 0 B. 1
 C. 2 D. 3

三、根据以下资料, 回答问题。

(二) 2006 年某省不同收入阶层城镇居民住房户型构成比例 (%)

	最低 10%	低 10%	较低 20%	中间 20%	较高 20%	高 10%	最高 10%	全省
独栋住宅	2.7	3.9	3.1	3.7	3.1	3.2	3.3	3.3
四居室	2.5	1.8	2.1	3.6	4.4	4.4	7.0	3.7
三居室	15.5	17.0	22.9	22.9	33.0	39.2	41.4	27.3
二居室	33.6	37.5	45.2	50.5	48.7	44.6	42.0	44.8
一居室	5.4	6.8	5.4	4.9	3.3	1.7	2.5	4.3
普通楼房	11.9	13.5	8.9	7.2	4.3	2.8	1.6	6.9
平房及其他	28.4	19.5	12.4	7.2	3.2	4.1	2.2	9.7

- A. 1~1.5 万项之间
- B. 1.5~4 万项之间
- C. 3.5~4 万项之间
- D. 3~5 万项之间

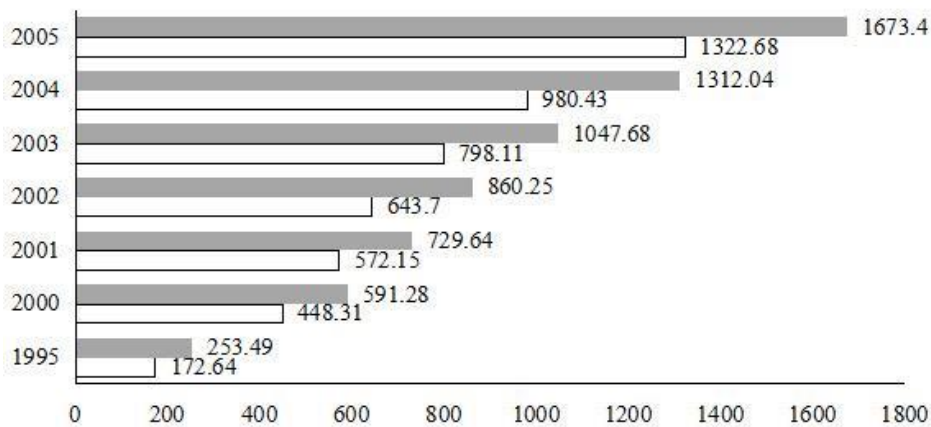
100. 下列三项正确的有几项? ()

- (1) 2001~2005 年, 每年全国技术市场成交合同数最少的是技术转让
- (2) 技术市场成交合同数中, 技术开发类年平均增长率最高
- (3) 五年技术咨询和技术开发中, 每年成交合同数都不少于 40000 项

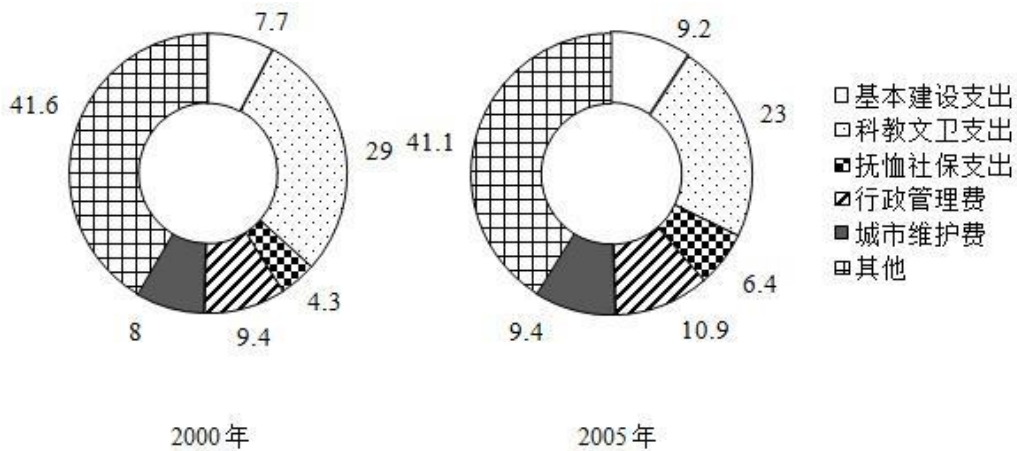
- A. 3
- B. 2
- C. 1
- D. 0

五、根据以下资料, 回答问题。

江苏地方财政一般预算收支情况



■ 收入 (亿元) □ 支出 (亿元)



江苏地方财政一般预算支出构成 (%)

101. 2005 年与 2000 年相比, 在基本建设支出、抚恤社保支出、行政管理费、城市维护费中, 占江苏地方财政一般预算支出比重变化最大的是 ()。

- A. 基本建设支出
- B. 抚恤社保支出
- C. 行政管理费
- D. 城市维护费

102. 与 2000 年相比, 2005 年江苏地方财政一般预算支出中用于科教文卫支出的数额 ()。

- A. 减少了 80%
- B. 减少了 17.4 亿元
- C. 增加了 80%
- D. 增加了 174.2 亿元

103. 图中, 江苏地方财政一般预算收入比上年增长数额最大的是 ()。

- A. 2005 年
- B. 2004 年

- C. 2001年
D. 2000年
104. 2001~2005年, 江苏地方财政一般预算支出年增长比率最大的是()。
- A. 2001年
B. 2003年
C. 2005年
D. 2004年
105. 2005年江苏地方财政一般预算支出中用于抚恤社保支出的数额是()。
- A. 36.82亿元
B. 52.78亿元
C. 69.96亿元
D. 84.65亿元