

## 第一部分 常识判断

根据题目要求，在四个选项中选出一个最恰当的答案。

请开始答题：

1. 法是由（ ）制定、认可和解释，并有普遍约束力的社会规范。  
A. 法院  
B. 公安局  
C. 国家  
D. 军队
2. （ ）是确立国家制度和社会制度的基本原则与政策，调整公民权利与国家权力之间的基本关系的国家根本法。  
A. 宪法  
B. 民法  
C. 刑法  
D. 农业法
3. （ ）是我国农村居民自己组织起来，实行自我管理、自我教育、自我服务的基层群众性自治组织。  
A. 县级人民代表大会  
B. 村民委员会  
C. 当地派出所  
D. 生产大队
4. 在村庄里有人选择信仰基督教，也有人选择信仰佛教。这体现了我国现行宪法规定的哪项公民基本权利？（ ）  
A. 平等权  
B. 政治自由  
C. 宗教信仰自由  
D. 人身自由
5. 《宪法》第3条规定：“中华人民共和国的国家机构实行（ ）的原则。”  
A. 人民代表大会制  
B. 民主集中制  
C. 领导决策制  
D. 为人民服务
6. 行政机关依照法定程序，赋予相对人从事某种活动的权利和资格，例如捕捞、开业、建房等，这种过程被称为（ ）。  
A. 行政诉讼  
B. 行政处罚  
C. 行政合同  
D. 行政许可
7. （ ）是指因行政法上的权利与义务关系发生争执，或者权利与利益受到侵犯，以自己名义进行诉讼，并受司法裁判约束的利害关系人。  
A. 法官  
B. 行政诉讼当事人  
C. 群众  
D. 律师
8. 年轻人陈某与刘某是邻居，某日由于琐事发生争执，陈某激动之下突然推了刘某一把，刘某跌倒后头部恰巧撞上一块石头，当下不治身亡。问陈某构成什么罪？（ ）  
A. 寻衅滋事罪  
B. 流氓罪  
C. 故意杀人罪  
D. 故意伤害致人死亡
9. （ ）是指强迫犯罪的外国人离开中国国（边）境的刑罚方法。  
A. 流放  
B. 驱逐出境  
C. 遣送  
D. 通缉
10. 下列属于法人的是（ ）。  
A. 方海进出口贸易公司  
B. 某村村长李某  
C. 某县担任法官的宋某  
D. 人大代表刘某
11. 为牟取不正当利益，给予国家工作人员以财物的行为触犯了（ ）罪名。  
A. 贪污罪  
B. 受贿罪  
C. 渎职罪  
D. 行贿罪

12. 根据我国继承法的相关规定，下列属于第一顺序法定继承人的是（ ）。
- A. 兄弟姐妹  
B. 祖父母  
C. 儿媳女婿  
D. 子女
13. 合同一方当事人为了证明合同成立，保证合同履行，根据合同约定预先付给另一方当事人的一定数额的货币称之为（ ）。
- A. 罚款  
B. 债券  
C. 定金  
D. 证明
14. （ ）管辖第一审民事案件，民事诉讼法另有规定的除外。
- A. 基层人民法院  
B. 中级人民法院  
C. 高级人民法院  
D. 最高人民法院
15. 合议制度是指由（ ）名以上审判人员组成审判组织，代表人民法院对民事案件进行集体审理和裁判的制度。
- A. 2  
B. 3  
C. 5  
D. 9
16. 宇航员在月球上跳起的高度比地球上高几倍，这是因为（ ）。
- A. 月球上没有空气，阻力小  
B. 宇航员长期负荷工作，体重变轻了  
C. 月球对人体的引力比地球对人体的引力小  
D. 人体的弹跳能力发生了本质的变化
17. 生命科学中“克隆”一词的含义是（ ）。
- A. 生物个体的再生  
B. 生物个体的无性繁殖  
C. 生物个体没有性别  
D. 生物个体的器官移植
18. 中国民航总局决定严禁旅客在飞机飞行过程中使用如手机、电脑、电子游戏机、遥控玩具、视音频接收机等各种电子设备。其主要原因是（ ）。
- A. 使用这些电子设备影响其他旅客在飞机飞行中休息  
B. 这些电子设备容易损坏，增加了航空公司的赔偿责任  
C. 这些电子设备在使用中发出电磁波，电磁波干扰飞机上的电子设备从而威胁飞机飞行安全  
D. 这些电子设备在使用过程中发出的电磁波会对旅客本人及其他旅客的身体健康造成损害
19. 按照生态学原理和生态经济规律，因地制宜地设计、组装、调整和管理农业生产和农村经济的系统工程体系，被称为（ ）。
- A. 高科技农业  
B. 生态农业  
C. 新型农业  
D. 传统农业
20. （ ）可以通过突破物种间的遗传障碍改良农作物，起到抗病毒、抗除草剂，品质改良、提高产量潜力等重大作用。
- A. 基因工程技术  
B. 卫星通信技术  
C. 超导技术  
D. 激光技术





- B. 要注意提高改革决策的科学性  
 C. 要正确处理改革、发展、稳定的关系  
 D. 要坚持和完善国家对经济的宏观调控
37. 现在，许多科技期刊大量充斥着关系稿、人情稿、职称稿、赞助稿，这对学术腐败起着推波助澜的作用。  
 根据这段话我们可以知道（ ）。  
 A. 许多科技期刊即将被查处  
 B. 许多科技期刊的处境相当窘迫  
 C. 许多科技期刊的学术质量不能保证  
 D. 许多科技期刊的内容相当复杂
38. 随着我国经济持续增长，工业化水平不断提高，城市化急速推进以及人民生活水平不断改善，对能源的需求必然是急剧、大量增长的。但高增长、高耗能、高污染、高浪费、低效益的发展模式是绝对不可取的。  
 最能准确复述上面这段话主要意思的是（ ）。  
 A. 我国的能源问题日益严重，这主要是由于经济快速增长造成的  
 B. 要把追求经济增长放在我们工作的首要位置  
 C. 不能一味追求经济高速增长，而应大力限制能源消费  
 D. 应当在保持经济高速增长的同时，把过高的能源消耗降下来
39. 由于网络具有虚拟特征，因而对网络民意要认真分析鉴别。从上网的群体结构看，年轻人占绝大多数。完全无视网络民意则是闭目塞听，过于相信网络民意则可能会偏听偏信。  
 根据以上文字，下列理解正确的是（ ）。  
 A. 网络民意根本不能反映真正的民意  
 B. 网络民意可以代表真正的民意  
 C. 网络民意是年轻人的民意  
 D. 可以把网络民意作为重要的参考，但不能作为决定性因素
40. 构建社会主义和谐社会，要以解决人民群众最关心、最直接、最现实的利益问题为重点。什么是这些利益问题，一定要深入实际深入群众中去倾听、了解。除了深入下去调查研究以外，必须有上得来的社情民意表达渠道，形成科学有效的利益诉求表达机制。这种表达渠道和表达机制是构建社会主义和谐社会过程中\_\_\_\_\_。  
 填入横线部分最恰当的一项是（ ）。  
 A. 化解矛盾的手段  
 B. 科学规范的保障  
 C. 产生的新目标、新任务  
 D. 作出正确决策的前提和基础
41. 台湾农业科技较发达，农业经营理念和管理经验丰富，资金、技术、人才优势明显，但因地狭人稠，农业资源短缺，劳动力成本高，入世后台湾农产品受到全球农产品的冲击，而祖国大陆幅员辽阔，农业资源丰富，劳动力充沛，市场广大。所以我们说，\_\_\_\_\_。  
 填入横线部分最恰当的一项是（ ）。  
 A. 两岸农业经济的发展很不平衡  
 B. 两岸农业合作的发展空间是有限的  
 C. 两岸的农业合作会有很强的互补性，可以互利双赢  
 D. 两岸的农业经济各有各的优势
42. 我国产业安全面临的突出问题，主要是在技术密集型产业中，核心技术大多依赖外国公司，在国际分工体系中处于劣势地位。因此，增强我国产业安全的主要途径应该是\_\_\_\_\_。  
 填入横线部分最恰当的一项是（ ）。  
 A. 增强自主创新能力  
 B. 使我国 GDP 持续快速增长

- C. 依靠劳动力价格的优势  
D. 依靠科技引进和利用外资
43. 北京申办 2008 年奥运会成功带动了全民健身运动的快速发展，群众性体育活动的内容和形式更加丰富多彩。奥运会项目的竞争性不仅能引起社会关注，而且能使人们产生强烈的感情刺激和情感体验，鼓舞人们参加体育活动，强化健身意识。  
这段话的主要观点是（ ）。
- A. 群众性体育活动的开展是申奥成功的关键  
B. 竞争性体育运动与群众性体育活动密不可分  
C. 申奥成功能促进群众性体育活动的发展  
D. 奥运会的顺利举办离不开广大群众的积极参与
44. 行政分权的改革事实上并没有使经济决策权从中央政府转移到企业手中。地方政府通过各种非正式的机制，不仅控制了地方性的资源，而且还截留并扩大了对企业的控制权。  
这段话直接支持的观点是（ ）。
- A. 行政分权改革实际上是把权力转给了地方政府  
B. 行政分权的改革已经失败  
C. 行政分权改革对企业的进一步发展起到了积极的作用  
D. 与行政改革前一样，广大企业还是没有生产经营权
45. 政策和制度在相当程度上带有人们的主观意志，或者说是人们意志作用的结果。因此在宏观经济管理过程中，行政调节方法运用得是否合理和科学，主要取决于人们主观上对客观事物的认识是否正确，取决于人们对客观规律和复杂的经济活动的了解和掌握程度。  
这段文字的主旨是（ ）。
- A. 行政调节方法在宏观经济管理中的局限性  
B. 政策和制度在制定过程中存在不科学性  
C. 应该用经济和法律等其他调节方法取代行政调节方法  
D. 政策和制度的正确与否，取决于其制定者的主观因素
46. 关联交易和资金转移在其他国家是明令禁止的，而在中国，借壳上市却成了许多人股市淘金的捷径。如果上市是为企业筹集资金，借壳也无可指责。然而，看多了象蓝田这样的皮包公司的伎俩，我们不能不对股市上的概念股打上几个问号。  
下列陈述，不能从文意中得出的是（ ）。
- A. 通过借壳上市的方法可以为企业筹集资金  
B. 为企业筹集资金不是皮包公司借壳上市的真正目的  
C. 关联交易和资金转移在我国常有发生  
D. 中国在现阶段应该取消借壳上市的做法
47. 人的价值并不取决于是否掌握真理，或者自认为真理在握，决定人的价值的是追求真理的孜孜不倦的精神。  
对这段话最准确的复述是，人生价值（ ）。
- A. 在于掌握真理  
B. 必须由自己去把握  
C. 在于运用真理改造客观世界  
D. 体现于对真理的不懈追求之中
48. 我国现阶段发展老龄产业，不仅能够满足老年人群的特殊需要，还有利于形成新的消费热点，扩大内需，增加就业岗位，优化产业结构。同时能促进城乡协调发展和代际反馈，它将在应对人口老龄化和促进经济社会发展之间架起一座桥梁，达成双赢的局面。  
对本文主旨理解最准确的是（ ）。
- A. 中国社会的老龄化问题亟待解决

- B. 我国老年人群的消费市场存在巨大潜力
- C. 目前我国推动老龄产业发展的时机已经成熟
- D. 老龄产业的发展必将在很大程度上拉动我国经济的增长
49. 二恶英是一种持久性有机污染物，目前对二恶英的治理存在各方面的难题。首先，对二恶英的监测技术要求很高，采样要求很严格，需要特殊的高灵敏检测仪器。其次，二恶英类化合物分布广泛、污染源多。垃圾焚烧是二恶英的一个重要来源，美、日、德都有比较先进的技术来处理，如活性炭吸附、催化剂处理等，但中国目前还很少采用这些办法。作为一个发展中国家来说，污染物处理的技术和成本都是需要考虑的问题。
- 根据这段话，理解正确的是（ ）。
- A. 技术和成本是制约我国治理二恶英污染的主要因素
- B. 我国目前还不具备从环境中检测出二恶英的技术水平
- C. 增加经费投入能够解决目前的问题
- D. 由于分布广泛，根除二恶英污染是不可能的
50. 作为一个发展中国家，自主创新并非自己创新，更非封闭式创新。不能排斥技术引进，但技术创新能力无法通过引进直接获得，关键技术更是买不来，日本和韩国引进技术和消化吸收费用的比例分别为 1:5 和 1:8，而我国的比例为 1:0.15。
- 由此可见，我国技术引进的主要问题是（ ）。
- A. 对引进技术的消化吸收和再创新不够
- B. 过分依赖技术引进，自主创新能力不强
- C. 引进先进技术的力度还不够
- D. 引进的技术并不是世界上最先进、最关键的技术

### 第三部分 数量关系

在这部分试题中，每道题呈现一段表述数字关系的文字，要求你迅速、准确地计算出答案。

请开始答题：

51. 1, 4, 7, 10, ( )  
A. 13  
B. 14  
C. 15  
D. 16
52. 4, 9, 16, 25, ( )  
A. 32  
B. 36  
C. 42  
D. 49
53. 2, 3, 5, 8, 13, ( )  
A. 24  
B. 23  
C. 22  
D. 21
54. 6, 18, 54, 162, ( )  
A. 368  
B. 384  
C. 438  
D. 486
55. 25, 28, 32, ( ), 40, 44, 49  
A. 35  
B. 36  
C. 37  
D. 38
56. 17, 28, 19, 26, 21, 24, ( ), 22  
A. 27  
B. 26  
C. 25  
D. 23
57. 1, 10, 23, 32, 45, 54, ( )  
A. 64  
B. 67  
C. 70  
D. 72
58. 343, 216, 125, 64, 27, ( )  
A. 8  
B. 9  
C. 10  
D. 12
59. 5, 6, 10, 19, 35, ( )  
A. 56  
B. 58  
C. 60  
D. 68
60. 4, 7, 9, 4, 25, ( )  
A. 487  
B. 441  
C. 386  
D. 364
61.  $56.72+167.38-37.51-4.02=( )$ 。  
A. 155.63  
B. 182.57  
C. 167.34  
D. 190.41
62. 现在是上午 8 点整，请问过 1500 分钟后是几点？( )  
A. 上午 8 点  
B. 下午 8 点  
C. 上午 9 点  
D. 下午 9 点
63. 最大的四位数与最小的五位数相差多少？( )



- A. 1  
C. 1000
- B. 9  
D. 1111
64. 一个袋内有 100 个球，其中有红球 28 个、绿球 20 个、黄球 12 个、蓝球 20 个、白球 10 个、黑球 10 个。现在从袋中任意摸球出来，如果要使摸出的球中，至少有 15 个球的颜色相同，问至少要摸出几个球才能保证满足上述要求？（ ）
- A. 78 个  
C. 75 个
- B. 77 个  
D. 68 个
65. 8 个一元真币和 1 个一元假币混在一起，假币与真币外观相同，但比真币略重。问用一台天平最少称几次就一定可以从这 9 个硬币中找出假币？（ ）
- A. 2 次  
C. 4 次
- B. 3 次  
D. 5 次
66. 某人向朋友借款两万元，年利率为 5%，约定两年还清，还款方式是每年年底偿还 X 元。则 X 约为（ ）。
- A. 10685  
C. 11234
- B. 10756  
D. 12302
67. 将一个硬币掷两次，恰好有一次正面朝上且有一次反面朝上的概率是多少？（ ）
- A. 1/2  
C. 1/4
- B. 1/3  
D. 2/3
68. 某两位数 A 是数 B 的 4 倍加 3，两位数 A 的个位与十位互换后的新数 C 正好是数 B 的 15 倍加 6，则 A 为（ ）。
- A. 12  
C. 15
- B. 21  
D. 51
69. 浓度为 70% 的酒精溶液 100 克与浓度为 20% 的酒精溶液 400 克混合后得到的酒精溶液的浓度是多少？（ ）
- A. 30%  
C. 40%
- B. 32%  
D. 45%
70. 把圆的直径缩短 20%，则其面积将缩小（ ）。
- A. 40%  
C. 20%
- B. 36%  
D. 18%
71. 小张在做一道除法题时，误将除数 45 看成 54，结果得到的商是 3，余数是 7。问正确的商和余数之和是（ ）。
- A. 11  
C. 26
- B. 18  
D. 37
72. 把自然数 1, 2, 3, 4, 5, …, 98, 99 分成三组，如果每组数的平均数恰好相等，那么此平均数为（ ）。
- A. 55  
C. 45
- B. 60  
D. 50
73. 某部队战士排成了一个 6 行、8 列的长方形。现在要求各行从左至右 1, 2, 1, 2, 1, 2, 1, 2 报数，再各列从前到后 1, 2, 3, 1, 2, 3 报数。问在两次报数中，所报数字不同的战士有（ ）。
- A. 18 个  
C. 32 个
- B. 24 个  
D. 36 个

74.A、B 两地相距 100 公里，甲以 10 千米/小时的速度从 A 地出发骑自行车前往 B 地。6 小时后，乙开摩托车从 A 地出发驶向 B 地。问为了使乙不比甲晚到 B 地，摩托车每小时至少要行驶多少千米？（ ）

A. 24 千米

B. 25 千米

C. 28 千米

D. 30 千米

75.某单位实行五天工作制，即星期一至星期五上班，星期六和星期日休息。现已知某月有 31 天，且该单位职工小王在该月休息了 9 天（该月没有其他节日）。则这个月的六号可能是下列四天中的哪一天？（ ）

A. 星期五

B. 星期四

C. 星期三

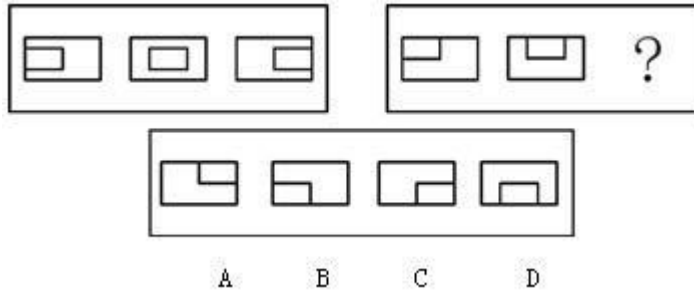
D. 星期一

## 第四部分 判断推理

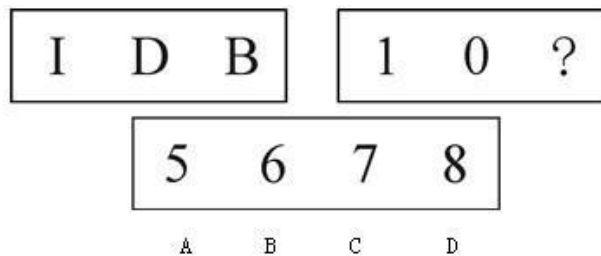
一、图形推理。请按每道题的答题要求作答。

请开始答题：

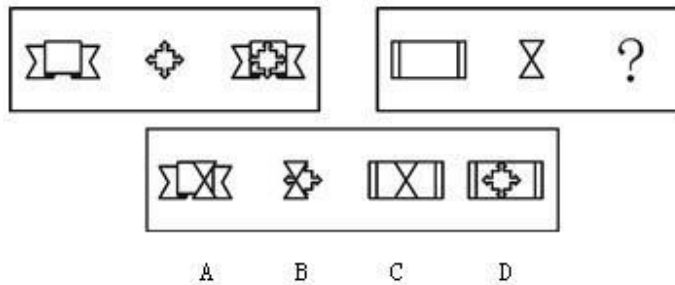
76. 从所给的四个选项中，选择最合适的一个，使之呈现一定的规律性（ ）。



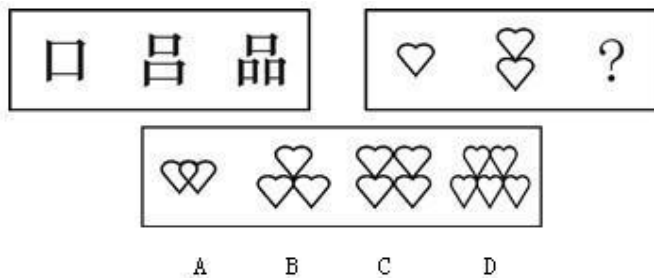
77. 从所给的四个选项中，选择最合适的一个，使之呈现一定的规律性（ ）。



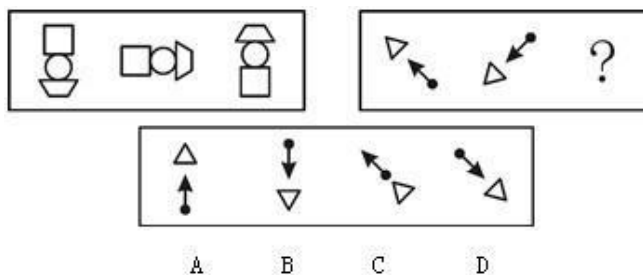
78. 从所给的四个选项中，选择最合适的一个，使之呈现一定的规律性（ ）。



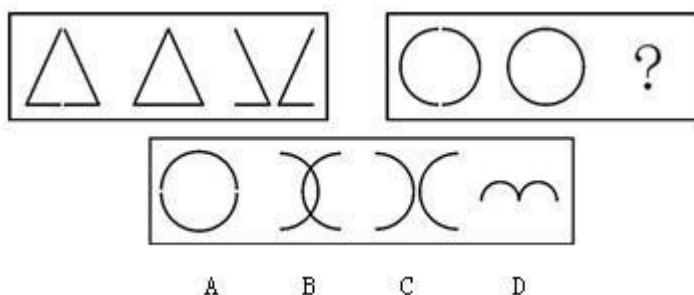
79. 从所给的四个选项中，选择最合适的一个，使之呈现一定的规律性（ ）。



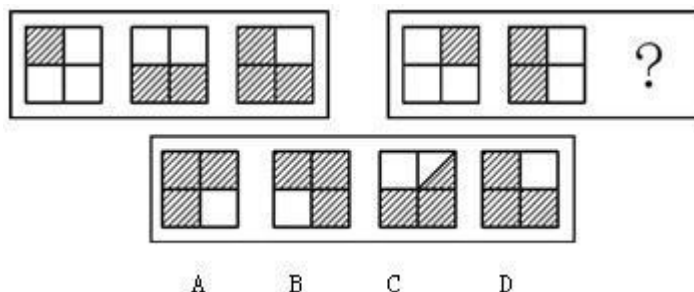
80. 从所给的四个选项中，选择最合适的一个，使之呈现一定的规律性（ ）。



81. 从所给的四个选项中, 选择最合适的一个, 使之呈现一定的规律性 ( )。



82. 从所给的四个选项中, 选择最合适的一个, 使之呈现一定的规律性 ( )。



二、类比推理。每道题先给出一组相关的词, 要求你在备选答案中找出一组与之在逻辑关系上最为贴近、相似或匹配的词。

请开始答题:

83. 雪花: 冬天

- A. 梧桐: 行人
- C. 微风: 夜晚

- B. 落叶: 秋天
- D. 欢快: 小溪

84. 钥匙: 门锁

- A. 黑板: 书包
- C. 农田: 公路

- B. 圆珠笔: 日记本
- D. 遥控器: 电视机

85. 飞机: 天空

- A. 火车: 公路
- C. 轿车: 渡口

- B. 轮船: 山坡
- D. 潜艇: 海洋

86. 空调: 温暖

- A. 电脑: 科技
- C. 茶壶: 口渴

- B. 台灯: 光明
- D. 闹钟: 迟到

87. 睡眠: 床铺

- A. 田埂: 番薯
- C. 诉讼: 法院

- B. 窗户: 反光
- D. 阳光: 果汁

三、事件排序。每道题给出五个事件, 每个事件是以简短语句表述的, 接着给出事件的四种假定发生顺序, 请你选择其中最符合逻辑的一种排列顺序。

请开始答题:

88. ①救治无效, 家属告状  
 ②身患重病, 借款购药  
 ③企业胜诉, 报社致歉  
 ④药品鉴定, 真伪不同  
 ⑤记者撰文, 药厂蒙冤

- A. ②④①⑤③  
B. ⑤②④①③  
C. ②①⑤④③  
D. ⑤④②①③
89. ①申请专利  
②研制出新产品  
③起诉索赔  
④发现伪劣产品  
⑤胜诉  
A. ②①④③⑤  
B. ①②④③⑤  
C. ②①③④⑤  
D. ①②③④⑤
90. ①参加考试  
②获得奖励  
③补课  
④生病住院  
⑤成绩优异  
A. ④①⑤②③  
B. ①②④③⑤  
C. ④③①⑤②  
D. ①④⑤③②
91. ①投资办厂  
②销售产品  
③购买原材料  
④回收投资  
⑤制造产品  
A. ①③⑤④②  
B. ③①④②⑤  
C. ①③⑤②④  
D. ①③②⑤④
92. ①恐龙的诞生  
②生命的出现  
③形成原始部落  
④出现象形文字  
⑤猿人的进化  
A. ②④①⑤③  
B. ②①⑤③④  
C. ①③⑤②④  
D. ①③④⑤②

四、逻辑判断。每道题给出一段陈述，这段陈述被假设是正确的，不容置疑的。要求你根据这段陈述，选择一个答案。注意：正确的答案应与所给的陈述相符合，不需要任何附加说明即可以从陈述中直接推出。

请开始答题：

93. 某镇有八个村，其中赵村所有的人都是在白天祭祀祖先，李庄所有的人都是在晚上才祭祀祖先。现在我们知道李明是晚上祭祀祖先的人。  
由此，可以推断（ ）。  
A. 李明一定是赵村的人  
B. 李明一定不是赵村的人  
C. 李明一定是李庄的人  
D. 李明一定不是李庄的人
94. 通过调查得知，并非所有个体商贩都有偷税、逃税行为。  
如果上述调查的结论是真实的，则以下一定正确的是（ ）。  
A. 所有的个体商贩都没有偷税、逃税行为  
B. 多数个体商贩都有偷税、逃税行为

- C. 并非有的个体商贩没有偷税、逃税行为      D. 有的个体商贩确实没有偷税、逃税行为
95. 大会主席宣布：“此方案没有异议，大家都赞同，通过。”  
如果以上不是事实，则下列哪项一定正确？（ ）
- A. 大家都不赞同方案      B. 有少数人不赞同方案  
C. 有些人赞同，有些人反对      D. 至少有些人是反对方案的
96. 所有的生物体都有生命；乳酸菌是一种生物，适合在无氧环境下生存；如果生物体有生命活动，那么生物体必然有呼吸运动。  
根据以上论述，可以推断（ ）。
- A. 呼吸运动在无氧环境下也可以进行      B. 乳酸菌是一种没有呼吸运动的生物  
C. 乳酸菌在无氧环境下会停止呼吸运动      D. 能在无氧环境下生存的生物体为数不多
97. 如果不能保证四小时睡眠，那么大脑将不能得到很好的休息；如果大脑没有得到很好的休息，那么第二天大部分人都会感觉到精神疲劳。  
因此，可以推断（ ）。
- A. 只要大脑得到充分休息，就能消除精神疲劳  
B. 大部分人的精神疲劳源于睡眠不足  
C. 如果你只睡眠三小时，那么第二天一定会精神疲劳  
D. 如果大脑得到了很好的休息，则必然保证了四小时的睡眠
98. 无线上网的计算机也会有天线辐射，因为键盘实质上也是天线。在键盘的每个按键处布满了纵横网络，本身就形成了天线，而且每个键随时都在被高频电磁扫描，能发射出大量的电磁波。通常，人们只注意将电磁波封堵在机箱内但是却很大程度上忽略了键盘的电磁波外泄。  
根据以上论述，无法推出的是（ ）。
- A. 有线上网的计算机存在着天线辐射问题  
B. 机箱具有防止机箱内电磁波外泄的功能  
C. 人们对电脑电磁辐射的防护存在盲区  
D. 长时间在电磁波环境下工作容易导致人体损伤
99. 现在越来越多的年轻人没有经过登记就共同生活在一起了，结果由于种种原因在发生财产等民事纠纷时，不能得到法律上的承认和保护。因此，结婚登记有避免两人感情关系破裂后导致的很多无谓纠纷的作用。  
以下哪一项最能加强上述论点？（ ）
- A. 现代婚姻越来越不稳定，离婚率越来越高      B. 并非每一对非婚同居者都会发生民事纠纷  
C. 现代年轻人更看重男女之间的感情      D. 有些非婚同居者后来也去领了结婚证
100. 有关六十岁以上的老年人对超级女生这个娱乐节目不感兴趣的说法是不正确的。最近某学院的一项问卷调查报告表明，在 3500 份寄回问卷调查表的老年人中，83% 的老年人说自己非常喜欢看超级女生这个节目。  
以下哪项如果为真，最能削弱上述结论？（ ）
- A. 该学院的问卷调查缺乏权威性，其准确度值得商榷  
B. 填写并寄回调查问卷的老年人很可能是对超级女生感兴趣的老年人  
C. 有少数寄回调查问卷的老年人实际上还不到六十岁  
D. 大部分寄回调查问卷的老年人同时喜欢看其他娱乐节目

## 第五部分 资料分析

针对下列图、表或文字回答问题。你应根据资料提供的信息进行分析、比较、计算、处理。你可以在题本上运算。

请开始答题：

一、根据以下资料，回答问题。

2005年某省海洋产业总产值达2144.6亿元；海洋产业增加值达302.4亿元，约占全省海洋产业总产值的14.1%。海洋三大产业结构由2000年的31.0：16.7：52.3调整为2005年的21.0：13.2：65.8。

以海洋经济为依托的沿海县（市）国民经济稳步增长，呈现良好发展势头。海洋渔业、海洋交通运输业快速发展，2005年中总产值分别为334.0亿元、747.3亿元，“十五”期间年均分别增长7.1%、24.7%，大大超过“十五”预期目标。滨海旅游、海水产品加工业、船舶修造等产业日益壮大，2005年总产值分别达470.3亿元、180.0亿元、40.9亿元，“十五”期间年均分别增长14.9%、9.0%、13.2%。

2005年海洋产业中“五大产业”（海洋渔业、海洋交通运输、滨海旅游、海水产品加工、船舶修造）的总产值占全省海洋产业总产值的82.6%，海洋支柱产业已经形成。

101. 2004年该省海洋产业总产值约为（ ）。

- A. 1785.2亿元
- B. 1842.2亿元
- C. 1905.7亿元
- D. 2001.4亿元

102. 2005年海洋第三产业所占比重相对于2000年（ ）。

- A. 提高了10个百分点
- B. 提高了25.8个百分点
- C. 提高了4.5个百分点
- D. 提高了13.5个百分点

103. 2005年海洋渔业总产值占全省海洋产业总产值的比重为（ ）。

- A. 9.8%
- B. 15.6%
- C. 8.7%
- D. 17.5%

104. 下列四个选项中，值最大的是（ ）。

- A. “十五”期间滨海旅游产业总产值的年均增长速度
- B. “十五”期间船舶修造产业总产值的年均增长速度
- C. 2005年海洋渔业总产值占全省海洋产业总产值的比重
- D. 2005年海洋第二产业所占比率

105. 下列说法错误的是（ ）。

- ①2005年该省海洋产业中“五大产业”的总产值已经超过2000亿元
  - ②2005年海洋渔业、海洋交通运输业的总产值已经超过全省海洋产业总产值的一半
  - ③2005年海洋交通运输业的总产值比上年增长了24.7%
- A. 仅①③
  - B. 仅②③
  - C. 仅①②
  - D. ①②和③

二、根据以下资料，回答问题。

加入世贸组织，为我国经济发展赢得了一个相对稳定和可以预见的国际环境。中国经济保持了强劲增长势头。

国家统计局的数字显示，我国人均GDP从2001年的1000美元提高到了2005年的1700美元。5年来，我国实际利用外资超过3000亿美元，这带动了国内产业结构优化升级，创造了大量就业机会。

经济的快速发展和大量就业，使人民生活水平得到明显提高。2005年中国城镇居民人均可支配收入达10493元，扣除价格因素，比2000年实际增长58.3%，年均增长9.6%；农村居民家庭人均纯收入达3255元，扣除价格因素，比2000年实际增长29.2%，年均增长5.3%。

进口关税的不断降低和生产效率的提高，使得彩电、冰箱、洗衣机、数码相机等消费品的价格一路下降，给老百姓带来了实实在在的好处。据初步测算，最近5年，上千万家庭提前圆了轿车梦。人民生活水平的提高使汽车、旅游、教育、通讯、住房等成为新的消费热点，老百姓的购买力迅速增长。

106. 我国 2005 年人均 GDP 与 2001 年相比增长了（ ）。  
A. 50%    B. 60%  
C. 70%    D. 80%
107. 扣除价格因素，我国 2000 年城镇居民人均可支配收入最接近（ ）。  
A. 3500 元                                        B. 4500 元  
C. 5500 元                                        D. 6500 元
108. 2005 年中国城镇居民人均可支配收入大约是农村居民家庭人均纯收入的（ ）。  
A. 1.2 倍                                         B. 2.2 倍  
C. 3.2 倍                                         D. 4.2 倍
109. 2000 年~2005 年间，中国城镇居民人均可支配收入的年均增长速度比农村居民家庭人均纯收入的年均增长速度快几个百分点？（ ）。  
A. 3.3    B. 4.3  
C. 5.3    D. 6.3
110. 通过上述材料，我们无法推断（ ）。  
A. 加入世贸组织为老百姓带来了实惠  
B. 2001 年到 2005 年，我国家庭轿车购买数量大幅度上升  
C. 近 5 年来，利用外资已经成为我国经济稳定、高速增长最关键的支撑点  
D. 与 2001 年相比，2005 年我国人均 GDP 增长了一半多
- 三、根据以下资料，回答问题。

按三次产业分的从业人员总数    （单位：万人）

|      |     |      |     |
|------|-----|------|-----|
| 2003 | 826 | 1201 | 891 |
| 2004 | 780 | 1305 | 907 |
| 2005 | 760 | 1398 | 944 |

111. 2003 年~2005 年，就业人数逐年上升的产业有（ ）。  
A. 第一、二产业                                B. 第二、三产业  
C. 第一、三产业                                D. 仅第二产业
112. 2005 年的就业人数与 2004 年相比，增长最多的产业是（ ）。  
A. 第一产业                                      B. 第二产业  
C. 第三产业                                      D. 无法判断
113. 2005 年与 2004 年相比，就业人数变化最小的产业是（ ）。  
A. 第一产业                                      B. 第二产业  
C. 第三产业                                      D. 无法判断
114. 2005 年总就业人数为（ ）。



- A. 2636 万人
- B. 2742 万人
- C. 2918 万人
- D. 3102 万人

115. 2005 年第三产业的就业人数比 2003 年约增加了 ( )。

- A. 40 万人
- B. 50 万人
- C. 90 万人
- D. 180 万人

四、根据以下资料，回答问题。

| 浙江省进出口统计表 (2000~2005 年) |         |         |         |         |         |         |
|-------------------------|---------|---------|---------|---------|---------|---------|
| 单位: 万美元                 |         |         |         |         |         |         |
| 项目                      | 2000    | 2001    | 2002    | 2003    | 2004    | 2005    |
| 出口总值                    | 1944279 | 2297747 | 2941102 | 4159499 | 5814638 | 7680353 |
| 国有企业                    | 1069245 | 1036036 | 1128977 | 1329950 | 1466064 | 1629361 |
| 三资企业                    | 534843  | 709961  | 919969  | 1304773 | 1964667 | 2726282 |
| 集体企业                    | 271953  | 392526  | 518882  | 726222  | 887728  | 993168  |
| 私营企业                    | 64657   | 154954  | 367536  | 793444  | 1493303 | 2328331 |
| 其他                      | 3581    | 4270    | 5738    | 5110    | 2876    | 3210    |
| 进口总值                    | 838986  | 982222  | 1254548 | 1981584 | 2706674 | 3058770 |
| 国有企业                    | 350382  | 357300  | 452039  | 629195  | 695255  | 671497  |
| 三资企业                    | 404142  | 477215  | 538283  | 887827  | 1297388 | 1512129 |
| 集体企业                    | 69087   | 120376  | 164345  | 253098  | 350723  | 369722  |
| 私营企业                    | 10527   | 22545   | 90692   | 210802  | 357233  | 505364  |
| 其他                      | 4848    | 4786    | 9189    | 662     | 6075    | 58      |

116. 根据上表, 出口值逐年增长的有 ( )。

- A. 国有企业、三资企业和集体企业
- B. 三资企业、集体企业和私营企业
- C. 集体企业、私营企业和其他企业
- D. 国有企业、集体企业和私营企业

117. 2005 年, 出口值排名第三的企业类型为 ( )。

- A. 国有企业
- B. 三资企业
- C. 集体企业
- D. 私营企业

118. 2005 年, 浙江省的贸易顺差为 ( )。

- A. 4621583 万美元
- B. 10739123 万美元
- C. 8351860 万美元
- D. 7008856 万美元

119. 2005 年的出口额比 2004 年增长了 835028 万美元的是 ( )。

- A. 国有企业
- B. 三资企业
- C. 集体企业
- D. 私营企业

120. 与上年相比, 浙江省进口总值增加量最大的年度是 ( )。

- A. 2005 年
- B. 2004 年
- C. 2003 年
- D. 2002 年