

第一部分 常识判断

根据题目要求，在四个选项中选出一个最恰当的答案。

请开始答题：

- 2011年12月12日召开的中央经济工作会议提出，2012年我国经济工作总基调（ ）。
A. 稳中求稳
B. 稳中求进
C. 又快又好
D. 又好又快
- 根据我国“十二五”发展规划，到2015年，单位国内生产总值二氧化碳排放要降低17%。实现这一目标最重要的是（ ）。
A. 发展低碳经济
B. 转变经济发展方式
C. 改善生态环境
D. 保持经济快速发展
- 安徽省第九次党代会提出，要在“十二五”期间努力把安徽打造成“三个强省”，下列不属于“三个强省”的是（ ）。
A. 工业强省
B. 经济强省
C. 文化强省
D. 生态强省
- 社会主义和谐社会的核心价值是（ ）。
A. 以人为本
B. 社会稳定
C. 诚实守信
D. 公平正义
- 从长期来看，经济增长的最主要推动力是（ ）。
A. 资产积累
B. 储蓄率提高
C. 技术进步
D. 人口
- 当前，我国扩大内需主要应着力扩大（ ）。
A. 消费需求
B. 投资需求
C. 政府采购需求
D. 出口需求
- 用来衡量收入分配的不平等程度的指标是（ ）。
A. 消费者价格指数
B. 恩格尔系数
C. 基尼系数
D. GDP折算系数
- 某公司占据了家具制造业70%的市场份额，其下列行为不属于滥用市场支配地位的是（ ）。
A. 以不公平的高价销售沙发
B. 没有正当理由，以低于成本的价格销售衣橱
C. 没有正当理由，在销售写字台时搭售电脑桌
D. 与第二大家具制造商协定提高木家具价格
- 下列哪项不属于公务员所享受的权利（ ）。
A. 公务员非经所在地人民代表大会许可不受公安机关逮捕
B. 非因法定事由、法定程序不被免职、降职，辞退或处分
C. 小李因个人原因向所在单位申请辞职
D. 小王不满上级给予的处分，提出申诉和控告
- 关于未成年保护法，下列说法正确的是（ ）。
A. 未成年人是指未满二十周岁的公民
B. 十四周岁以上不满十六周岁的未成年人犯罪的案件不可公开审理
C. 该法是义务教育法的制定依据
D. 该法由全国人大政协会议通过并颁布

11. 具体行政行为是指行政主体在行政管理活动中行使行政职权，针对特定的相对人，就特定的具体事项，做出的能对相对人实体权利、义务产生直接影响的行为。以下不属于具体行政行为的是（ ）。
- A. 某县政府发布命令拆迁该县鼓楼街东西两侧 30 米内的房屋
B. 某市住房和城乡建设局与某建筑公司签订《住宅建设合同书》
C. 某税务局向某公司送达《减免税批准通知书》
D. 某工商局向公民甲颁发营业执照
12. 张某有甲、乙、丙三子，张某去世后，没有留下遗嘱。其在遗产处理前，甲明确表示放弃继承，乙明确表示要继承，丙没有作出放弃或接受继承表示，那么丙的行为视为（ ）。
- A. 放弃继承
B. 接受继承
C. 丧失继承权
D. 转继承
13. 关于知识产权，下列说法正确的是（ ）。
- A. 知识产权为权利人所专有，不能随意转让
B. 知识产权只是在特定国家领域内发生法律效力
C. 知识产权如无设定期限，则永久有效
D. 企业的注册商标不属于其知识产权
14. 关于 19 世纪下半期和 20 世纪初的“唯意志论”，下列说法不正确的是（ ）。
- A. 代表人物是叔本华和尼采
B. 主要观点是“意志是宇宙的本体”
C. 先于马克思主义哲学产生
D. 受印度哲学和佛学影响较大
15. 关于《资治通鉴》，下列叙述不正确的是（ ）。
- A. 《资治通鉴》是中国第一部官修编年体通史，是“正史”的代表作，其成书规模仅次于《史记》
B. 《资治通鉴》书名的由来，是北宋神宗认为该书“鉴于往事，有资于治道”，而钦赐此名的
C. 《资治通鉴》全书 294 卷，共记载了 16 个朝代 1362 年的历史，历经 19 年编纂完成
D. 《资治通鉴》的内容以政治、军事和民族关系为主，兼及经济、文化和历史人物评价，编者总结出许多经验教训，供统治者借鉴，是一部名副其实的“皇家”参考资料
16. 清明节是我国民间重要的传统节日，期间有很多民俗活动。下列不是清明节民俗活动的是（ ）。
- A. 祭祖
B. 植树
C. 登高
D. 踏青
17. 以画虾著称的画家是（ ）。
- A. 齐白石
B. 徐悲鸿
C. 吴冠中
D. 张大千
18. 下列关于甲骨文的说法不正确的是（ ）。
- A. 甲骨文又称卜辞
B. 甲骨文反映了商王的活动
C. 甲骨文是中国汉字的萌芽
D. 甲骨文主要发现于河南安阳
19. “修身、齐家、治国、平天下”出自于（ ）。
- A. 《论语》
B. 《孟子》
C. 《大学》
D. 《中庸》
20. 下列关于老子的说法不正确的是（ ）。
- A. 《道德经》是其主要作品
B. 主张“无为而治”
C. 被道教尊称为道祖
D. 接受并发展了庄子的哲学思想

21. 关于宋词，下列说法不正确的是（ ）。
- A. “人比黄花瘦”是女词人李清照的名句 B. “有井水处即能歌柳词”说的是柳永
C. “檣櫓灰飞烟灭”说的是官渡之战 D. 辛弃疾是“豪放派”的代表词人之一
22. 下列关于中国近代史上一些重大事件，表述正确的是（ ）。
- A. 新文化运动兴起的标志是“新青年”杂志的创办
B. 一二·九运动是中国共产党领导反对内战的学生爱国运动
C. 新三民主义是第二次国共合作的政治思想基础
D. 秋收起义是中国共产党独立领导武装斗争的开始
23. 关于美国《独立宣言》，下列说法正确的是（ ）。
- A. 《独立宣言》是美洲十三个英属殖民地宣告脱离大不列颠王国，并宣告独立的纲领性文件
B. 《独立宣言》批准之日即7月4日成为美国的独立纪念日
C. 《独立宣言》是以著名的政治家本杰明·富兰克林为主起草的
D. 《独立宣言》的中心思想是宣称天赋人权学说，它深刻地阐述了资产阶级民主主义原则
24. 下列国际单位制对应不正确的一组是（ ）。
- A. 功率--瓦特 B. 电流--福特
C. 电阻--欧姆 D. 频率--赫兹
25. 下列哪项不是生物多样性的组成部分之一（ ）。
- A. 遗传多样性 B. 物种多样性
C. 环境多样性 D. 生态系统多样性
26. 赤潮现象主要原因是由什么引起的（ ）。
- A. 珊瑚虫 B. 低气压
C. 浮游生物 D. 火山喷发
27. 将我国（1）第一高峰（2）第一大湖（3）第一大岛（4）第一大经济特区，按从南到北的顺序排列，依次是（ ）。
- A. （3）（2）（4）（1） B. （4）（3）（2）（1）
C. （4）（3）（1）（2） D. （3）（4）（1）（2）
28. 下列关于河流的描述，不正确的是（ ）。
- A. 尼罗河是干流流经国家数量最多的河流 B. 伏尔加河是世界上最长的内流河
C. 亚马逊河是世界上水量最丰沛的河流 D. 湄公河的上流在中国境内被称为澜沧江
29. 下列关于气象和地质灾害的说法，不正确的是（ ）。
- A. 火山喷发能形成地热、矿产等资源
B. 泥石流的活动周期与暴雨、洪水的活动周期大体一致
C. 沙尘天气形成和变化的主要因素是低层大气环流的变化
D. 我国一般只在春夏季的长江淮河流域发生洪涝灾害
30. 地球是一个赤道两极部分比凸出的扁球体，而不是几何学中所说的正球体，造成这种现象的主要原因是（ ）。
- A. 地球自身引力的结果 B. 地球自转造成的
C. 地球自身形成过程中造成的 D. 太阳与其他行星引力的结果

第二部分 言语理解与表达

本部分包括表达与理解两方面的内容。请根据题目要求，在四个选项中选出一个最恰当的答案。

请开始答题：

31. 母语的基本性质决定了母语高等教育的“培根固本”特征，母语教育对于维系_____，传承优秀传统文化，构筑心灵世界具有不可_____的作用。
填入划横线处最恰当的一项是（ ）。
- A. 民族风俗 低估 B. 民族情感 轻视
C. 文化认同 替代 D. 文化精神 缺少
32. 网络尤其是微博等传播渠道加快了信息传播的速度，很多信息省去了求证环节就被_____发布了出去，为流言的传播提供了便利。但是这些方便快捷的传播渠道，也可以为传播权威信息所用，公开透明的传播渠道本身也有_____功能，也可以大大缩减流言的生命期。
填入划横线处最恰当的一项是（ ）。
- A. 直接 自净 B. 随意 反省
C. 广泛 修正 D. 轻松 过滤
33. 好的小说应该是可读性、艺术性和思想性的完美结合，比如大仲马的小说，之所以流行百年而不衰，就是因为有着_____的故事情节和高超的写作技巧以及深刻的思想内容。
填入划横线部分最恰当的一项是（ ）。
- A. 完美无瑕 B. 津津有味
C. 引人入胜 D. 意犹未尽
34. 太空经济是指太空探索和开发活动创作的产品、服务等，_____通信、金融、医疗、国防等领域，以及新兴的太空旅游等服务。太空经济与科技，社会进步和产业发展具有很强的_____性，太空活动的各项技术往往都具备向其他行业转化的潜能。
填入划横线部分最恰当的一项是（ ）。
- A. 包括 对比 B. 包括 一致
C. 涵盖 关联 D. 涉及 互补
35. 王国维读书治学的一个重要方法，就是对一个问题，总是先_____地收集资料，然后_____地予以分析，最后进行综合性的总结，从而达到对这一问题深刻的认识。
填入划横线处最恰当的一项是（ ）。
- A. 谨慎 抽丝剥茧 B. 全面 独出心裁
C. 广泛 条分缕析 D. 仔细 分门别类
36. 对文艺精品的判断，时间验证较之空间效应更为重要。遗憾的是，当下某些人的创作_____是：急功近利，注重眼前的实惠，难耐寂寞，对空间效应的追求远远大于对时间验证的关注，因而作品中从生活到艺术都_____“将来时态”和“未来意识”。
填入划横线处最恰当的一项是（ ）。
- A. 现象 需要 B. 事实 欠缺
C. 趋势 寻求 D. 倾向 缺乏
37. 金砖国家的经济活力和发展前景令国际社会刮目相看，但现阶段这些国家自身经济发展仍面临一些困难，如经济结构不尽合理，基础设施相对落后，金融市场功能尚不完善，地区发展差异明显等。解决好这些问题，就要充分发挥金融的核心作用，通过加强金融合作、探索合作机制、丰富合作内容、完善合作方式，有效提高资源配置效率。

这段文字意在说明金砖国家（ ）。

- A. 迫切需要深化金融合作
- B. 自身经济发展面临困境
- C. 具有带动全球经济发展的潜力
- D. 目前以金融业为工作重点

38. 在法国人到达北美之前，这片土地早已住着土著居民北美印第安人。据说他们的祖先早在3万至1万年前便陆续通过亚洲东北角当时与北美仍接壤的地带（即今白令海峡），来到阿拉斯加和育空地区的非冻土地带居住下来，有的继续向北美东南部扩散，直到大西洋沿岸和南美尖端。一般认为，（这里）最早的土著人属于亚洲的蒙古种族，当时亚洲还处在石器时期，这从当代加拿大发掘出来的石制器具和武器可以得到佐证。

这段文字中的“这里”具体指的是（ ）。

- A. 大西洋沿岸
- B. 阿拉斯加
- C. 加拿大
- D. 美洲

39. 阅读同看电影、看录像、听音乐会很大不同。后者是一块巨大的生日蛋糕，可以美味地共享；而前者只是孤灯下的一盏清茶，只可独啜，仿佛倾听一个遥远的灵魂对你一个人窃窃私语，他在不同的时间对不同的人说过同样的话，但此时你感觉他只在为你而歌唱。

对这段文字概括最恰当的是（ ）。

- A. 在阅读中最能体验孤独的滋味
- B. 阅读的收获难以与人分享
- C. 阅读的乐趣来源于内心的体会
- D. 阅读的魅力需独自品味

40. ①进行良好的时间管理，同样需要这些品质

②把握好间隔和规律正是时间管理的内容

③当鸡蛋越来越多，情况越来越糟的时候，你要有能力控制局面

④进行时间管理，就好像抛鸡蛋

⑤要做好抛鸡蛋的动作，需要耐心、毅力、练习和计划

⑥你要不停地把手中的一只鸡蛋换成另一只，还要保持所有的鸡蛋都不落到地上

将以上6个句子重新排序，语序正确的是（ ）。

- A. ②④③⑥⑤①
- B. ⑤①⑥④③②
- C. ②④⑤⑥①③
- D. ④⑥⑤①③②

41. 毋庸置疑，晚清以来中国遭逢千百年未遇之大变局，被强行纳入世界资本主义体系当中，从世界中心沦为所谓边缘的“远东”，在世界历史和文化上一再缺席，遭遇了深刻的文化身份危机，不断被误读、曲解和妖魔化。正是在这一历史语境中，发现东方与文化输出就显得越发重要和紧迫。

这段文字中的“历史语境”是指（ ）。

- A. 中国被西方列强边缘化
- B. 晚清中国所遭遇的历史大变局
- C. 中国融入资本主义体系的时机
- D. 对中国文化的误读、曲解和妖魔化

42. 一个民族、一个国家，只有保护和重视自己的传统文化才能生存而不被别的国家和民族所同化。关注中国传统文化就是关注中国的未来。越尊重传统文化，越能更好的开放。传统文化的根扎得越深，吸收外国文化的能力就越强。

与上文表达的意义不符合的选项是（ ）。

- A. 重视传统文化是一个国家和民族生存发展的基础
- B. 重视传统文化才能最大限度地保持文化的独立性
- C. 重视传统文化才能强化文化的同化能力
- D. 重视传统文化就能够更好吸收其他国家的文化

43. 作为一个古老的复兴的东方大国，对西方来说，中国很神秘，就像当年马可·波罗到中国以后的描写：遍地是黄金，到处是白银。西方人看了游记，只是觉得中国很富有，但到底怎么富有，就只有靠想象了。现在，西方看中国，真实的成分有，想象的成分也不少。
这段文字主要说明了（ ）。
- A. 西方人对中国的认识与实际仍存在偏差
B. 西方对中国的了解还停留在马可·波罗时期
C. 马可·波罗的描述构成了西方人认识中国的基础
D. 中国的快速发展使西方出现认识上的严重滞后
44. 从经济学角度看，基本问题有两个：一是激励机制问题，二是协调问题。归根到底，制度是用来解决这两个问题的。无论你用什么方法，只要能解决就是好的制度。所以世界上并不存在一种标准的制度，当人们脱离这些基本问题，简单地套用某些概念的时候，就套出毛病来了。
这段文字意在说明（ ）。
- A. 解决激励机制与协调问题的重要性
B. 如何运用经济学原理评价一种制度
C. 如何运用经济学原理解决实际问题
D. 制定制度的根本目的与评价标准
45. 我在接触历史之前，想象大部分领域都已经被人耕耘过了，后来发现并非如此。即使是被大家炒得很热的人物，你仔细去研究已有的研究成果，和一些相关的史料做对比，就会发现，几乎每一个人、每一段历史，都有被历史学家疏忽的地方，有大量的空白存在。
对这段文字的观点概括最准确的是（ ）。
- A. 人们对历史的认识存在误区
B. 历史研究依然大有可为
C. 目前的历史研究成果较为有限
D. 亟需加强历史研究方法的探讨
46. 根据世界银行的统计报告，发达国家的最终消费支出占GDP的比例一般在80%左右，发展中国家一般在70%以上。近30年来，由于我国经济增长较快，投资率较高，消费率呈现出稳步下降的趋势，最终消费支出占GDP的比例大约在55%—65%之间波动。2001年至今，消费率则一直保持在60%以下。国民消费在国民经济中所占比重大大低于国际平均水平。
从这段话中可以推断出，我国的消费政策应调整为（ ）。
- A. 维持现有的国民消费水平，使国民经济发展保持一定的后劲
B. 进一步提高国民消费水平，保持国民经济平稳较快发展
C. 继续发扬艰苦奋斗的优良传统，努力促使消费水平稳步下降
D. 积极提倡超前消费，力争超越发达国家80%的消费指标
47. 某市出台限购令后，不少网友表示支持该市限购令出台，并希望该市房价在限购令的影响下能有所下降。从搜房网调查结果来看，限购令出台一个月后，近7成网友对该市限购令表示不满意，他们认为在这一个月期间的调控效果一般，没有预想中的那么给力。
这段话的主要内容是（ ）。
- A. 搜房网对某市限购令出台后效果的调查
B. 网友对某市限购令的看法
C. 某市限购令出台后的效果
D. 某市出台限购令
48. 企业家舆论形象会对所代表的企业产生直接的影响，而在企业舆情事件中，企业家的言论与举措会受到媒体和网民最为集中的关注。企业舆情应对中，积极的态度是缓解负面舆论的最大助力。企业家在舆情应对上总体表现良好，但是也有企业家应对不当，导致负面舆情扩大，有损个人和企业声誉。
这句话的重点阐述对象是（ ）。
- A. 企业家舆论形象
B. 企业舆情事件

C. 企业舆情应对

D. 企业家舆情应对

49. 现在人们闻之色变的沙尘暴，即由于强烈的风将大量沙尘卷起，造成空气浑浊，能见度小于1000米的风沙天气现象，实际古已有之。它本是雕塑大地外貌的自然力之一，是大自然的一项工程，并且在全球生态平衡中占有一席之地。

关于沙尘暴的解释，最准确的一项是（ ）。

- A. 沙尘暴是雕塑大地外貌的自然力之一，是大自然保持全球生态平衡的一项工程
- B. 沙尘暴是由于风将大量的沙尘卷起，使空气浑浊，能见度小于千米的风沙天气现象
- C. 沙尘暴这种天气是一种自然力的表现，与人类活动无关
- D. 沙尘暴就是在人类因素的干扰下产生的

50. 唾液内含有的免疫球蛋白 A 原本发挥的是抗菌作用，英国拉夫巴勒大学研究人员发现唾液中这一蛋白的数量与人体免疫力呈反相关。他们花费了三年多时间，对 38 位参加过美洲杯帆船赛的赛手进行了测试，观察到大约有四分之三的赛手在患上感冒前的两周时，尽管当时感觉良好，但唾液中免疫球蛋白 A 水平已经急剧下降。

英国的研究人员对唾液进行的此项研究，其意义在于（ ）。

- A. 揭示了通过检测唾液内含有的免疫球蛋白 A 数量，人们可以判断自身的免疫力状况，在免疫力低下时及时采取措施，以防疾病袭扰
- B. 明确了唾液中免疫球蛋白 A 的数量越高，则人体免疫力越强，这是因为免疫球蛋白 A 在发挥作用
- C. 发现了感冒的潜伏期为两周，在此期间，唾液中免疫球蛋白 A 水平已经急剧下降，而人们不会有免疫力下降的感觉
- D. 颠覆了人们对唾液内含有的免疫球蛋白 A 的抗菌作用的认识

51. 从蜻蜓低飞预测天气，到蟾蜍搬家预测地震，中国古代民间积累了不少的经验。这些经验经过一代代人口口相传，时至今日，在民间——也包括今天的网络上来看，依旧有不低的信任度。而现代地震研究，强调的则是数据和概率。在古代对于某一地区的准确预报，放在今天信息汇集和横向对比、统计来看，则不再有普遍适用的意义。

对于中国古代民间积累的地震预报的经验，作者认为它（ ）。

- A. 是在老百姓中传承多年的民间智慧的结晶，具有相当的可信度
- B. 与重视数据和概率的现代地震研究背道而驰，不可信
- C. 具有偶然性，不能作为地震预报的依据
- D. 可以在现代地震研究中得到有效利用

52. 一棵树上的苹果熟了。因为太高，踮起脚都够不着，只好搬来木梯，就在我伸手欲摘的一瞬，苹果突然落了下来，摔在地上，成了一团果泥。这便是生活中所谓的无奈——眼看到手，却又失去。但不算白费力，至少，我知道了这只苹果不属于我。如果这时从木梯上下来，再去摘其他树上的也不算晚。

这个故事给我们最重要的启示是（ ）。

- A. 在现实生活中要善于发现机会、抓住机会
- B. 在生活中不要气馁、不要迷失自己，要不断努力、不断追求
- C. 在遇到任何事情的时候要保持一个平常心，要学会泰然处之
- D. 生命中任何一次探索，都是一次成功的经验的积累

53. 如果说在小说观念上，从真实到虚构是一条必然之路，中国的小说家们也在这条必然之路上，自觉不自觉地朝背离历史叙事的方向走去。同时，从话本的兴起兴盛，再到拟话本、短篇小

说、长篇小说，中国的小说家汲取各种语言文字形式的养分，也在从话本的语言文字传统逐步演进的道路朝着背离文言传统的方向走去。

上面这段话中谈及到中国小说家的两个“背离”，下列对“背离”的涵义解说不正确的一项是（ ）。

- A. 摆脱了像《三国演义》、《水浒传》那样的以历史故事为题材的叙事模式
- B. 背离了虽然典雅、精美，但缺乏浅易、通俗特点的文言叙述方式
- C. 汲取各种语言文字形式的养分，使小说创作的语言更加丰富多彩
- D. 抛弃了中国小说的传统创作方法，完全走向背离传统的另一条创作之路

54. “CoreCompetence”通行的中文翻译是“核心竞争力”，但它的准确译法应该是“核心能力”。所谓“核心能力”，不是一个公司独有的某种技术或工艺，也不是公司内部某个人或某个部门的能力，而是指公司整合不同的生产技能和技术后形成的一种综合能力，是公司集体学习、运作的结果。核心能力是内在的、无形的、本源性的，它难以被竞争对手所复制。一个公司凭借核心能力才能持续为客户提供独特的价值和利益，才能不断催生新产品，开辟新市场。

下列对“核心能力”的理解，最符合文意的一项是（ ）。

- A. 核心能力是一种综合能力，它的形成不可能一蹴而就
- B. 核心能力不是指个人能力，而是指公司独有的技术
- C. 核心能力被竞争对手复制的可能性很大
- D. 核心能力与顾客所看重的价值和利益无关

55. 不必回避世界遗产的经济价值，但世界遗产首先是世界上独一无二的珍贵资源，不能视同普通经济资源来开发利用；同时世界遗产是必须妥善保护的资源，脆弱、易损，具有不可再生性，一旦破坏就会造成不可逆转的损失，在保护与开发利用之间，无疑应以保护为主。再者，世界遗产是全体人民共有的资源，绝不仅仅属于遗产所在地，更不能作为利益集团的独有经济资源而被随意当成摇钱树。世界遗产还属于代际资源，在利用上要体现代际公平，我们负有将其完整的传给子孙后代的重大责任，要可持续利用。

对这段文字的主旨概括最准确的是（ ）。

- A. 世界遗产重在保护而非开发
- B. 世界遗产的保护意识有待加强
- C. 世界遗产是全人类共有的财富
- D. 世界遗产是不可再生的珍贵资源

第三部分 数量关系

在这部分试题中，每道题呈现一段表述数字关系的文字，要求你迅速、准确地计算出答案。

请开始答题：

56. 计算 $110.1^2 + 1210.3^2 + 1220.4^2 + 1260.8^2$ 的值为 ()。
- A. 4555940.8 B. 4555940.9
C. 4555941.18 D. 4555940.29
57. $13\frac{4}{19} + 86\frac{15}{19} \times 0.25 + 86\frac{15}{19} \times 0.625 + 86\frac{15}{19} \times 0.125 = ()。$
- A. 98 B. 99
C. 100 D. 101
58. 以正方形的 4 个顶点和中心点中的任意三点为顶点可以构成几种面积不等的三角形? ()
- A. 1 B. 2
C. 3 D. 4
59. 两个圆柱形水井，甲井的水深是乙井的一半，水面直径是乙井的 2 倍，蓄水量为 40 立方米，问乙井的蓄水量为多少立方米? ()
- A. 20 B. 40
C. 60 D. 80
60. 将 25 台笔记本电脑奖励给不同的单位，每个单位奖励的电脑数量均不等，最多可以奖励几个单位? ()
- A. 5 B. 6
C. 7 D. 8
61. 某数加上 5 再乘以 5 再减去 5 再除以 5 结果还是 5，这个数是多少? ()
- A. 0 B. 1
C. -1 D. 5
62. 在某状态下，将 28g 某种溶质放入 99g 水中恰好配成饱和溶液，从中取出 1/4 溶液加入 4g 溶质和 11g 水，请问此时浓度变为多少? ()
- A. 21.61% B. 22.05%
C. 23.53% D. 24.15%
63. 现在是下午三点半，那么 20 万秒之后你能听到的第一声整点报时是几点钟的? ()
- A. 凌晨 0 点 B. 凌晨 4 点
C. 下午 2 点 D. 下午 6 点
64. 一支 600 米长的队伍行军，队尾的通讯员要与最前面的连长联系，他用 3 分钟跑步追上了连长，又在队伍休息的时间以同样的速度跑回了队尾，用了 2 分 24 秒，如队伍和通讯员均匀速前进，则通讯员在行军时从最前面跑步回到队尾需要多长时间? ()
- A. 48 秒 B. 1 分钟
C. 1 分 48 秒 D. 2 分钟
65. 一件商品相继两次分别按折扣率为 10% 和 20% 进行折扣，已知折扣后的售价为 540 元，那么折扣前的售价为 ()。
- A. 600 元 B. 680 元
C. 720 元 D. 750 元

66. 社区活动中心有 40 名会员，全部由老人和儿童组成。第一次社区活动组织全体老年会员参加，第二次活动组织全体女性成员参加。结果共有 12 人两次活动全部参加，6 人两次活动全未参加。已知老人与儿童的男女比例相同，且老人数量多于儿童，问社区活动中心的会员中，老人，儿童各多少名？（ ）

- A. 30 10
- B. 18 22
- C. 28 12
- D. 25 15

67. 工作人员做成了一个长 60 厘米，宽 40 厘米，高 22 厘米的箱子，因丈量错误，长和宽均比设计尺寸多了 2 厘米，而高比设计尺寸少了 3 厘米，那么该箱子的表面积与设计时的表面积相差多少平方厘米？（ ）

- A. 4
- B. 20
- C. 8
- D. 40

68. 如图，街道 XYZ 在 Y 处拐弯，XY=1125 米，YZ=855 米，在街道一侧等距装路灯，要求 X，Y，Z 处各装一盏路灯，这条街道最少要安装多少盏路灯？（ ）

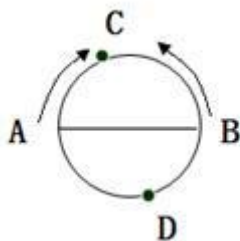


- A. 47
- B. 46
- C. 45
- D. 44

69. ABCD 四人去羽毛球馆打球，A 每隔 5 天去一次，B 每隔 11 天去一次，C 每隔 17 天去一次，D 每隔 29 天去一次，5 月 18 日，四个人恰好在羽毛球馆相遇，则下一次相遇时间为？（ ）

- A. 9 月 18 日
- B. 10 月 14 日
- C. 11 月 14 日
- D. 12 月 18 日

70. 如下图所示，AB 两点是圆形体育场直径的两端，两人从 AB 点同时出发，沿环形跑道相向匀速而行，他们在距 A 点弧形距离 80 米处的 C 点第一次相遇，接着又在距 B 点弧形距离 60 米处的 D 点第二次相遇，问这个圆形体育场的周长是多少米？（ ）



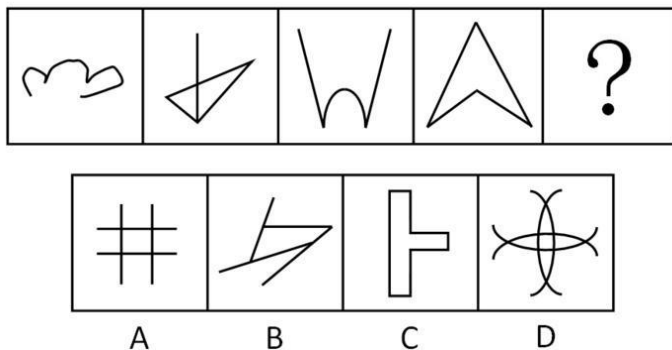
- A. 240
- B. 300
- C. 360
- D. 420

第四部分 判断推理

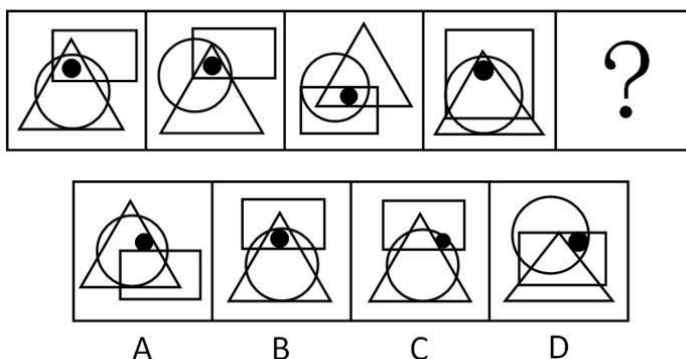
一、图形推理。请按每道题的答题要求作答。

请开始答题：

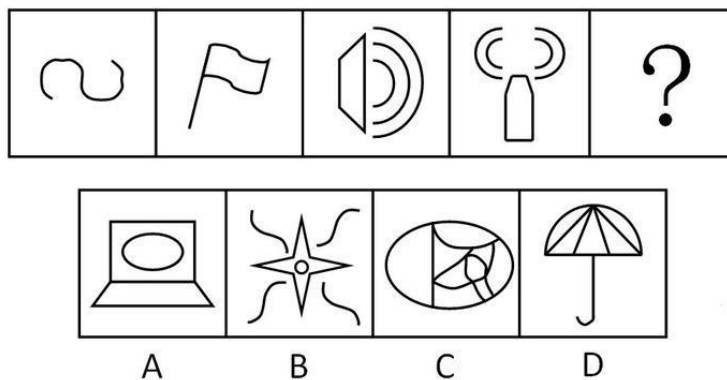
71. 从所给的四个选项中，选择最合适的一个填入问号处，使之呈现一定的规律性（ ）。



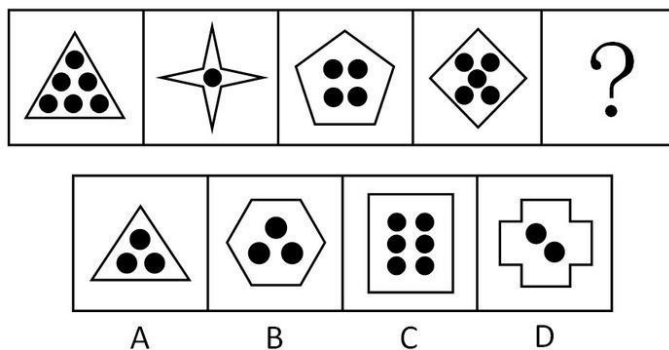
72. 从所给的四个选项中，选择最合适的一个填入问号处，使之呈现一定的规律性（ ）。



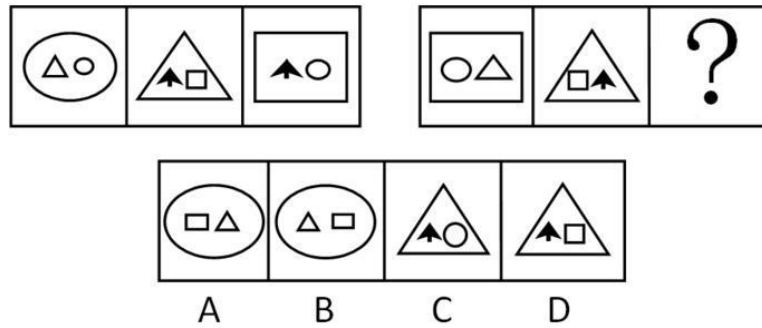
73. 从所给的四个选项中，选择最合适的一个填入问号处，使之呈现一定的规律性（ ）。



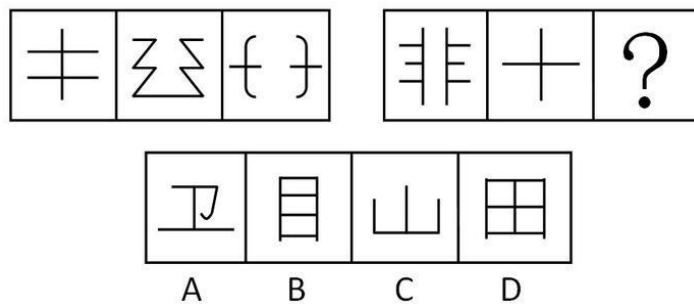
74. 从所给的四个选项中，选择最合适的一个填入问号处，使之呈现一定的规律性（ ）。



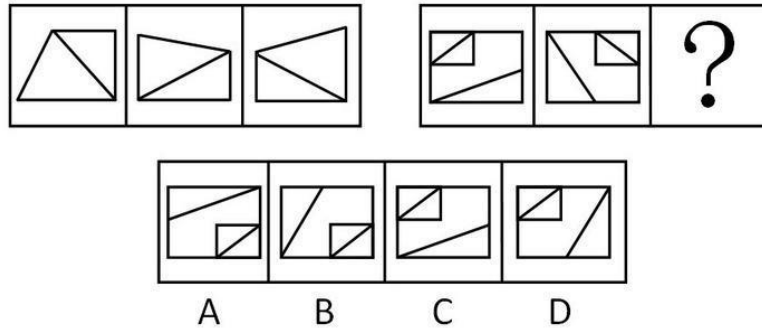
75. 从所给的四个选项中，选择最合适的一个填入问号处，使之与左边一组呈现相同的规律性（ ）。




76. 从所给的四个选项中，选择最合适的一个填入问号处，使之与上边一组呈现相同的规律性（ ）。



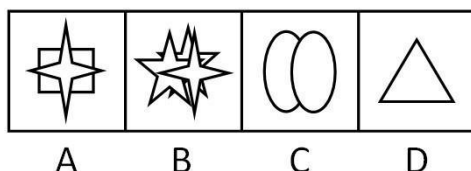

77. 从所给的四个选项中，选择最合适的一个填入问号处，使之与左边一组呈现相同的规律性（ ）。



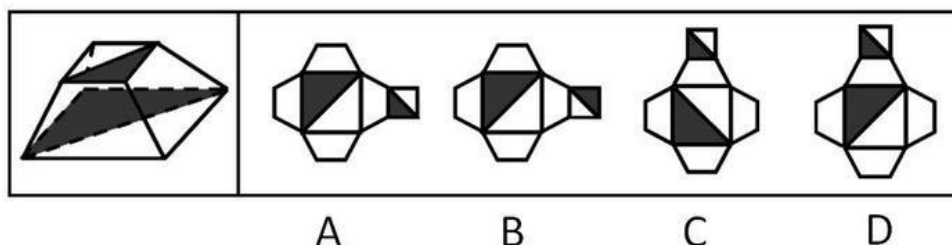
78. 从所给的四个选项中，选择最合适的一个填入问号处，使之呈现一定的规律性（ ）。



79. 从所给的四个选项中，选择最合适的一个填入问号处，使之呈现一定的规律性（ ）。



80. 左边给定的立体图是由下面哪一项折叠而成的？（ ）



二、定义判断。每道题先给出定义，然后列出四种情况，要求你严格依据定义，从中选出一个最符合或最不符合该定义的答案。注意：假设这个定义是正确的，不容置疑的。

请开始答题：

81. 品质成本是指企业为了保证和提高产品品质而支出一切费用和由于产品品质未达到规定的要求而造成的一切损失。

根据上述定义，下列属于品质成本的是（ ）。

- A. 某医药企业为树立产品良好的品质形象聘请专家代言的费用
- B. 某汽车制造商为新产品开展品质见证之旅主题试乘试驾活动的费用
- C. 某保健品公司因为涉嫌虚构夸大产品功效而被处罚缴纳的罚款
- D. 某食品生产企业因产品人工色素含量超标，被质监部门查处缴纳罚款

82. 故意毁坏财物罪，是指达到刑事责任年龄且具备刑事责任能力的自然人故意毁坏或者损坏公私财务，数额较大或者有其他严重情节的行为。犯罪目的只是损坏公私财务，不具有非法占有的目的。

根据上述定义，下列属于故意毁坏财物罪的是（ ）。

- A. 张某不满公司年终分红方案，私自拿走公司贵重物品
- B. 精神病人李某抢走路人财务并致其伤残
- C. 王某对自己的新房装修过度，导致居民楼出现裂缝
- D. 赵某破坏高压线路，导致整个地区停电三天

83. 人际冲突有两种：工作性冲突与情绪性冲突（关系冲突）。工作性冲突是因为对工作本身有不同的理解、思路和方法；情绪性冲突则是情绪上的对立或敌意。
根据上面的定义，下面属于情绪性冲突的是（ ）。
- A. 某单位领导因为坚持原则和下属发生严重的争执
 - B. 一位年轻女孩子，因男友的冷漠，和他吵起来了
 - C. 一位年轻的同事正在向顾客说明什么，但顾客显得很激动
 - D. 一位老者正在教训那些采摘校园玫瑰花的人
84. 结构性失业，是指由经济结构（包括产业结构、产品结构、地区结构）发生了变化，现有劳动力的知识、技能、观念、区域分布等不适应这种变化，与市场需求不匹配而引发的失业。
根据上述定义，下列属于结构性失业的是（ ）。
- A. 小王因为所学专业偏冷，大学毕业后马上就“失业”了
 - B. 文化水平不高的张阿姨不适应现代化的要求，失业了
 - C. 小李由于没有大学英语六级证书，在找工作时老是碰壁
 - D. 上海的一家企业缺少高级工，存在人才空位现象
85. 工作扩大化，是指在横向水平上增加工作任务的数目或变化性，使工作多样化。工作丰富化是指从纵向上赋予员工更复杂、更系列化的工作，使员工有更大的控制权。
下列属于工作丰富化的是（ ）。
- A. 自助餐的伙计在面食、沙拉、蔬菜、饮品和甜点部轮换工作
 - B. 邮政部门的员工从原来只专门分拣邮件增加到同时分送到各邮政部门
 - C. 在某传输数据系统公司，员工可以经常提出自己喜欢的工作并随后转入新的岗位
 - D. 在一家研究所，一个部门主管告诉她的下属，只要在预算内并且合法，他们就可以做想做的任何研究
86. 职务发明，是指企业、事业单位、社会团体、国家机关的工作人员执行本单位的任务或者主要是利用本单位的物质条件所完成的职务发明创造。
根据上述定义，下列属于职务发明的是（ ）。
- A. 张大爷参加了老年健身活动俱乐部，发明了一种新型的健身器材
 - B. 小李受公司委托参加了某高校一项课题研究，发明了一种新技术
 - C. 刘老师在家设计了一个多功能黑板，以方便平时上课
 - D. 王同学在读高中时就发明了一种多功能雨伞，并获得了专利
87. 乐观，是指认识事物过程中的一种心理状态，表现为关心事物的正向价值，并把最大正向价值作为其行为方案的选择标准，即相信自己有足够的行为能力来承受和减弱原有负向价值对自己的不良影响，并使原有正向价值发挥更大的积极效应。
下列最符合上述关于乐观的定义的是（ ）。
- A. 长风破浪会有时，直挂云帆济沧海
 - B. 风力掀天浪打头，只须一笑不须愁
 - C. 今年欢笑复明年，秋月春风等闲度
 - D. 烹羊宰牛且为乐，会须一饮三百杯
88. 自居作用，是指一个人把他所钦佩或崇拜的人的特点、某一团队或某种主张作为自己的特点，用以弥补自己的缺点和不足。自居作用有两种：一是使自己模仿他人的行为；二是利用别人的优点、荣誉等来满足自己的愿望。
根据上述定义，下列属于自居作用的是（ ）。
- A. 见贤思齐
 - B. 谈笑有鸿儒，往来无白丁
 - C. 人云亦云
 - D. 推己及人

89. 知觉防御,是指个体进行自我保护的一种思想方法倾向,它使人比较容易观察能满足个体需要的事物,对于满足个体需要无关的事物则是视而不见、听而不闻。

下列选项中不属于知觉防御的是()。

- A. 先天下之忧而忧,后天下之乐而乐 B. 两耳不闻窗外事,一心只读圣贤书
C. 可怜后主还祠庙,日暮聊为梁父吟 D. 商女不知亡国恨,隔江犹唱后庭花

90. 消费信贷,是指银行等金融机构向消费者为消费而发放的贷款。消费信贷往往需要采取综合的担保措施以及进行充分的市场信用调查,在法律上表现为买卖合同(往往是分期付款买卖)、借款合同、担保合同的综合体。

根据上述定义,下列属于消费信贷的是()。

- A. 某饭店允许某位客户的赊账行为
B. 某农村信用合作社为农民购车发放小额贷款
C. 某职工为购房与单位签合同预支 20 年的住房补贴
D. 在资产清收、处置过程中,银行垫付债务人的诉讼费、经济纠纷款等

三、类比推理。每道题先给出一组相关的词,要求你在备选答案中找出一组与之在逻辑关系上最为贴近、相似或匹配的词。

请开始答题:

91. 谬误:语法

- A. 木头:煤炭 B. 俗气:文章
C. 馒头:面粉 D. 快乐:高兴

92. 川剧:变脸

- A. 滑稽戏:逗乐 B. 西河大鼓:弹三弦
C. 二人转:转手绢 D. 京剧:画脸谱

93. 火山:岩浆

- A. 小麦:面包 B. 海洋:岛屿
C. 汽车:尾气 D. 地下水:喷泉

94. 真诚:真挚

- A. 论证:论点 B. 顽强:顽劣
C. 果断:武断 D. 争议:争执

95. 画家:作家

- A. 工人:农民 B. 土豆:山芋
C. 绿茶:红茶 D. 军人:诗人

96. 人生:阅历:经验

- A. 身体:营养:体重 B. 企业:销量:产能
C. 职场:学识:成功 D. 学校:生源:名气

97. 茶水:茶壶:茶杯

- A. 乘客:公交车:出租车 B. 杂志:书架:阅览室
C. 人才:学校:企业 D. 课本:书店:印刷厂

98. 药品:药房:药方

- A. 旅行:飞机:机票 B. 桌餐:饭店:菜单
C. 存款:银行:银行卡 D. 电影:影院:电影票

99. 老师 对于 () 相当于 () 对于 病人

- A. 书本; 父母 B. 学校; 医院

- C. 学生；医生
D. 教室；药品
100. 玫瑰 对于 () 相当于 () 对于 鲸鱼
- A. 香精；鱼翅
B. 花园；海水
- C. 蔷薇；海豚
D. 月季；鲨鱼

四、逻辑判断。每道题给出一段陈述，这段陈述被假设是正确的，不容置疑的。要求你根据这段陈述，选择一个答案。注意：正确的答案应与所给的陈述相符合，不需要任何附加说明即可以从陈述中直接推出。

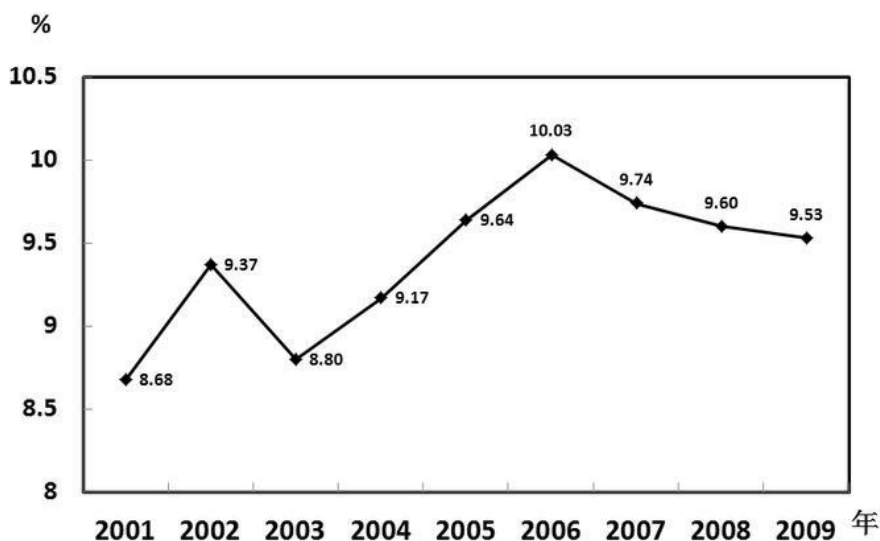
请开始答题：

101. 有人认为“美是客观的”，比如你无论是否看到黄山的美景，它都是存在着的；也有人认为“美是主观的”，一些在你眼中的美女在其他人看来却是不怎么样。可见 ()。
- A. 没有绝对的美，也没有绝对的丑
B. “美是客观的”不正确
C. 美是相对的，是存在于我们主客观世界里的
D. 美是主观，还是客观，属于萝卜白菜各有所爱
102. 根据美国营养学家的研究，花菜中含有一氯化物——吲哚。科研人员将一种类似花菜中吲哚的特殊物质注入一批志愿试验人员体内，注射一周后，采血进行化验检查，结果发现这些受试者体内可致乳腺癌的雌激素被显著降低了，这说明花菜有预防乳腺癌的功效。如果以下各项为真，最能质疑上述推测的是 ()。
- A. 花菜中吲哚的含量较低
B. 一些常吃花菜的人也患有乳腺癌
C. 很多从来不吃花菜的人也没有患乳腺癌
D. 雌激素的水平不是导致乳腺癌的唯一因素
103. 在发生了若干起由于汽车本身质量问题而导致的严重事故之后，某汽车公司开始针对导致事故发生的全球范围内召回旗下部分系列的产品。鉴于事故造成的严重后果，这种举措也许短时间内并不能重新赢回消费者对其品牌的信赖，但亡羊补牢的措施总算没有使其遭到所有人的抛弃。由此可以推知 ()。
- A. 该公司旗下其他系列的产品不存在类似的质量问题
B. 亡羊补牢的措施终究会使消费者对该公司的信赖回升到原有水平
C. 消费者对该公司及其产品信赖，部分原因在于它能够较好地处理出现的问题
D. 该公司召回产品的目的是避免因同类质量问题再次出现事故
104. 班主任在期末总结会上说：“我们班的同学在过去的一年里取得了优异的成绩，有的在奥数竞赛中获了奖，有的在英语口语比赛中获了奖，有的在舞蹈比赛中获了奖。我们班有许多女同学……”由此可以推出 ()。
- A. 取得优异成绩的全部是女同学
B. 取得优异成绩的肯定有女同学
C. 取得优异成绩的女同学多于男同学
D. 取得优异成绩的可能没有女同学
105. 一家汽车生产商推出标准型、豪华型两款车型，豪华型的安全性能比标准型好很多，两款车型同时上市后，豪华型的销量一直没有超过标准型。由此，该生产商认为安全性能并非顾客考虑的首要因素。如果以下各项为真，最能削弱该生产商观点的是 ()。
- A. 大部分顾客对标准型汽车的信赖度更高
B. 豪华型汽车的价格与标准型相差不是很多

- C. 大部分顾客认为标准型汽车的安全性能足以满足日常生活需要
D. 购买标准型汽车的大多是集体客户，所以标准汽车销售量一直很高
106. 科学家发现，在过去的 200 年内，地球的磁场急剧的衰减。科学家预言，照这种速度发展下去，在未来的 1000 年内，地球磁场可能会完全消失，地球生灵将面临前所未有的宇宙射线大灾难。
由此可以推出（ ）。
- A. 目前地球磁场的衰减速度比 200 年前更快 B. 人类无法改变地球磁场急剧衰减的状况
C. 今后来自外太空的辐射强度将会越来越大 D. 地球磁场可阻挡来自太空的辐射
107. 科学研究发现，植物对触摸作出反应是因为它们认为自己正在遭受风的打击，因此“觉得”必须提高强度防止风的破坏。每天只要对植物的茎进行几秒钟的抚摸和敲击就可使植物枝干的密度加强。在植物被触摸不到 30 分钟后，植物的基因便生成使其体内钙含量提高的蛋白质。钙的增加相应地又导致一种名为钙掉蛋白的物质的增多，该物质可以使植物更为坚固。
如果下列各项为真，能够质疑上述结论的是（ ）。
- A. 菜农们在将温室中的幼苗移种至露天之前，一般会对秧苗进行敲打
B. 在移种甜菜之前，要去掉甜菜中的水分并用扫帚拍打它们
C. 在农田边缘经常受风的作物倒伏概率比在农田中央吹不到风的作物要高 80%
D. 如果碰到含羞草的叶子，它就会在几秒钟之内缩做一团，出现该现象的原因是钙迅速流进了它的细胞
108. 某市风景优美，气候宜人。该市晨曦路两侧开设的几乎全部都是老年疗养院，来自全国各地的很多老年人来此旅游、疗养。晨曦路只有很少几座居民住宅，但是晨曦路附近却有很多专门经营儿童用品的商店，而且生意还相当火爆。
下列哪一项是最能解释这一现象？（ ）
- A. 晨曦路附近的专门经营儿童用品的商店所出售的商品物美价廉
B. 来此疗养的老人都是有子女带着孩子陪同的，他们需为孩子购买所需物品
C. 居住在晨曦路的居民虽然不多，但孩子们之间经常互相赠送礼物
D. 晨曦路附近的儿童用品商店闹中取静购物环境良好
109. 人工合成食用色素，是用煤焦油中分离出来的苯胺染料为原料制成的，故又称煤焦油色素或苯胺色素，如合成苋菜红、胭脂红及柠檬黄等等。偶尔食用添加少量人工合成食用色素的食品，并不会引发中毒、泻泄等状况。因此，人们可以放心食用添加少量人工合成色素的食品。
以下哪项如果为真，最能削弱上述论证？（ ）
- A. 食用添加少量人工合成食用色素的食品不利于人体健康
B. 经常食用和偶尔食用对人体的影响不同
C. 苯胺染料含对人体有害的物质
D. 食用添加少量天然食用色素的食品不会影响人体健康
110. 近日，某检验检疫局对从德国进口的百余箱机电产品木质包装箱开箱检查时发现，其中两箱有大量疑似白蚁，数量在几千只左右，密度较大，导致部分箱体出现多处蚁孔。现场采集的标本经鉴定为台湾乳白蚁。由于这种白蚁在欧洲是没有分布的，所以专家推测，可能是在中国境内运输途中感染的。
由此可以推出（ ）。
- A. 货物不是直接从德国空运过来的 B. 货物运输经过了台湾
C. 白蚁繁殖速度很快 D. 中国境内的台湾乳白蚁很多

111. 英国一家非常受欢迎的专卖三明治的快餐店，最近把三明治的价格提高了 0.2 欧元，即从 1.8 欧元提到 2 欧元。可是涨价后仅仅一个月，所有的服务员都不约而同的辞职了。
下列哪项如果为真，能最好的解释上述现象？（ ）
- A. 价格上涨后，快餐店就可以继续赠送顾客饮料，而服务员嫌麻烦
 - B. 服务员的小费比以前大大的减少了。因为售价是整数，顾客可能没有零钱给小费了
 - C. 尽管三明治的价格上涨了，但是并没有相应的增加服务员的工资
 - D. 由于价格上涨，除了某些老主顾经常来光顾，店里的生意可是日渐冷清了
112. 本能可以使生物对刺激做出复杂的反应。相对非本能反应，本能反应只需要很少的神经细胞。具有非本能反应能力的大脑一定有大量的神经细胞，而没有哪种昆虫的大脑具有如此数量的神经细胞。
根据这段文字，可以知道（ ）。
- A. 昆虫的反应一般是本能反应
 - B. 大脑小于或等于昆虫大脑的生物只能做出本能反应
 - C. 大脑大于昆虫大脑的生物都有能力做出非本能反应
 - D. 拥有高级大脑的生物做出大的反应一般不是本能反应
113. 由于在乐业天坑中最大的天坑—大石围—底部的原始森林中发现了与恐龙同时代的植物桫欏，有人据此推测，大石围应形成于恐龙时代，即 6500 万年前。
如果下列各项为真，哪项最能反驳上述推测？（ ）
- A. 桫欏至今仍然存在
 - B. 在其他乐业天坑中未发现桫欏
 - C. 恐龙无法进入这个极深的天坑
 - D. 没有在大石围中发现恐龙化石
114. 近期一项电脑市场调查显示：按照一品牌学生购买者占全部购买者的百分比计算，A、B 两品牌电脑名列前两位，比例分别为 68% 和 52%。但是，在过去 6 个月的学生购买电脑量排行榜中，国产 C 品牌一直排在首位。
下列哪项为真，最有助于解释上述矛盾（ ）。
- A. 有关机构设立排行榜在一定程度上影响学生消费者对品牌的选择
 - B. C 品牌的学生购买者占其购买者的比例也曾在相当长的时间内高于其他品牌
 - C. 与 A、B 两种品牌相比，C 品牌电脑性价比更高，更符合学生要求
 - D. 某种品牌学生购买者占各品牌学生购买者总数的百分比，与某种品牌学生购买者占该品牌全部购买者的百分比是不同的
115. 大众意识到新闻传媒中可能有偏见并且怀疑新闻传媒强有力的传播效果。然而，大众对被报道的每一条新闻貌似有理的评价与新闻主体是不一致的，因为大众的评价是以从新闻媒介中得到的资料为背景的。
如果作者上述的观点是正确的，那么他在试图说明（ ）。
- A. 如果在新闻传媒所报道的新闻中普遍存在偏见，那么公众要识别这些偏见是困难的
 - B. 新闻传媒修改他们的报道以适应特殊的政治议事日程
 - C. 新闻媒介把其偏见强加在往往不会被意识到失真的报道中，反而使它变成大众感兴趣和可信的观念中的一部分
 - D. 新闻报道者与大众在重大的社会问题上的观点是完全一致的，因为新闻报道者也是这个社会中的一员

2009年全国海洋生产总值 31964 亿元，比上年增长 8.6%。全国海洋生产总值占国内生产总值的 9.53%，占沿海地区生产总值的 15.5%。海洋第一产业值为 1879 亿元，海洋第二产业值为 15062 亿元，海洋第三产业值为 15023 亿元。



2001~2009年全国海洋生产总值占国内生产总值比重

2009年全国主要海洋产业增加值

行业	增加值（亿元）	同比增速（%）
主要海洋产业总体	12989	8.7
其中：海洋交通运输业	3478	-2.4
海洋工程建筑业	658	31.9
滨海旅游业	3725	12.3
海洋渔业	2509	12.4
海洋油气业	748	8.5
海洋矿业	21	7.5
海洋盐业	55	0.7
海洋化工业	611	26.0
海洋生物医药业	59	12.6
海洋电力业	12	25.2
海洋利用业	15	18.6
海洋船舶工业	828	15.8

121. 2009年我国海洋经济三产业值的比重约为（ ）。
 A. 5.9:47.3:46.8
 B. 5.9:47.1:47.0
 C. 7.2:47.3:45.5
 D. 7.2:47.0:45.8
122. 下列哪一年全国海洋生产总值占国内成产总值的比重同比增幅最大？（ ）。
 A. 2002年
 B. 2004年
 C. 2006年
 D. 2008年
123. 将 2009年各海洋产业增加值从大到小排列，以下正确的是（ ）。
 A. 海洋渔业-海洋利用业-海洋矿业
 B. 滨海旅游业-海洋化工业-海洋电力业

- C. 海洋交通运输业-海洋盐业-海洋船舶工业
- D. 海洋工程建筑业-海洋油气业-海洋生物医药业

124. 2009年我国有几个海洋产业增加值的同比增幅高于主要海洋产业总体水平? ()

- A. 6
- B. 7
- C. 8
- D. 9

125. 下列说法正确的是 ()。

- A. 2008年海洋生物医药业增加值高于海洋盐业。
- B. 2009年增加值排名第三的海洋产业其同比增速也排名第三。
- C. 2008年全国海洋生产总值占国内生产总值的比重高于2005年。
- D. 2009年主要海洋产业中只有海洋交通运输业是增加值同比下降的。

三、根据以下资料, 回答问题。

2009年7月, 全国粗钢产量同比增长12.6%, 增速比上月提高6.6个百分点; 钢材产量同比增长19.4%, 增速比上个月提高5.4个百分点; 焦炭产量同比增长6.3%; 铁合金产量同比增长15.1%。钢材出口181万吨, 比上月增加38万吨; 进口174万吨, 比上月增加11万吨。钢坯进口57万吨, 比上月增加19万吨。焦炭出口5万吨, 比上月增加2万吨。

1~7月, 全国粗钢产量31731万吨, 同比增长2.9%, 增速同比下降6.4个百分点。钢材产量37784万吨, 同比增长7.6%, 增速同比下降4.1个百分点。焦炭产量19048万吨, 同比下降3.5%, 上年同期的同比增长率为11.3%。铁合金产量1124万吨, 同比增长0.8%, 增速同比下降16.8个百分点。钢坯进口323万吨, 同比增长27.9倍。钢材出口1116万吨, 同比下降67.3%; 进口988万吨, 同比增长1.6%。铁矿砂进口35525万吨, 同比增长31.8%。焦炭出口28万吨, 同比下降96.6%。

126. 2009年6月, 全国钢材产量的同比增长率为 ()。

- A. 5.4%
- B. 14.0%
- C. 19.4%
- D. 24.8%

127. 下列选项中, 2009年7月, 环比增长率最高的为 ()。

- A. 钢材出口量
- B. 钢材进口量
- C. 钢坯进口量
- D. 焦炭出口量

128. 2009年, 1-5月, 全国钢坯月均进口量为多少万吨? ()

- A. 45.6
- B. 46.2
- C. 47.4
- D. 49.0

129. 2007年1-7月, 全国粗钢产量约为多少亿吨? ()

- A. 2.0
- B. 2.4
- C. 2.8
- D. 3.2

130. 下列说法与资料相符的是 ()。

- A. 2008年1-7月, 全国粗钢产量高于钢材产量
- B. 2009年1-7月, 全国焦炭产量低于2007年同期水平
- C. 2008年1-7月, 全国铁矿砂进口量超过3亿吨
- D. 2009年1-7月, 全国钢材进出口总量比上年有所下降