

第一部分 常识判断

根据题目要求，在四个选项中选出一个最恰当的答案。

请开始答题：

1. “中国”作为我国国名的简称，开始于（ ）。
A. 夏朝
B. 清朝
C. 秦朝
D. 辛亥革命后
2. 有一幅对联以皇帝年号分别嵌入上下句，其上句为：“顺天心，康民物，雍和其德，乾健其身，嘉惠普群黎，道光绍虞夏商周，咸歌盛世。”此句涉及的皇帝的朝代是（ ）。
A. 汉朝
B. 唐朝
C. 明朝
D. 清朝
3. 卖给消费者的第一种转基因食物是（ ）。
A. 玉米
B. 大豆
C. 西红柿
D. 水稻
4. 石油成为主要能源后对世界经济影响很大，下列历史事件的起因与石油能源有关的是（ ）。
A. 巴以争端
B. 第一次世界大战
C. 20世纪90年代的海湾战争
D. 英国、阿根廷的马岛战争
5. 2005年度国家科学技术奖评选结果于2006年1月9日揭晓，获得该年国家最高科学技术奖的专家中有（ ）。
A. 吴文俊
B. 吴孟超
C. 袁隆平
D. 裘法祖
6. 1910年美国生物学家（ ）创立了染色体——遗传基因理论，由此细胞遗传学有了坚实的基础。
A. 孟德尔
B. 摩尔根
C. 德弗里斯
D. 萨顿
7. 在日益激烈的国际竞争中，人们越来越意识到必须依靠综合国力作为竞争的基础，而决定综合国力的关键因素是（ ）。
A. 经济实力
B. 科技水平
C. 军事实力
D. 资源数量
8. 关于一个国家货币的贬值或升值，下列表述错误的是（ ）。
A. 本国货币贬值有利于本国外汇的增收节支
B. 本国货币贬值有利于本国不断扩大出口
C. 本国货币升值有利于本国进口外国技术设备
D. 某国货币升值对持有该国币种债务的国家有利
9. “飞虎队”全称为“中国空军美国志愿援华航空队”，1941年7月来中国参与抗日，当时美国尚未对日宣战。“飞虎队”的创建人是美国人（ ）。
A. 约翰·罗西
B. 保罗
C. 马克
D. 陈纳德
10. 2005年10月12日，中国一艘飞船顺利升空，实现了多人多天及有人参与太空实验的航天飞行。这艘飞船是（ ）。
A. 神舟五号
B. 神舟六号
C. 神舟七号
D. 神舟八号

11. 监护是为无完全民事行为能力人设定专人以保护和管理其人身和财产利益的法律制度。下列关于监护人职责的表述不正确的是（ ）。
- A. 代理被监护人进行民事活动
 - B. 保护被监护人的人身、财产及其他合法权益
 - C. 承担被监护人毁坏他人财物的刑事法律责任
 - D. 承担被监护人致人损害的侵权赔偿责任
12. 处置突发性公共事件的首要原则是（ ）。
- A. 迅速性原则
 - B. 效率性原则
 - C. 安全性原则
 - D. 慎重性原则
13. 王某于某日晚在一僻静胡同里抢夺了一名妇女的黑色提包，内有 3000 元人民币。在已查明的本案下列事实中，对犯罪构成没有意义的是（ ）。
- A. 王某今年 23 周岁，具有完全刑事责任能力
 - B. 王某具有非法占有他人财物的主观目的
 - C. 王某特意选择了夜晚和僻静胡同这样的时间和地点作案
 - D. 王某已经实施了抢夺行为，且抢夺的财物数额达到 3000 元人民币
14. 关于行政合同，下列表述不正确的是（ ）。
- A. 行政合同的当事人一方必定是行政主体
 - B. 行政合同双方当事人行政法上法律地位平等
 - C. 行政合同的订立应以双方当事人意思表示一致为前提
 - D. 行政合同纠纷通常通过行政法的救济途径解决
15. 朝鲜半岛核问题的六方会谈已举行过五轮，取得了初步成果。下列不属于六方会谈成员的国家是（ ）。
- A. 美国
 - B. 英国
 - C. 俄罗斯
 - D. 中国
16. 获得 2012 年夏季奥运会举办权的城市是（ ）。
- A. 巴黎
 - B. 伦敦
 - C. 莫斯科
 - D. 巴塞罗那
17. 2005 年是西藏自治区成立（ ）。
- A. 50 周年
 - B. 45 周年
 - C. 40 周年
 - D. 55 周年
18. 关于收入分配不平等的个人原因，下列不正确的是（ ）。
- A. 人的能力
 - B. 人的勤奋程度
 - C. 人的机遇
 - D. 人的户籍制度
19. 明朝中后期，倭寇不断侵扰我国东南沿海地区，当时的著名抗倭英雄是（ ）。
- A. 张居正
 - B. 戚继光
 - C. 郑成功
 - D. 袁崇焕
20. 酸雨是指 PH 值低于 5.6 的大气降水，包括雨、雪、露、霜，造成酸雨的主要原因是大气中的（ ）。
- A. 二氧化碳
 - B. 二氧化硫
 - C. 氢氧化物
 - D. 二氧化氯
21. 以国家强制力推行的用以规定各种行为规范的公文是（ ）。
- A. 规范性文件
 - B. 指导性文件

- C. 公布性文件
D. 证明性文件
22. 在冬季，人们往往容易鼻子出血，因而常常在房间的地上洒一些水，或在室内放一盆清水、挂一些湿毛巾等。对以上做法最合理的解释是（ ）。
- A. 北方天气冬季寒冷，室内有暖气，人们觉得热得受不了
B. 医学研究证明，冬季室内空气干燥，容易造成鼻腔血管壁的破裂
C. 富有的人家中有加湿器，不用在室内挂湿毛巾、洒水或放置水盆
D. 有些人患有特殊疾病，需要室内加湿，以预防疾病复发
23. “位卑未敢忘忧国”这一名言的作者是（ ）。
- A. 李白
B. 陆游
C. 孔子
D. 文天祥
24. 当人的皮肤受到阳光照射时，便会在体内产生（ ）。
- A. 维生素 A
B. 维生素 B
C. 维生素 C
D. 维生素 D
25. 提出“太阳中心说”的是（ ）。
- A. 托特雷
B. 柏拉图
C. 哥白尼
D. 布鲁诺
26. 张大妈于某日清晨在路边捡到一名弃婴，带回家中抚养十几天后，将该弃婴以 8000 元价格卖给邻村刘某。张大妈的行为构成（ ）。
- A. 遗弃罪
B. 诈骗罪
C. 拐骗儿童罪
D. 拐卖儿童罪
27. “耳提面命”这个成语的意思是（ ）。
- A. 长辈对晚辈的命令
B. 长辈对晚辈的批评
C. 长辈对晚辈恳切地教导
D. 长辈对晚辈的恳求
28. 地球上生物生长的大部分能量来自于（ ）。
- A. 太阳
B. 月球
C. 矿物
D. 海洋
29. “杜马”一词是俄语的中文译音。其意为（ ）。
- A. 中央政府
B. 法院
C. 检察院
D. 议会
30. 下列国家最晚加入联合国的是（ ）。
- A. 芬兰
B. 波兰
C. 瑞典
D. 瑞士

第二部分 言语理解与表达

本部分包括表达与理解两方面的内容。请根据题目要求，在四个选项中选出一个最恰当的答案。

请开始答题：

31. 太平之世读书，易；马乱兵荒年，亦能读书，难。静穆的乡村读书，易；在城市闹中取静，亦能读书，难。明窗净几读书，易；败屋茅棚亦能读书，难。于教室、图书馆读书，易；于车上、船上、旅途中，亦能读书背书，难。闲时读书，易；忙时放下事立刻能读书，难。这段话告诉我们（ ）。
- A. 读书有难有易，但能坚持读书难能可贵 B. 读书易中有苦，难中有乐
C. 读书的难易唯有自己明白 D. 读书的难易连自己也不明白
32. 当众羞辱学生，以冷酷的惩罚性体验“培养”了学生的自卑、仇恨甚至社会攻击倾向，而侵害了自尊心、信任能力和集体归属感。一次当众羞辱就是对人的尊严的一次践踏，反复的羞辱体验则将导致人格尊严的丧失。而人类社会最重要的价值——爱、道德、公民品格与社会凝聚力，都有赖于人对自我、对他人的尊严的确认与珍视。对材料的理解不当的一项是（ ）。
- A. 当众羞辱对青少年心灵具有严重的伤害性
B. 对自我、对他人尊严的确认和珍视，将凸显人类社会最重要的价值
C. 学生有了自卑、仇恨甚至社会攻击倾向，就会走向犯罪
D. 学生被多次当众羞辱将导致其人格尊严的丧失
33. 历来画家多雅人高士，故所作能风度潇洒，韵味醇古，于笔墨以外，别有一种静穆之气，幽雅之思，为常人凡夫所不及。此即将人格移入于作品之中，使之人格化，故能感人最深而为国画之无上上乘也。根据这段话，作者想告诉我们（ ）。
- A. 画品影响人品 B. 人品影响画品
C. 画品比人品重要 D. 人品比画品重要
34. “姑苏城外寒山寺，夜半钟声到客船。”寒山寺拥有中国最著名、最有诗意的钟声。大量游客热衷于到寒山寺来敲响新年钟声，这让寒山寺看到了商机所在。寒山寺从 1998 年开始拍卖新年敲钟权，获利颇丰。据说寒山寺早在 2002 年，首钟就能卖到 2 万元。这段文字表明（ ）。
- A. 作者赞成拍卖新年敲钟权 B. 作者反对拍卖新年敲钟权
C. 民众都想在新年敲钟祈福 D. 新年敲钟权也能成为商品
35. 由杨丽萍编导并领衔主演的大型原生态歌舞集《云南映象》全球公演计划启动。该歌舞集海外推广商宣布将《云南映象》更名为《寻找香格里拉》，歌舞集的海外演出到目前为止已预订了近 200 场。这段话，透露出这样一个主要信息（ ）。
- A. 越是民族的，越是世界的 B. 原生态的艺术也有巨大的商业价值
C. 民族艺术墙内开花墙外香 D. 民族艺术也需要全方位包装推广
36. 电视节目市场竞争情况因时段、播出季节及一周中的播出时间不同而不同。不同播出时段受众的规模不同，因此收视率水平也大不相同。这段话想告诉我们（ ）。
- A. 电视节目的收视率受受众层次的影响 B. 电视节目的收视率受播出季节的影响

- C. 电视节目的收视率受市场竞争情况的影响 D. 电视节目的收视率受播出时段的影响
37. 声音可以通过空气传播，也可以通过固体和液体等介质传播。但是，声音无法在真空中传播。宇宙空间是一个真空。
上述材料中没有体现的是（ ）。
- A. 声音可在不同性质的介质中传播 B. 宇宙空间不可能传播声音
C. 声音通过不同的介质以不同的速度传播 D. 真空状态下没有声音
38. 基因是细胞内控制细胞生长和变化的一种微小的结构，它们就像一系列构建生物体并使之发挥正常功能的指令。不论是老虎、伞菌（一种有毒的蘑菇）还是人类，每一种生物体内的细胞中都包含有基因。你的基因决定了你的相貌，从你头发的颜色到你不长尾巴，这些都是由基因决定的。显然环境也会影响你的相貌，但是基因的作用是决定性的。
这段话说明（ ）。
- A. 能发挥指令功能的结构是基因 B. 每一种生物都可能有相似的基因
C. 基因决定生物的一切 D. 基因决定生物的外貌
39. 神经冲动传递的过程听起来相当简单。使人惊奇的是，神经冲动在神经元之间传递的过程快得让人难以置信。一些神经元拥有数以万计的突触，这些突触使得这些神经元能够和其他无数个小神经元交换信息。即使在你休息的时候，数以亿计的神经冲动也在通过你身体里的神经网络进行传递。
这段话表明（ ）。
- A. 神经冲动在体内快速、频繁、无休止地传递 B. 神经冲动的速度快、质量高
C. 神经冲动的数量多、信息量大 D. 神经冲动要利用身体的神经网络进行
40. 现在，经常出国的中国人都明显感觉到一种巨大的落差：一边是中国经济越来越强大，一边却是部分国人的人文形象和公共形象步步下跌。
这段话想告诉我们（ ）。
- A. 我们不要妄自菲薄 B. 我们不要妄自尊大
C. 我们需要道德建设 D. 我们需要经济变革
41. 几个诚实的商人合开了一个店铺，等到赚得许多钱财，他们便停业分钱分物，但分红哪能不吵架？他们为钱为物吵得一塌糊涂。这时他们的房子着火了，但他们仍在为钱争论。他们争吵得忘了房子已经起火，以致全都被火焰吞没烧死，连同他们的财物。
从文中可以得出的道理是（ ）。
- A. 不可利令智昏 B. 不可顾了芝麻丢了西瓜
C. 和气才能生财 D. 诚实才能生财
42. 南美洲最南端的山系和非洲最南端的山系有相同的地质构造，有相同的矿产，成山年代也相同，如果把美非两块大陆移动到一起，就成为同一个山系。
根据材料无法得出的结论是（ ）。
- A. 地球上原来没有陆地和海洋之分
B. 大陆不是静止不动的，而是缓慢而不断地漂移着
C. 大陆原来的部分山系被分开了
D. 在不同的大陆有完全相同的地质构造
43. 从1918年开始，有关人员每年对比萨斜塔进行测量，1918—1958年的40年间，平均每年倾斜1.1毫米，而1959—1969年的10年间，平均每年倾斜1.26毫米。现在顶部中心偏离中心垂直线向南倾斜4.5米。
上述文字想表达的意思是（ ）。

- A. 比萨斜塔南倾的情况已经很严重 B. 比萨斜塔倾斜的速度加快
C. 比萨斜塔测量的准确度越来越高 D. 比萨斜塔测量的力度加大
44. 设计问卷调查题时,“你喜欢教师这一受人尊敬的职业吗?”“医生认为吸烟对人体有害,你同意吗?”这类问题,或带有倾向性,或带有诱导性,因此容易使被调查者在趋同心理的支配下,做出与本人真实想法相反的回答。
作者想表达的观点是()。
A. 设计问卷调查题时,要简洁些 B. 设计问卷调查题时,要直截了当
C. 设计问卷调查题时,要避免趋同心理 D. 设计问卷调查题时,提问方式要中性
45. 地球水圈由海洋、湖泊、江河、沼泽、地下水及冰川等液态水和固态水组成。据科学家估算,地球表层的总水量约为 14 亿立方千米,其中海洋水占 97.3%,以冰川为主的陆上水占 2.7%,大气中的水,与前两者相比小得几乎可以忽略不计。
从以上材料不可能推出的是()。
A. 陆地上的水主要在冰川中 B. 海水中有液态水,也可能有固态水
C. 地球上的淡水资源很多 D. 从大气中取水意义不大
46. 歌德生活丰富,他对人生的认识,都是从他新鲜活泼之生活中体验出来的。在他《谈话录》中,可以发现一粒粒金刚石般的言论。此一粒粒金刚石之言论,虽然散见各处,不相统摄,然其光芒,互相映射。
对文中“金刚石”喻意理解最正确的是()。
A. 具有穿透性 B. 具有色彩性
C. 具有永久性 D. 具有思想性
47. 程明道“泰山不如平地大”,真是千古名言。在平地者谁知平地大?唯登泰山者,乃益知平地大。故必读西哲印哲书,而后益知中国先哲之不可及,知其中庸中之高明也。
对文中语意理最正确的是()。
A. 将西哲印哲比喻成泰山 B. 将西哲印哲比喻成大地
C. 中国先哲不及西哲印哲 D. 读西哲印哲书最为重要
48. 两河流域的苏美尔人在公元前 4000 年就创造了一种象形文字,并逐渐演化成了西亚一带广泛使用的楔形文字。约在公元前 1000 年,在今叙利亚一带生活的阿拉美亚(Arameans)人,习得了腓尼基(Phoenicia)的字母文字。随着军事的扩张和贸易的开展,数百年后,阿拉美亚的语言、文字在西亚普及开来,楔形文字渐被取代。
对文意理解有误的是()。
A. 苏美尔人使用楔形文字比阿拉美亚人使用腓尼基文字更早
B. 西亚地区先前曾广泛使用过楔形文字,其后普及使用腓尼基文字
C. 腓尼基的字母文字是叙利亚的阿拉美亚人率先习得的
D. 阿拉美亚人的语言文字能在西亚普及,与他们的军事扩张和贸易开展有关
49. 交流的匿名性似乎是互联网与生俱来的特性。曾几何时,彼得·斯坦纳绘制的一幅漫画在网民中几乎无人不晓,这幅一九九三年登于《纽约客》杂志的漫画所取的那个诙谐的标题“在网上,没人知道你是一条狗”,被网民们当作不言自明之公理加以信奉。
对文中的“在网上,没人知道你是一条狗”理解有误的是()。
A. 这是对网民是否具有人性的强烈质疑
B. 这正是因匿名性而产生的一种现状
C. 这句话可以理解为“在网上,没有人知道你到底是谁”
D. 网民们大多数都认可互联网中交流的匿名性

50. 只要生存本能犹在，人在任何处境中都能为自己编织希望，哪怕是极可怜的希望。陀思妥耶夫斯基笔下的终身苦役犯，服刑初期被用铁链拴在墙上。可他们照样有他们的希望：有朝一日能像别的苦役犯一样，被允许离开这堵墙，戴着脚镣走动。如果没有任何希望，没有一个人能够活下去。

从文段中可悟出的哲理是（ ）。

- A. 生存是第一要义
- B. 理想是生存的精神支柱
- C. 置于死地而后生
- D. 生存的目的在于发展

第三部分 数量关系

在这部分试题中，每道题呈现一段表述数字关系的文字，要求你迅速、准确地计算出答案。

请开始答题：

51. $-64.01, 32.03, -16.05, 8.07, -4.09$, ()
A. -3.01 B. -2.01
C. 2.11 D. 3.11
52. $2/13, 4/11, 2/3, 8/7, 2$, ()
A. $4/5$ B. 4
C. $5/3$ D. 3
53. $0, 6, -6, 18, -30$, ()
A. -42 B. -36
C. 48 D. 66
54. $1, 2, 6, 33, 289$, ()
A. 3414 B. 5232
C. 6353 D. 7151
55. $2, 3, 7, 22, 155$, ()
A. 2901 B. 3151
C. 3281 D. 3411
56. 对某小区 432 户居民调查汽车与摩托车的拥有情况，其中有汽车的共 27 户，有摩托车的共 108 户，两种都没有的共 300 户，那么既有汽车又有摩托车的有 ()。
A. 10 户 B. 8 户
C. 5 户 D. 3 户
57. 一个工厂有若干个车间，为了调查产品的质量情况，采用简单随机抽样的方法，从全厂某天生产的 3630 件产品中抽取 150 件产品作样本进行质量检查。若第一车间这一天生产了 440 件产品。那么从该车间抽取的产品件数为 ()。
A. 16 B. 18
C. 27 D. 32
58. 某办公室共有 7 个科员，2 个副主任，现安排 1 个副主任带 4 个科员出去考察，不同的安排方案共有 ()。
A. 70 种 B. 210 种
C. 212 种 D. 420 种
59. 某实验室需购某种化工原料 150 千克，现在市场上原料按袋出售，有两种包装，一种是每袋 45 千克，价格为 280 元；另一种是每袋 36 千克，价格为 240 元，在满足需要的条件下，最少要花费 ()。
A. 960 元 B. 1000 元
C. 1040 元 D. 1080 元
60. 某台风在福建省晋江市登陆，据观测，台风中心正以 20 千米/时的速度向北偏东沿直线方向移动。该直线将穿过福州市外围，与福州市的距离为 40 千米。已知距离台风中心 50 千米的圆形范围内都会受到台风强烈影响，预计福州市受到台风强烈影响的持续时间为 ()。
A. $1/2$ 时 B. 2 时

C. 3 吋

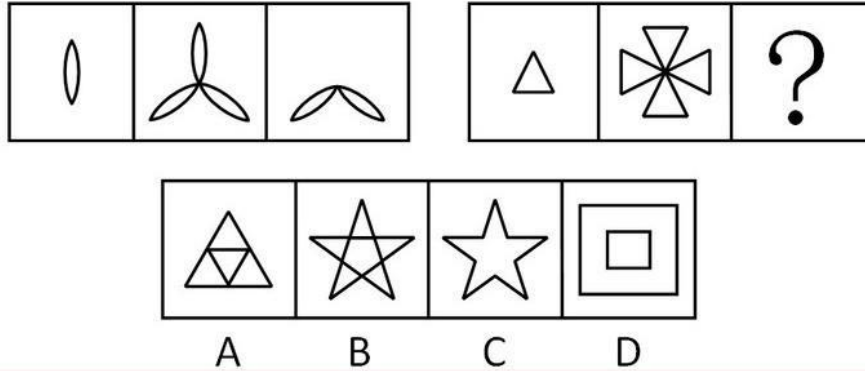
D. 4 吋

第四部分 判断推理

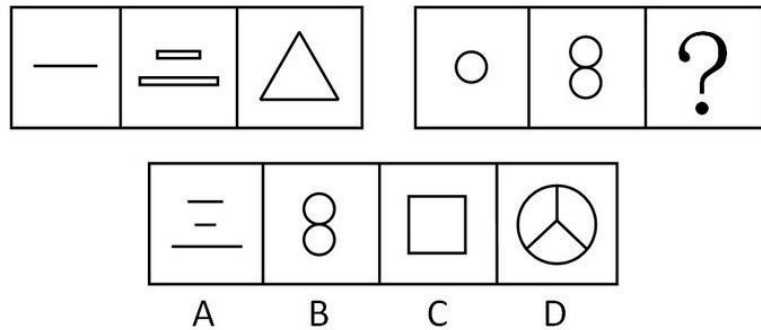
一、图形推理。请按每道题的答题要求作答。

请开始答题：

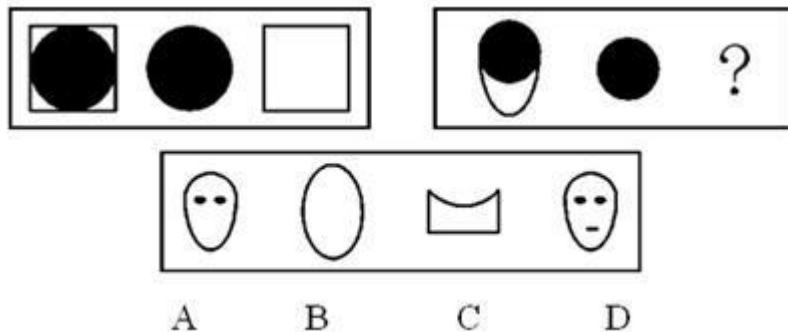
61. 从所给的四个选项中，选择最合适的一个填入问号处，使之呈现一定的规律性（ ）。



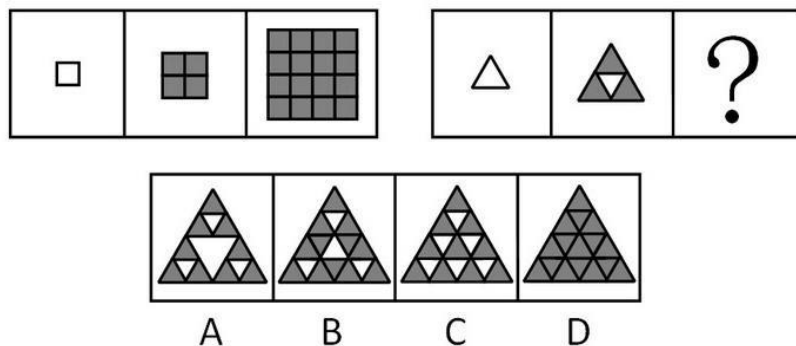
62. 从所给的四个选项中，选择最合适的一个填入问号处，使之呈现一定的规律性（ ）。



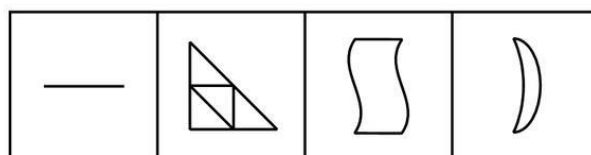
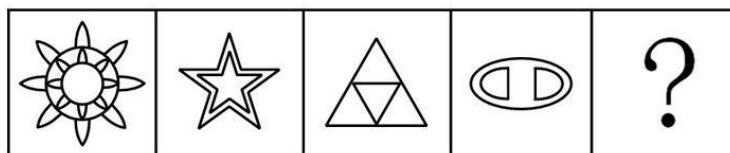
63. 从所给的四个选项中，选择最合适的一个填入问号处，使之呈现一定的规律性（ ）。



64. 从所给的四个选项中，选择最合适的一个填入问号处，使之呈现一定的规律性（ ）。

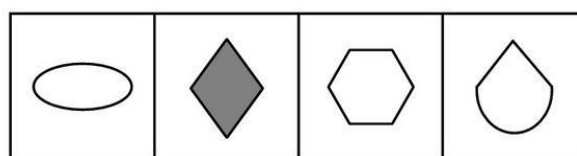
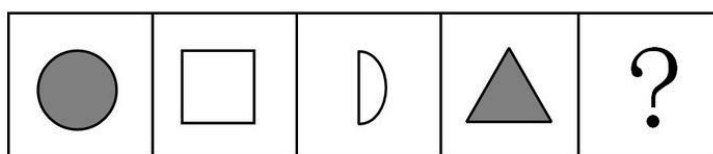


65. 从所给的四个选项中，选择最合适的一个填入问号处，使之呈现一定的规律性（ ）。



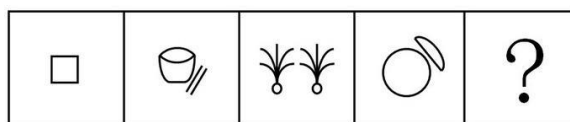
A B C D

66. 从所给的四个选项中, 选择最合适的一个填入问号处, 使之呈现一定的规律性 ()。



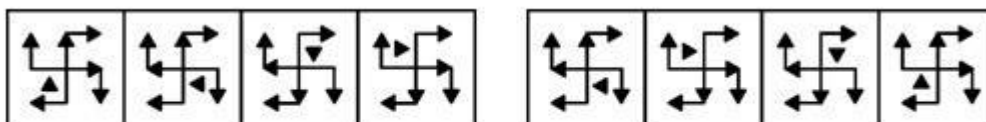
A B C D

67. 从所给的四个选项中, 选择最合适的一个填入问号处, 使之呈现一定的规律性 ()。



A B C D

68. 从 A、B、C、D 四个选项中选出最合适的一个, 使得它保持左边图形所呈现的规律性 ()。



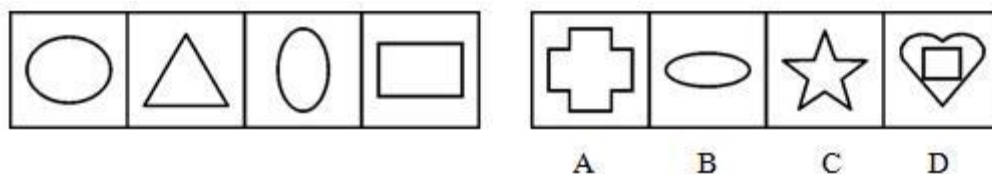
A B C D

69. 从 A、B、C、D 四个选项中选出最合适的一个, 使得它保持左边图形所呈现的规律性 ()。



A B C D

70. 从 A、B、C、D 四个选项中选出最合适的一个, 使得它保持左边图形所呈现的规律性 ()。



二、定义判断。每道题先给出定义，然后列出四种情况，要求你严格依据定义，从中选出一个最符合或最不符合该定义的答案。注意：假设这个定义是正确的，不容置疑的。

请开始答题：

71. 同理心是指在人际交往过程中，能够体会他人的情绪和想法，理解他人的立场和感受，并站在别人的角度思考和处理问题的高度。

根据以上定义，下列不属于同理心的是（ ）。

- A. 己所不欲，勿施于人
- B. 设身处地，感同身受
- C. 推己及人，将心比心
- D. 物我两忘，心无旁骛

72. 投资是指实际资本的形成，可以看作是以牺牲当前消费来增加未来消费的行为。

根据以上定义，下面不属于投资行为的是（ ）。

- A. 老张为其干洗店又买了一台干洗机
- B. 老李将一笔钱存入银行
- C. 老林购进一台机床
- D. 老赵购进 5000 只猪仔饲养

73. 社会越轨是指违反社会规范的行为，有积极性、消极性、中性三种不同类型。其中积极性社会越轨是对社会发展起积极进步作用的越轨行为。这种社会越轨是打破因循守旧、推动社会发展的动力之一。

根据以上定义，下列属于积极性社会越轨行为的是（ ）。

- A. 少年离家出走
- B. 未婚同居
- C. 年满 14 岁即拒绝父母抚养
- D. 美术教学中使用裸体模特

74. 广告证明是表明广告客户的主体资格是否合法和广告内容是否真实、合法的证明文件、证件和资料。

根据以上定义，可作为广告证明的一项是（ ）。

- A. 依法核准颁发的、表明广告发布者具有发布广告资格的证明文件
- B. 依法核准颁发的、表明广告经营者从事经营行为的《企业法人营业执照》及《经营许可证》
- C. 依法核准颁发的、表明广告客户具有生产某种产品的《生产许可证明》和《产品质量证明》
- D. 行政执法部门对广告发布者、广告经营者和广告客户违法发布广告依法作出的《行政处罚决定书》

75. 农业现代化是指把建立在直接经验和手工工具基础上的传统农业转变为以现代先进科学技术、生产手段和管理方法为基础的社会化农业的过程。

根据以上定义，下列与农业现代化含义不符的一项是（ ）。

- A. 建立合理的农业生产结构和农村经济结构，实现以生产商品化为核心的农业生产社会化
- B. 因地制宜，根据不同地区农业资源状况和农业生产条件的差异，使畜力耕作和农业机械化手段相结合
- C. 广泛运用发酵、基因、无土栽培等农业高新技术手段，实现农业生产技术科学化和集约化发展
- D. 走以实现贸工农一体化为中心，以高产、优质、高效为基本内容的农业产业化道路

76. 责任保险是指被保险人将其承担的法律责任，主要是民事侵权损害赔偿作为保险标的，向保险公司投保形成的保险形式。
根据上述定义，与责任保险定义不符的一项是（ ）。
- A. 产品制造商以产品质量问题造成消费者人身伤害而承担的赔偿责任为保险标的，进行投保形成的保险
- B. 执业律师以因职业原因可能造成他人财产损失而承担的赔偿责任为保险标的，进行投保形成的保险
- C. 企业团体以从事生产经营活动造成雇工人身伤害或财产损失而承担的赔偿责任为标的，进行投保形成的保险
- D. 企业、事业单位、社会团体以本单位在职职工因意外伤害事故致死、致残为保险标的，进行投保形成的保险
77. 公司分立是指公司依照法定的程序将公司分给两个或者两个以上的独立公司的行为。
根据以上定义，下列属于公司分立的是（ ）。
- A. 甲公司为扩大生产经营领域在 A 国和 B 国分别设立两家没有法人资格的分公司的行为
- B. 甲公司根据股东大会的决议，在 A 国和 B 国分别设立了两个具有法人资格的子公司，并仍然保留甲公司的法人资格的行为
- C. 甲公司为扩大生产经营领域在 A 国和 B 国设立了两家具有法人资格的子公司，并把甲公司迁往 C 国的行为
- D. 甲公司第一届股东大会通过决议，决定将公司资产、人员分为两部分，分别设立生产性公司和销售性公司，并撤销甲公司法人资格的行为
78. 光合作用指绿色植物的叶绿素在阳光照射下把水和二氧化碳合成有机物质并排出氧气的过程。
根据以上定义，下列与光合作用无关的是（ ）。
- A. 一颗种子长成参天大树
- B. 仙人掌在干燥的环境中生长
- C. 细菌分解植物残叶
- D. 农家玉米的成长
79. 发散思维，又称求异思维。是指从一个目标出发，沿着各种不同的途径去思考，探求多种答案的思维，与聚合思维相对。发散思维具有流畅性、灵活性、独创性等特点。
根据以上定义，下列不属于发散思维法的是（ ）。
- A. 太阳—取暖—热量
- B. 波浪线—海浪—声响
- C. 毛衣—棉毛—纤维
- D. 花朵—儿童—未来
80. “注意”是有选择地指向和集中于一定对象或活动的心理状态。“注意”可按其产生和维持是否出于自觉的意图和努力两分为“有意注意”和“无意注意”。
根据以上定义，下列关于同学们状态的描述属于“有意注意”的是（ ）。
- A. 张某在上课铃响后两分钟赶到教室，他在门口大声喊“报告”，使同学们的注意状态都转向了张某
- B. 在讲到文革时期的事时，李老师突然从讲台下拿出一张放大的旧照片，同学们的眼球立即被吸引住了
- C. 黄教授在台上滔滔不绝地作了近一个半小时的报告仍无倦态，突然停电，话筒无声，台下原本低声交谈的上千名学生反而一下子安静下来
- D. 刘老师说：“下面公布本次考试范围。”全体同学马上拿出本子，准备记下来

三、类比推理。每道题先给出一组相关的词，要求你在备选答案中找出一组与之在逻辑关系上最为贴近，相似或匹配的词。

请开始答题：

81. 理念：行动
 A. 哲学：席位
 C. 航标：航行
 B. 文学：创作
 D. 文化：传统
82. 过滤：纯净
 A. 绿化：植被
 C. 痛苦：悲伤
 B. 努力：成功
 D. 波浪：潮汐
83. 可口：饭菜
 A. 高兴：开心
 C. 活跃：气氛
 B. 郑重：答案
 D. 团圆：月亮
84. 科学：逻辑
 A. 报社：报纸
 C. 水壶：水杯
 B. 运动会：足球场
 D. 电器：电视机
85. 森林：煤
 A. 蛋：鸡
 C. 河流：海洋
 B. 雨水：空气
 D. 事件：历史
86. 电：电灯
 A. 纸：纸张
 C. 河：河流
 B. 风：风筝
 D. 石：石块
87. 军衔：将军
 A. 教室：校长
 C. 街道：汽车
 B. 土坡：巨石
 D. 商标：商品
88. 狗：鼠
 A. 马：牛
 C. 狼：狗
 B. 猫：虎
 D. 鹅：鸭
89. 西藏：新疆
 A. 陕西：内蒙古
 C. 甘肃：宁夏
 B. 广西：广东
 D. 重庆：天津
90. 西红柿：蕃茄
 A. 土豆：玉米
 C. 棉花：花生
 B. 蝉：知了
 D. 冬瓜：南瓜

四、逻辑判断。每道题给出一段陈述，这段陈述被假设是正确的，不容置疑的。要求你根据这段陈述，选择一个答案。注意：正确的答案应与所给的陈述相符合，不需要任何附加说明即可以从陈述中直接推出。

请开始答题：

91. 想从事律师工作的学生，都报考法律专业。毛宁报考了法律专业，他一定想从事律师工作。以下哪项为真，最能支持上述观点？（ ）
 A. 所有报考法律专业的考生都想从事律师工作
 B. 有些律师是大学法律专业毕业生
 C. 想从事律师工作的人有些报考了法律专业
 D. 有不少律师都有法律专业学位
92. 一项研究表明，那些在舒适环境里工作的人比在不舒适环境里工作的人生产效率高 25%。评价工作绩效的客观标准包括承办工件数和工件的复杂程度。这表明：日益改善的工作环境可以提高工人的生产效率。以下哪项为真，最能削弱上述结论？（ ）

- A. 平均来说, 生产效率低的员工每天在工作场所的时间比生产效率高的员工要少
 B. 舒适的环境比不舒适的环境更能激励员工努力工作
 C. 生产效率高的员工通常得到舒适的工作环境作为回报
 D. 生产效率高的员工不会比生产效率低的员工工作时间长
93. 古时候, 有四个长工在推测财主的财富到底有多少。甲说: 他的钱不会超过 25 万贯。乙说: 他的钱不会超过 30 万贯。丙说: 他的钱绝对在 40 万贯以上。丁说: 他的钱肯定没有 50 万贯。实际上只有一个长工说对了。
 以下哪一项为真, 可支持上述的观点? ()
 A. 甲说的对
 B. 财主的钱在 50 万贯以上
 C. 财主的钱财在 40 万贯~50 万贯之间
 D. 丁说的对
94. 某大学的章程规定, 校总理事会由该大学所有在世的校友组成, 它拥有处理有关章程事务的权力: 由 20 名成员组成的评议会通过多数票方式来管理日常事务。一项新的提议认为, 可以通过评议员全体投票一致的方法来修改大学章程。
 若以上论述正确, 可得到下列哪一项结论? ()
 A. 这项提议只有在评议会全体成员一致支持的情况下才会生效
 B. 采用这个提议将允许未经总理事会同意的情况下, 就能通过对章程的修改
 C. 评议会的每个成员对该机构的任何提议都有表决权
 D. 采用这个新的提议将会增加该大学在世校友管理大学事务的表决权力
95. 流感通常由受感染的个人传染给在他附近工作的人, 因此抑制流感症状的药实际上增加流感的受感染人数, 因为这种抑制流感的药使本应在家中卧床休息的人, 在受感染时返回到工作场所。
 如果以上论述正确, 下列哪项最有力地反驳了这一推断? ()
 A. 这种抑制流感的药, 能抑制流感的主要传染方式——咳嗽
 B. 某些常用于抑制流感的药, 也常常被用来治疗未感染流感的病人
 C. 很多感染了流感本应呆在家中休息的工人在继续工作, 因为流感症状降低了他们工作的效率
 D. 为了避免将流感传染给超过 65 岁退休在家的人, 大多数成年人采取了防疫手段预防流感
96. 在美国纽约, 鳄鱼皮制成的女式提包, 按尺寸大小标价 1500~4000 美元不等, 因此, 很多人都将鳄鱼皮视为财富的象征。
 由此可以推出 ()。
 A. 拥有鳄鱼皮的人被认为比拥有黄金、钻石的人更富有
 B. 为了显示财富, 富有的人可能会去购买鳄鱼皮制成的提包
 C. 人一旦富有, 都想拥有一定数量的鳄鱼皮制品
 D. 拥有鳄鱼皮制品的人都是真正富有的人
97. 为了防止森林火灾, 美国的森林专家想出了一个“以火防火”的好办法: 要求森林管理人员定期选择风速小、气温低、湿度大的天气, 人为烧去乔木下面的小树、灌木、干枝和枯叶, 以预防自然起火, 并有助于扑灭森林大火。
 由此不可推出的结论是 ()。
 A. 预防森林火灾要求森林管理人员应主动积极, 对森林火灾预先设“防”就是有效的防火措施
 B. 预防森林火灾应该研究森林起火的成因以及森林火灾难以扑灭的主要原因
 C. “以火防火”的森林火灾预防措施, 深具启发性, 森林管理人员可以在森林季节性防火中加以采用

- D. 森林管理人员如果定期清除森林中的干枝、枯叶、杂草、小树和灌木就可以防止森林大火
98. 有人认为鸡蛋黄的黄色跟鸡所吃的绿颜色的植物性饲料有关。
为了验证这个结论，最应当作为选项的是（ ）。
- A. 选出不同品种的蛋鸡，喂同样的植物性饲料
 - B. 比较饲料的营养成份，选择一批品种优良的鸡蛋进行实验
 - C. 对同一批蛋鸡逐渐增加或减少植物性饲料的比例
 - D. 选择品种等级完全相同的蛋鸡，一半的鸡喂植物性饲料，一半的鸡喂非植物性饲料
99. 从“多门之屋生风，多嘴之人生祸”出发，必然能推出（ ）。
- A. 多门之屋可能生风，多嘴之人可能生祸
 - B. 多门之屋必然生风，多嘴之人必然生祸
 - C. 多门之屋可能不生风，多嘴之人可能不生祸
 - D. 多门之屋必然不生风，多嘴之人必然不生祸
100. 核电站遍布于世界各地。核电站运行噪音低，所产生的电能也较为廉价。正常运行的核电站不会污染环境。因此，核电站不会产生任何危害。
如果以上论述正确，以下哪项对上述结论提出了最严重的质疑？（ ）
- A. 一旦发生核泄露，就会对当地的环境产生严重核污染
 - B. 建设核电站会对当地的居民造成一定程度的心理恐慌
 - C. 核电站产生的核废料，会释放出对生物体极其有害的高能粒子和射线，其危害性在很长一段时间内都不会消失
 - D. 开发核电的过程极其复杂，成功的开发和安全维护需要政府付出高昂的代价

第五部分 资料分析

针对下列图、表或文字回答问题。你应根据资料提供的信息进行分析、比较、计算、处理。你可以在题本上运算。

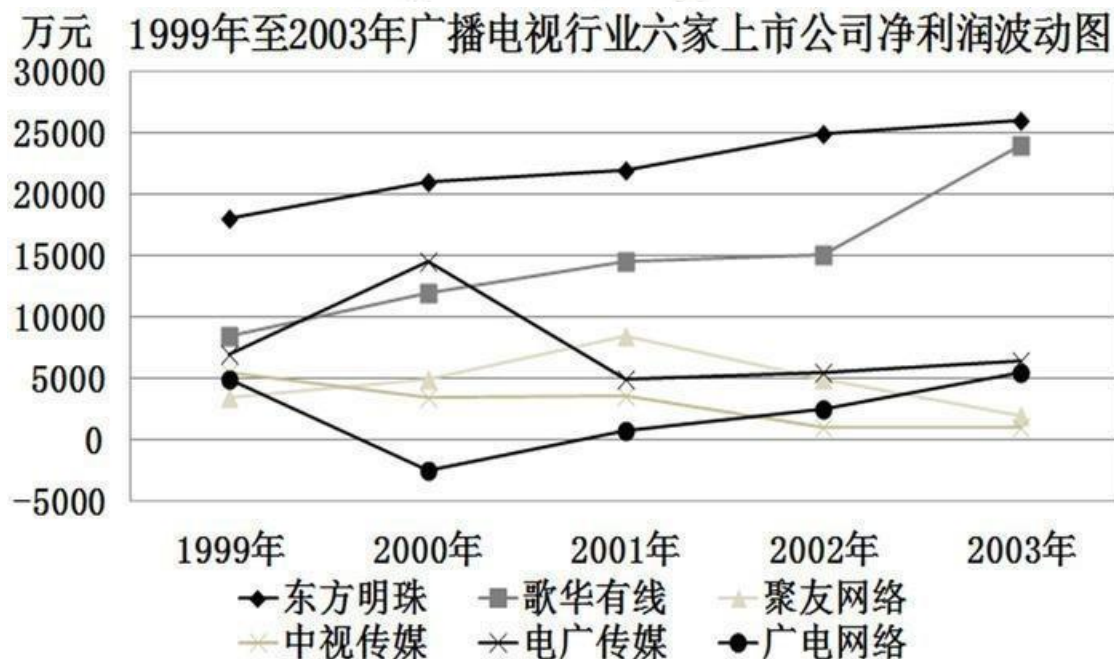
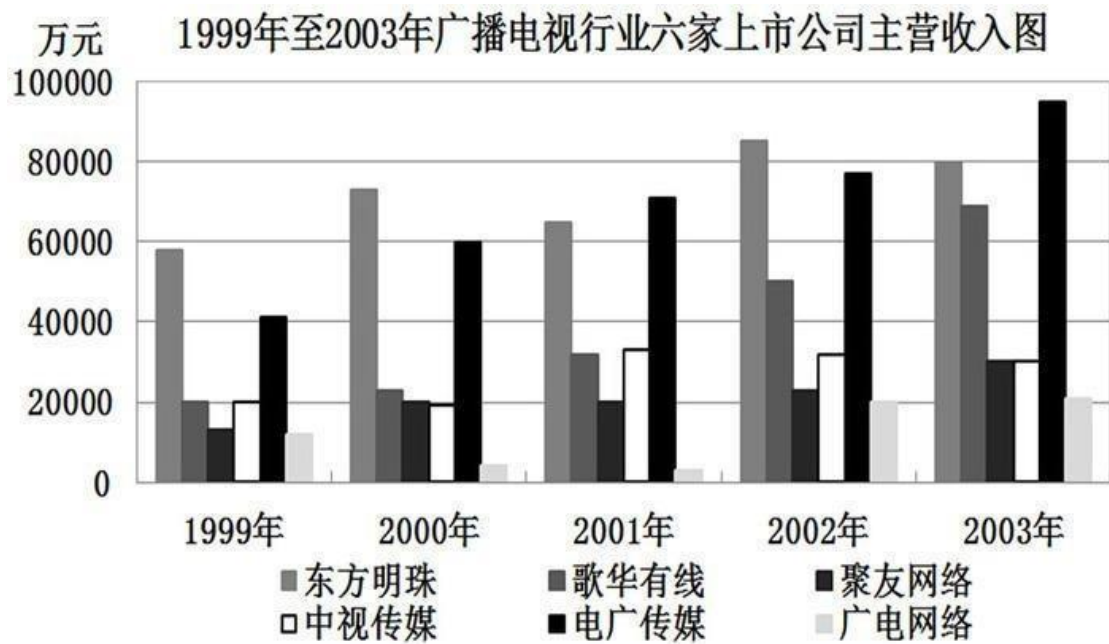
请开始答题：

一、根据以下资料，回答问题。

2002年和2003年某省沿海开放地区部分经济指标（产值单位：亿元；人口单位：万人）

项目		合计		占全省比重(%)	
		2002年	2003年	2002年	2003年
地区生产总值		3972.26	4546.68	82.0	82.3
其 中	第一产业	444.34	459.62	66.8	66.3
	第二产业	1933.93	2297.78	85.5	85.6
	第三产业	1593.99	1789.28	83.3	83.4
地区年末总人口		2357.92	2375.29	70.8	70.9

101. 2003年该省沿海开放地区生产总值比2002年增长了（ ）。
A. 0.3% B. 14.5%
C. 8.2% D. 82.3%
102. 2003年该省生产总值约为（ ）。
A. 4844亿元 B. 6004亿元
C. 5525亿元 D. 4506亿元
103. 2002年该省人均生产总值约为（ ）。
A. 14545元 B. 16490元
C. 16847元 D. 19142元
104. 2003年该省沿海开放地区产业结构中，与上一年相比，产值增长率最高的是（ ）。
A. 第一产业 B. 第二产业
C. 第三产业 D. 地区生产总值
105. 与2002年相比，对2003年经济指标判断正确的是（ ）。
A. 沿海开放地区第一产业产值增长率高于全省第一产业产值增长率
B. 相比较其它产业而言，第一产业是沿海开放地区的支柱产业
C. 沿海开放地区的产业结构中，除了第一产业，产值增长率均超过全省平均水平
D. 人口增长率低于全省水平是沿海开放地区人均生产总值高于全省水平的重要原因
- 二、根据以下资料，回答问题。



106. 五年中, 电广传媒主营收入不低于 5 亿元的年份共有 ()。

- A. 1 个 B. 2 个
C. 3 个 D. 4 个

107. 自 2000 年至 2003 年, 广播电视行业六家上市公司中, 净利润一直保持增长的是 ()。

- A. 东方明珠与聚友网络 B. 中视传媒与电广传媒
C. 歌华有线与东方明珠 D. 广电网络与歌华有线

108. 2001 年, 广播电视行业六家上市公司中, 主营收入比上一年减少, 但净利润却增长的是 ()。

- A. 东方明珠与广电网络 B. 东方明珠
C. 歌华有线与聚友网络 D. 中视传媒与电广传媒

109. 自 2000 年至 2003 年, 广播电视行业六家上市公司中, 主营收入逐年递增的公司总数为 ()。

- A. 2
C. 4
- B. 3
D. 5

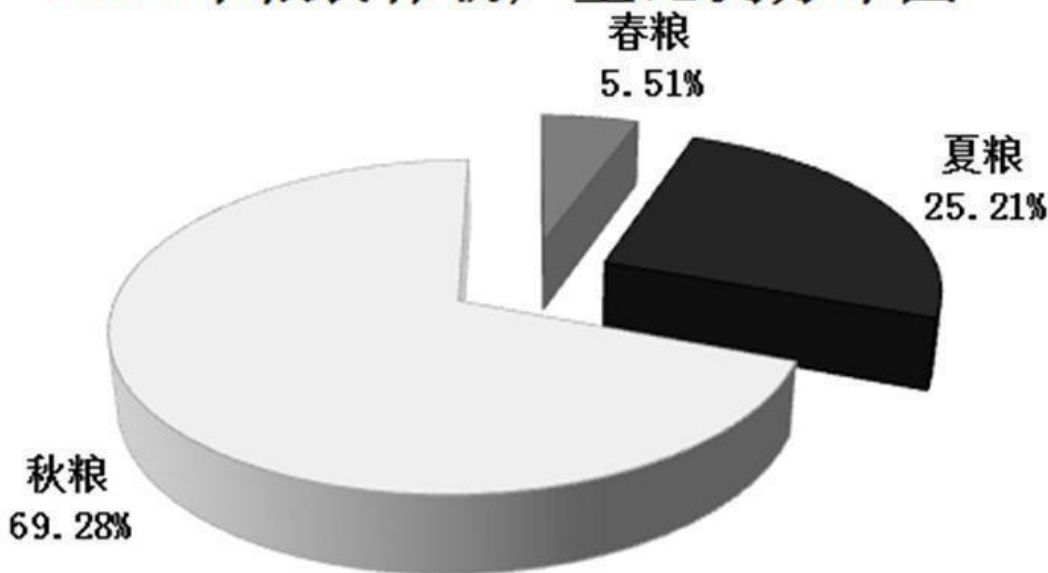
110. 自 1999 年至 2003 年，对广播电视行业六家上市公司的经营情况，判断错误的是（ ）。

- A. 主营收入年均增长率最大的是歌华有线
B. 净利润年均增长率出现负值的只有广电网络
C. 净利润年均下跌最多的是中视传媒
D. 主营收入与净利润都逐年递增的公司只有歌华有线

三、根据以下资料，回答问题。

2004 年某省种植业结构继续调整，粮食作物的种植面积占农作物种植总面积比例由上年的 60.2% 调整为 58.4%，全年粮食作物种植面积 147.11 万公顷，比去年减少 9.0 万公顷，粮食总产量 713.16 万吨，其中春、夏、秋粮约产量所占比例如下图所示。与去年相比，春粮减产 5.31 万吨，夏粮减产 2.37 万吨，秋粮减产 42.38 万吨，总产量下降 50.06 万吨。非粮食作物中的油料、蔬菜、药材种植面积分别增长 1.3%、3.0% 和 15.9%；烟叶和甘蔗种植面积分别减少 8.7% 和 1.1%；蔬菜、瓜果、油料、甘蔗等产量均有不同程度的增长。

2004 年粮食作物产量比例分布图



111. 2004 年，非粮食作物种植面积增长率最大的是（ ）。

- A. 油料
C. 药材
- B. 蔬菜
D. 烟叶

112. 2004 年，粮食与非粮食作物种植面积比为（ ）。

- A. 301:199
C. 301:208
- B. 73:52
D. 199:208

113. 2003 年非粮食作物的种植总面积约（ ）。

- A. 62 万公顷
C. 138 万公顷
- B. 156 万公顷
D. 103 万公顷

114. 2004 年，粮食作物的种植面积与总产量比 2003 年减少的百分比分别约为（ ）。

- A. 5.8% 与 6.6%
C. 60.2% 与 15.9%
- B. 1.8% 与 11.95%
D. 1.8% 与 6.6%

115. 利用以上图文提供的信息，通过计算可以推知（ ）。

- ①2003 年粮食作物的亩产量
- ②2003 年烟叶和甘蔗的种植面积
- ③2004 年春、夏、秋粮的实际产量
- ④2004 年油料、蔬菜、药材的产量增长的百分比

A. ①②

B. ①③

C. ③④

D. ②④